

Je fais le point CM

Nom | _____ Prénom | _____ Date | _____

<http://laclasselleve.fr/>


Notre pays, la France

Exercice n° 1

Colorie la France et ses proches voisins et légende cette carte.



<input type="checkbox"/>	_____
<input type="checkbox"/>	_____
<input type="checkbox"/>	_____
<input type="checkbox"/>	_____
<input type="checkbox"/>	_____
<input type="checkbox"/>	_____
<input type="checkbox"/>	_____
<input type="checkbox"/>	_____
<input type="checkbox"/>	_____



Compétence**Score****Evaluation****Nommer + situer sur une carte la France et ses proches voisins.****/16**Exercice n° 2Colorie la bonne réponse.a) Quel est le plus vaste pays de l'Union Européenne ?

l'Italie	la Belgique	l'Allemagne	la France	l'Espagne
----------	-------------	-------------	-----------	-----------

b) Quelle forme géométrique a la France métropolitaine ?

celle d'un quadrilatère	celle d'un hexagone	celle d'un octogone	celle d'un décagone
-------------------------	---------------------	---------------------	---------------------

c) Quel autre nom donne-t-on au territoire français situé en Europe ?

la métropole	la mégalopole	le métronome	la tarte aux pommes
--------------	---------------	--------------	---------------------

Exercice n° 3Réponds à ces questions.

1) La France est un pays <u>rural</u> .	<input type="checkbox"/> Vrai <input type="checkbox"/> Faux
2) La majorité des français vivent <u>en ville</u> .	<input type="checkbox"/> Vrai <input type="checkbox"/> Faux
3) La France compte aujourd'hui environ <u>67 millions d'habitants</u> .	<input type="checkbox"/> Vrai <input type="checkbox"/> Faux
4) La France est <u>le pays le plus peuplé</u> de l'Union Européenne.	<input type="checkbox"/> Vrai <input type="checkbox"/> Faux
5) La France est <u>un des pays les plus riches</u> de la planète.	<input type="checkbox"/> Vrai <input type="checkbox"/> Faux

Compétence**Score****Evaluation****Connaître les principales caractéristiques de la France.****/8**Exercice n° 4Réponds à ces questions.a) Qu'est-ce que la « France d'outre-mer » ?

b) Cite le nom d'au moins un territoire français situé dans l'océan Atlantique.

c) Cite le nom d'au moins un territoire français situé dans l'océan Indien.

Compétence

Score


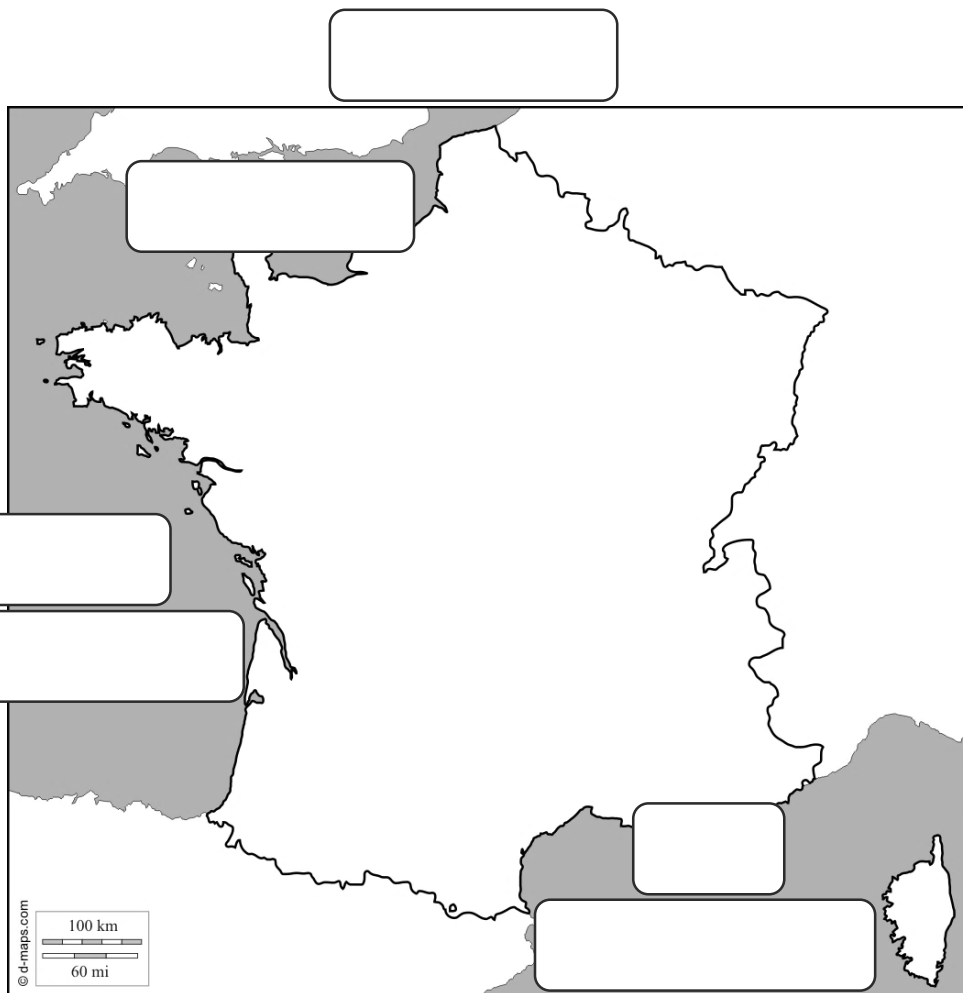
Evaluation

Savoir ce qu'est la France d'outre-mer + connaître des territoires d'outre-mer et leur localisation.

/7

Exercice n° 5

Complète la carte des mers et océan qui bordent la France.



Compétence

Score

Evaluation

Nommer + situer sur une carte les mers et l'océan qui bordent la métropole.

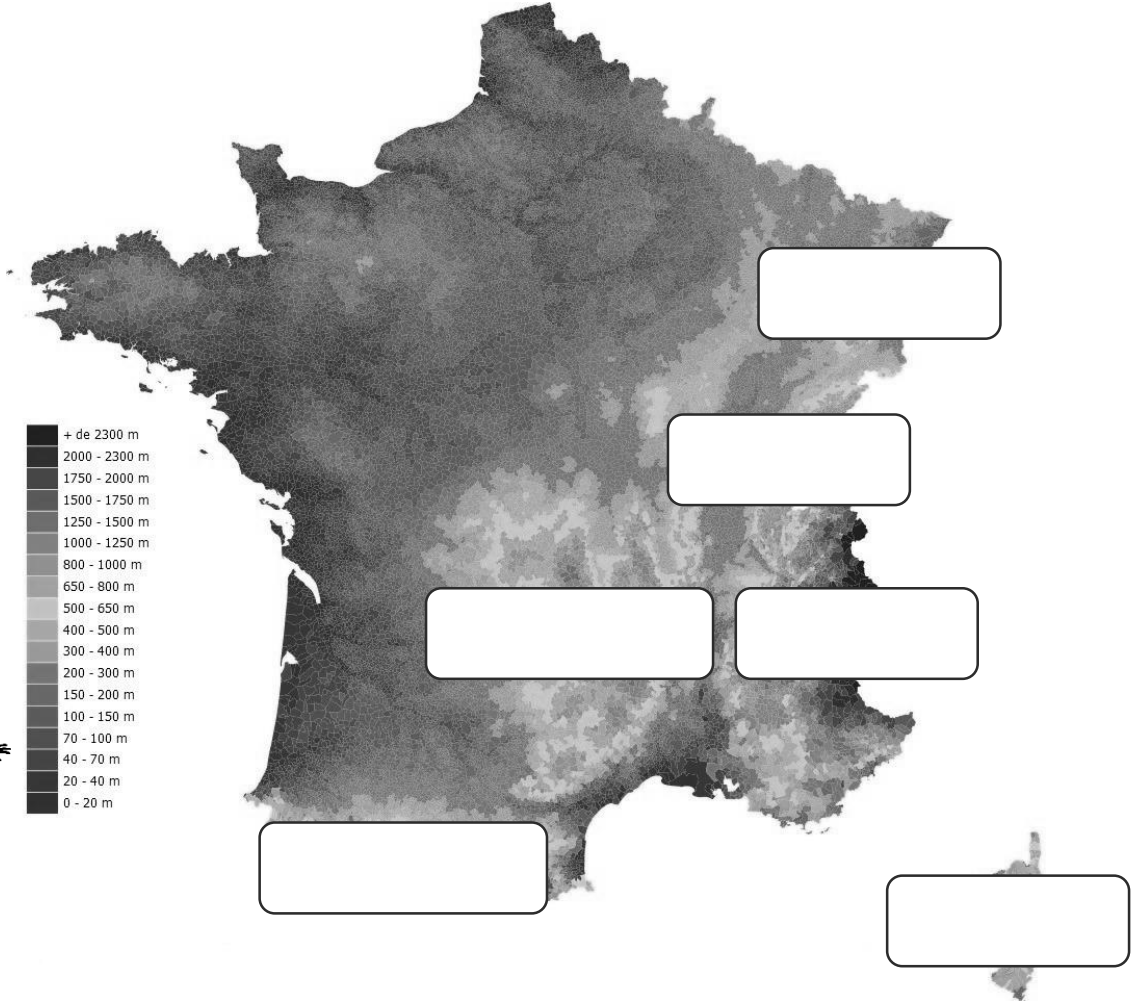
/8

Exercice n° 6

Complète la carte du relief de la France.



- + de 2300 m
- 2000 - 2300 m
- 1750 - 2000 m
- 1500 - 1750 m
- 1250 - 1500 m
- 1000 - 1250 m
- 800 - 1000 m
- 650 - 800 m
- 500 - 650 m
- 400 - 500 m
- 300 - 400 m
- 200 - 300 m
- 150 - 200 m
- 100 - 150 m
- 70 - 100 m
- 40 - 70 m
- 20 - 40 m
- 0 - 20 m



Compétence

Score

Evaluation

Nommer + situer sur une carte les zones de montagnes françaises.

/12