

Je fais le point



<http://laclassebleue.fr/>

<u>Nom</u>	
------------	--

<u>Prénom</u>	
---------------	--

<u>Date</u>	
-------------	--

Calcul Les moitiés

Exercice n° 1

Calcule les moitiés.

--	--	--	--	--	--	--	--	--	--

Compétence

Score

Evaluation

Calculer la moitié d'un nombre pair inférieur à 100.

/10

Nombres

Les nombres jusqu'à 100 000

Exercice n° 2

Ecris en chiffres.

.....	vingt-six-mille-sept-cents
.....	quatorze-mille-six-cent-vingt-huit
.....	cinquante-neuf-mille-trente-deux
.....	quatre-vingt-mille-quatre-cent-trois
.....	soixante-treize-mille-huit-cent-neuf



Ecris en lettres.

34 500	
--------	--

45 012	
93 008	
15 271	
68 146	

Compétence	Score	Evaluation
Ecrire les nombres jusqu'à 100 000 en chiffres et en lettres.	/10	

Exercice n° 3

Colorie les étiquettes qui font 47 520.

$40\ 000 + 7\ 000 + 500 + 20$

$47 + 520$

4752×10

$47\ 500 + 20$

$47\ 000 + 20$

$47\ 000 + 520$

$47 + 1\ 000 + 520$

$(4 \times 10\ 000) + (7 \times 1\ 000) + (5 \times 100) + (2 \times 10)$

Compétence	Score	Evaluation
Retrouver les différentes décompositions d'un nombre à 5 chiffres.	/8	

Exercice n° 4

Ranger dans l'ordre croissant.

38 460	38 700	29 039	25 634	38 459	29 001
--------	--------	--------	--------	--------	--------

Compétence	Score	Evaluation
Ranger des nombres à 5 chiffres dans l'ordre croissant.	/6	

Résoudre un problème faisant intervenir des partages.

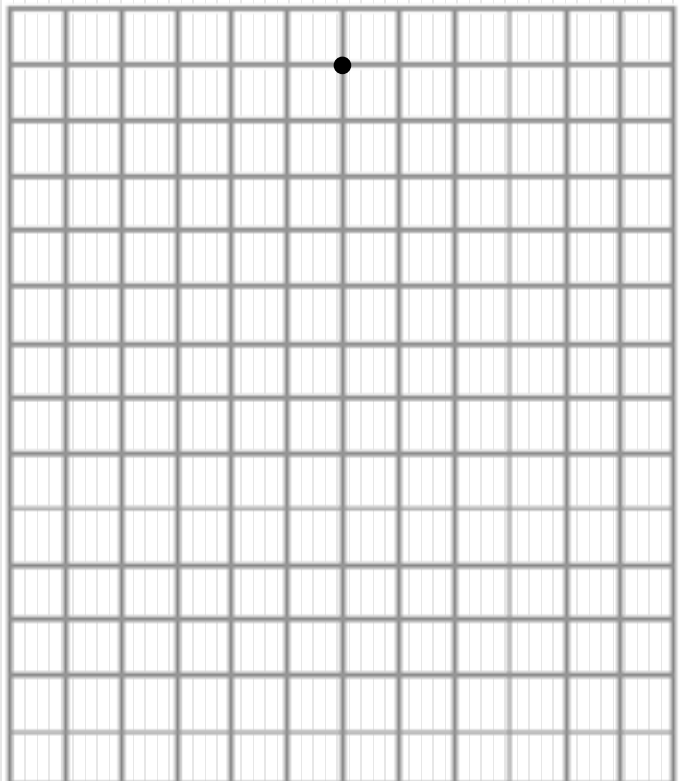

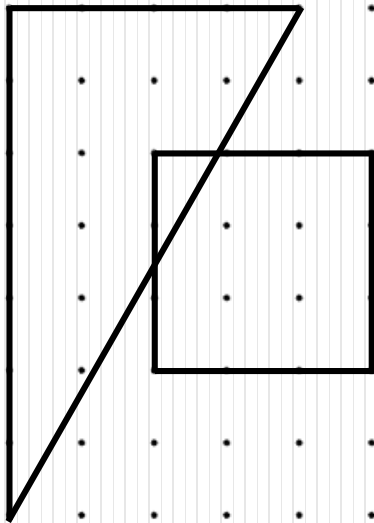
18

Géométrie

Reproduction de figures

Exercice n° 6

Reproduis ces figures.



Compétence

Score

Evaluation

Reproduire des figures sur différents papiers.

/10

Mesures


Mesurer des durées

Exercice n° 7

Calcule la durée écoulée entre les deux instants indiqués par les horloges.



Il s'est écoulé



Il s'est écoulé

Compétence

Score

Evaluation

Calculer la durée écoulée entre deux instants donnés.

/4

Exercice n° 8

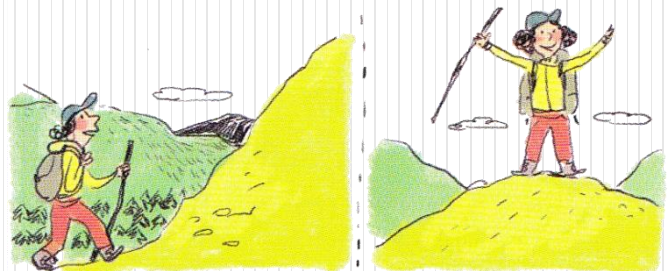
Résous ces problèmes.

① A midi.

Kiyan et Laura partent à la cantine. 45 minutes plus tard, ils sortent jouer dans la cour.

A quelle heure sortent-ils dans la cour ?

② Combien de temps la randonnée a-t-elle duré ?



Départ : 8 h 20

Arrivée : 10 h 40

Compétence

Score

Evaluation

Résoudre un problème impliquant des mesures de durées.

/4