

<u>Nom</u>	
------------	--

<u>Prénom</u>	
---------------	--

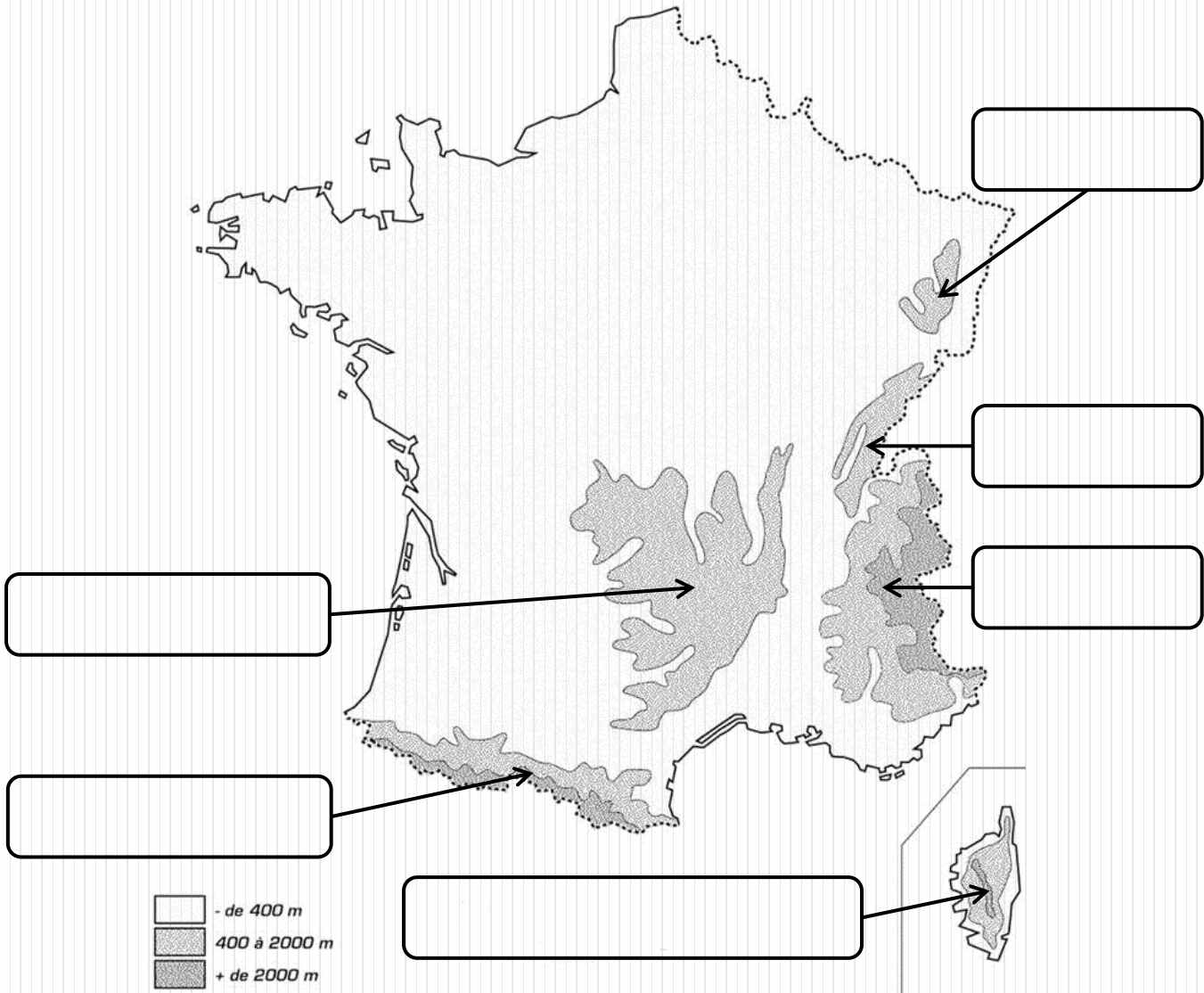
<u>Date</u>	
-------------	--

## Géographie

### Les montagnes françaises

#### Exercice n° 1

Ecris le nom des montagnes sur cette carte de France.



Compétence

Score

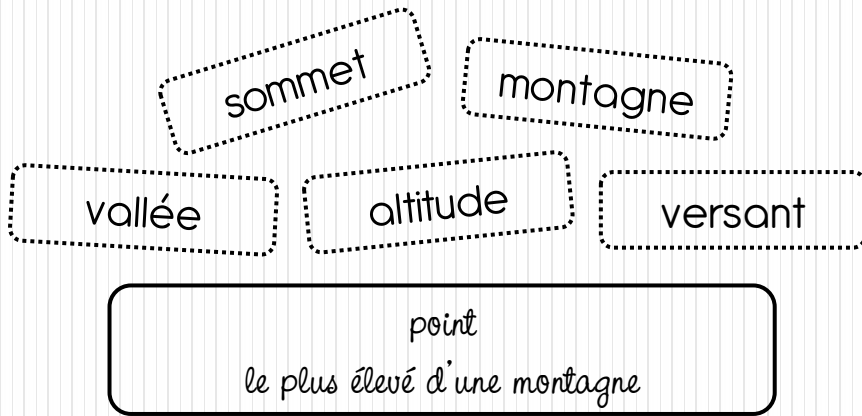
Evaluation

Connaître le nom des montagnes françaises + savoir les situer.

/12

## Exercice n° 2

Colorie chaque mot de la même couleur que sa définition.



partie inclinée située  
entre le pied et le sommet de la montagne

espace allongé entre deux montagnes,  
au fond duquel coule une rivière

relief  
où l'altitude est supérieure à 500 m

hauteur d'un lieu,  
mesurée par rapport au niveau de la mer

### Compétence

Score

Evaluation

Connaître le lexique de la montagne.

15

## Exercice n° 3

Réponds à ces questions.

a) Cite le nom des 4 hautes montagnes françaises.

b) Cite le nom des 2 moyennes montagnes françaises.

c) À quoi reconnaît-on une moyenne montagne ?

### Compétence

Score


Evaluation

Connaître les différents types de montagnes.

17

Exercice n° 4

Replace le nom des différents étages de la végétation en montagne.



Exercice n° 5

Coche la bonne réponse.

1) En montagne, la végétation est la même partout.	<input type="checkbox"/> Vrai <input type="checkbox"/> Faux
2) Dans la vallée, on trouve des champs de fleurs et des feuillus.	<input type="checkbox"/> Vrai <input type="checkbox"/> Faux
3) L'étage de la forêt accueille plutôt des conifères.	<input type="checkbox"/> Vrai <input type="checkbox"/> Faux
4) En haute montagne, on ne trouve que de la neige.	<input type="checkbox"/> Vrai <input type="checkbox"/> Faux

Compétence	Score	Evaluation
Connaître les différents étages de la végétation de la montagne + leurs principales caractéristiques.	18	