

Je fais le point



<http://laclassebleue.fr/>

<u>Nom</u>	
------------	--

<u>Prénom</u>	
---------------	--

<u>Date</u>	
-------------	--

Calcul mental Dictée de nombres

Exercice n° 1

Ecris les nombres (dictée).

--	--	--	--	--	--

Compétence

Score

Evaluation

Ecrire un nombre inférieur à 10 000 sous la dictée.

16

Calcul Multiplier par 10, 100, 1 000

Exercice n° 2

Calcule sans poser l'opération.

$34 \times 10 = \dots\dots\dots$

$91 \times 100 = \dots\dots\dots$

$57 \times 1\,000 = \dots\dots\dots$

$68 \times 100 = \dots\dots\dots$

$72 \times 1\,000 = \dots\dots\dots$

$29 \times 100 = \dots\dots\dots$

$85 \times 100 = \dots\dots\dots$

$40 \times 10 = \dots\dots\dots$

$16 \times 1\,000 = \dots\dots\dots$

$521 \times 10 = \dots\dots\dots$

$100 \times 87 = \dots\dots\dots$

$10 \times 1\,000 = \dots\dots\dots$



Compétence

Score

Evaluation

Multiplier par 10, 100 ou 1 000.

12

Exercice n° 3Effectue les opérations avec ta calculatrice.Colorie le résultat exact.

$264 \times 37 = \dots\dots\dots$

301

9 549

9 768

$595 + 324 + 87 = \dots\dots\dots$

1326

1006

906

$7\ 352 - 696 = \dots\dots\dots$

6 656

6 646

6 465

$486 \times 3 \times 5 = \dots\dots\dots$

7 290

1458

2 430

$5\ 562 + 43 + 710 = \dots\dots\dots$

6 272

6 315

6 305

$9\ 321 - 878 = \dots\dots\dots$

8 743

10 199

8 443

Compétence**Score****Evaluation**

Utiliser la calculatrice pour effectuer un calcul.

/6

Exercice n° 4Ecris les résultats !Coche quand tu calcules plus vite de tête qu'avec une calculatrice.

$25 \times 39 = \dots\dots\dots$

$7\ 637 - 2\ 908 = \dots\dots\dots$

$400 + 200 = \dots\dots\dots$

$10 \times 300 = \dots\dots\dots$

$870 - 100 = \dots\dots\dots$

$316 + 9 + 5\ 722 = \dots\dots\dots$

$3\ 866 + 2\ 957 = \dots\dots\dots$

$5\ 000 - 2\ 000 = \dots\dots\dots$

$6 \times 1\ 000 = \dots\dots\dots$

$423 \times 9 = \dots\dots\dots$

Compétence**Score****Evaluation**

Savoir utiliser la calculatrice à bon escient.

/10

Problèmes
Trier des données

Exercice n° 5

Résous ces problèmes.

Attention aux données inutiles !

Problème n° 1

André chausse du 43. Il achète une paire de baskets à 79 € et un lot de 3 paires de chaussettes de tennis valant 15 €, taille 37, pour son fils.

Combien André va-t-il dépenser ?

Problème n° 2

Mme Léon, âgée de 32 ans, a 26 élèves dans sa classe.

À la rentrée des classes, elle commande 8 boîtes de 125 crayons de couleur.

Mme Léon va se marier dans 10 jours.

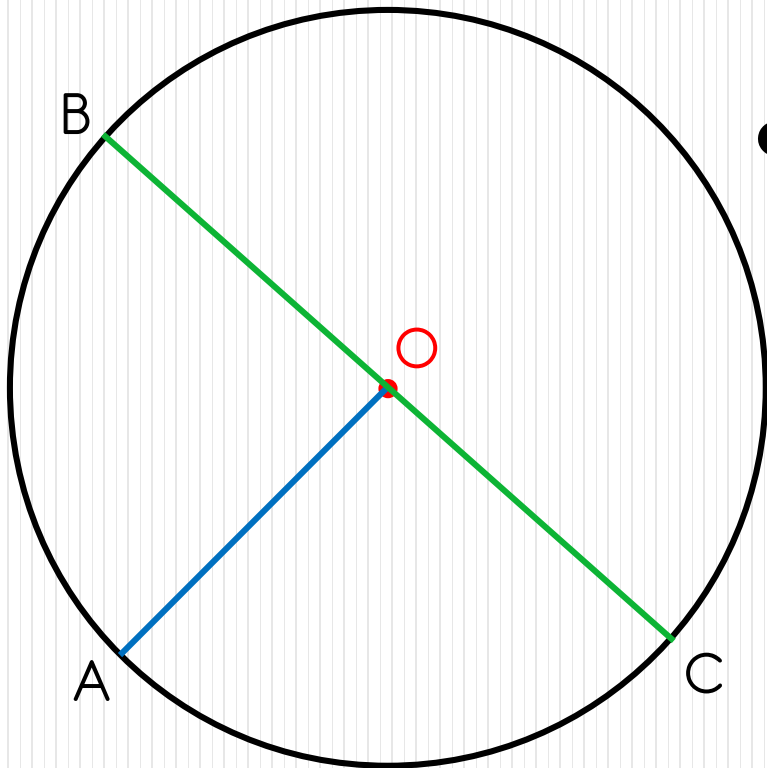
Combien aura-t-elle de crayons en tout ?

Traiter et résoudre un problème complexe.

18

Géométrie

Le cercle

Exercice n° 6Coche la bonne réponse.

① O est le centre du cercle.

<input type="checkbox"/> Vrai	<input type="checkbox"/> Faux
-------------------------------	-------------------------------

② C'est un diamètre du cercle :

<input type="checkbox"/> [OA]	<input type="checkbox"/> [OB]	<input type="checkbox"/> [BC]
-------------------------------	-------------------------------	-------------------------------

③ O est au milieu du segment [BC].

<input type="checkbox"/> Vrai	<input type="checkbox"/> Faux
-------------------------------	-------------------------------

Complète.

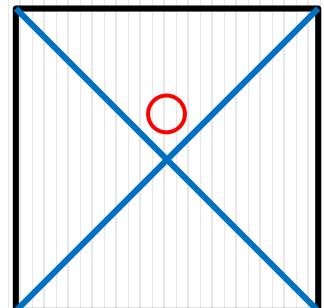
④ [OA] est un du cercle.

Connaître le vocabulaire du cercle.

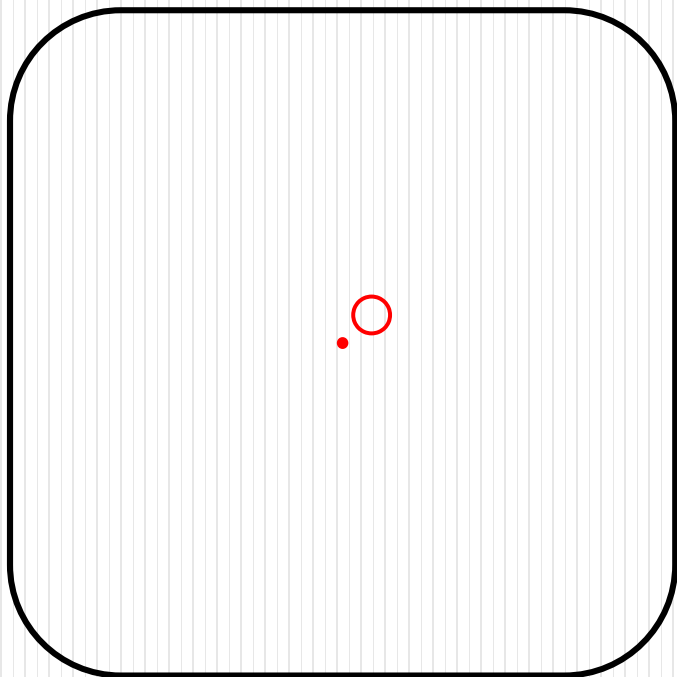
14

Exercice n° 7Réalise les tracés demandés.

Trace
un cercle de centre O
et qui passe par les 4 sommets du carré.



Trace
 un cercle qui aura pour centre
 le point O
 et un rayon de 3 cm de longueur.



Compétence

Score

Evaluation

Tracer des cercles soignés et précis à l'aide du compas.

16

Mesures

Se repérer dans l'année

Exercice n° 8

Réponds aux questions à l'aide du calendrier.

① Quel jour de la semaine sera le 16 août ?

.....

② Combien de jeudis comptera le mois de juillet ?

.....

③ Octobre compte 31 jours : vrai ou faux ?

Vrai Faux

④ La fête des mères a lieu le dernier dimanche du mois de mai. Cette année, ce sera le... (écris la date entière) :

.....

⑤ Les vacances de printemps commenceront le samedi 19 avril et se termineront le lundi 5 mai. Combien de jours vont-elles durer ?

.....

Compétence

Score

Evaluation

Se repérer dans un calendrier.

15

Calendrier 2014

Janvier	Février	Mars	Avril	Mai	Juin	Juillet	Août	Septembre	Octobre	Novembre	Décembre
1 M	1 S	1 S	1 M	1 J	1 D	1 M	1 V	1 L	1 M	1 S	1 L
2 J	2 D	2 D	2 M	2 V	2 L	2 M	2 S	2 M	2 J	2 D	2 M
3 V	3 L	3 L	3 J	3 S	3 M	3 J	3 D	3 M	3 V	3 L	3 M
4 S	4 M	4 M	4 V	4 D	4 M	4 V	4 L	4 J	4 S	4 M	4 J
5 D	5 M	5 M	5 S	5 L	5 J	5 S	5 M	5 V	5 D	5 M	5 V
6 L	6 J	6 J	6 D	6 M	6 V	6 D	6 M	6 S	6 L	6 J	6 S
7 M	7 V	7 V	7 L	7 M	7 S	7 L	7 J	7 D	7 M	7 V	7 D
8 M	8 S	8 S	8 M	8 J	8 D	8 M	8 V	8 L	8 M	8 S	8 L
9 J	9 D	9 D	9 M	9 V	9 L	9 M	9 S	9 M	9 J	9 D	9 M
10 V	10 L	10 L	10 J	10 S	10 M	10 J	10 D	10 M	10 V	10 L	10 M
11 S	11 M	11 M	11 V	11 D	11 M	11 V	11 L	11 J	11 S	11 M	11 J
12 D	12 M	12 M	12 S	12 L	12 J	12 S	12 M	12 V	12 D	12 M	12 V
13 L	13 J	13 J	13 D	13 M	13 V	13 D	13 M	13 S	13 L	13 J	13 S
14 M	14 V	14 V	14 L	14 M	14 S	14 L	14 J	14 D	14 M	14 V	14 D
15 M	15 S	15 S	15 M	15 J	15 D	15 M	15 V	15 L	15 M	15 S	15 L
16 J	16 D	16 D	16 M	16 V	16 L	16 M	16 S	16 M	16 J	16 D	16 M
17 V	17 L	17 L	17 J	17 S	17 M	17 J	17 D	17 M	17 V	17 L	17 M
18 S	18 M	18 M	18 V	18 D	18 M	18 V	18 L	18 J	18 S	18 M	18 J
19 D	19 M	19 M	19 S	19 L	19 J	19 S	19 M	19 V	19 D	19 M	19 V
20 L	20 J	20 J	20 D	20 M	20 V	20 D	20 M	20 S	20 L	20 J	20 S
21 M	21 V	21 V	21 L	21 M	21 S	21 L	21 J	21 D	21 M	21 V	21 D
22 M	22 S	22 S	22 M	22 J	22 D	22 M	22 V	22 L	22 M	22 S	22 L
23 J	23 D	23 D	23 M	23 V	23 L	23 M	23 S	23 M	23 J	23 D	23 M
24 V	24 L	24 L	24 J	24 S	24 M	24 J	24 D	24 M	24 V	24 L	24 M
25 S	25 M	25 M	25 V	25 D	25 M	25 V	25 L	25 J	25 S	25 M	25 J
26 D	26 M	26 M	26 S	26 L	26 J	26 S	26 M	26 V	26 D	26 M	26 V
27 L	27 J	27 J	27 D	27 M	27 V	27 D	27 M	27 S	27 L	27 J	27 S
28 M	28 V	28 V	28 L	28 M	28 S	28 L	28 J	28 D	28 M	28 V	28 D
29 M		29 S	29 M	29 J	29 D	29 M	29 V	29 L	29 M	29 S	29 L
30 J		30 D	30 M	30 V	30 L	30 M	30 S	30 M	30 J	30 D	30 M
31 V		31 L		31 S		31 J	31 D		31 V		31 M