

Je fais le point CM₁

Nom

Prénom

Date

<http://laclassebleue.fr/>

Les Etats de l'Union Européenne

Exercice n° 1

Coche la bonne réponse.

1) L'union Européenne compte aujourd'hui 28 Etats.	<input type="checkbox"/> Vrai <input type="checkbox"/> Faux
2) Tous les pays européens font partie de l'Union Européenne.	<input type="checkbox"/> Vrai <input type="checkbox"/> Faux
3) La France fait partie de l'Union Européenne.	<input type="checkbox"/> Vrai <input type="checkbox"/> Faux
4) Paris est le siège des principaux bureaux de l'Union Européenne.	<input type="checkbox"/> Vrai <input type="checkbox"/> Faux
5) L'Union Européenne est peuplée d'environ 50 millions d'habitants.	<input type="checkbox"/> Vrai <input type="checkbox"/> Faux
6) La monnaie officielle de l'UE est l'euro.	<input type="checkbox"/> Vrai <input type="checkbox"/> Faux
7) D'autres pays ont demandé à rejoindre l'Union Européenne.	<input type="checkbox"/> Vrai <input type="checkbox"/> Faux

Exercice n° 2

Réponds à ces questions.

a) Les Etats de l'**UE** ont des règles démocratiques. J'en cite deux !

.....

.....

.....

b) Classe ces pays de l'UE du plus peuplé au moins peuplé.

<input type="radio"/> France	<input type="radio"/> Allemagne	<input type="radio"/> Royaume-Uni	<input type="radio"/> Italie	<input type="radio"/> Espagne
------------------------------	---------------------------------	-----------------------------------	------------------------------	-------------------------------

c) Cite le nom d'au moins 2 pays européens qui ne font pas encore partie de l'UE.

.....

Compétence	Score	Evaluation
Répondre à des questions portant sur l'UE (Etats, fonctionnement).	/14	

Exercice n° 3

Retrouve le nom du plus grand nombre de pays possible !

Niveau 1

1)
2)
3)
4)
5)

Niveau 2

6)
7)
8)
9)
10)

Niveau 3

11)
12)
13)
14)
15)

Niveau 4

16)
17)
18)
19)
20)

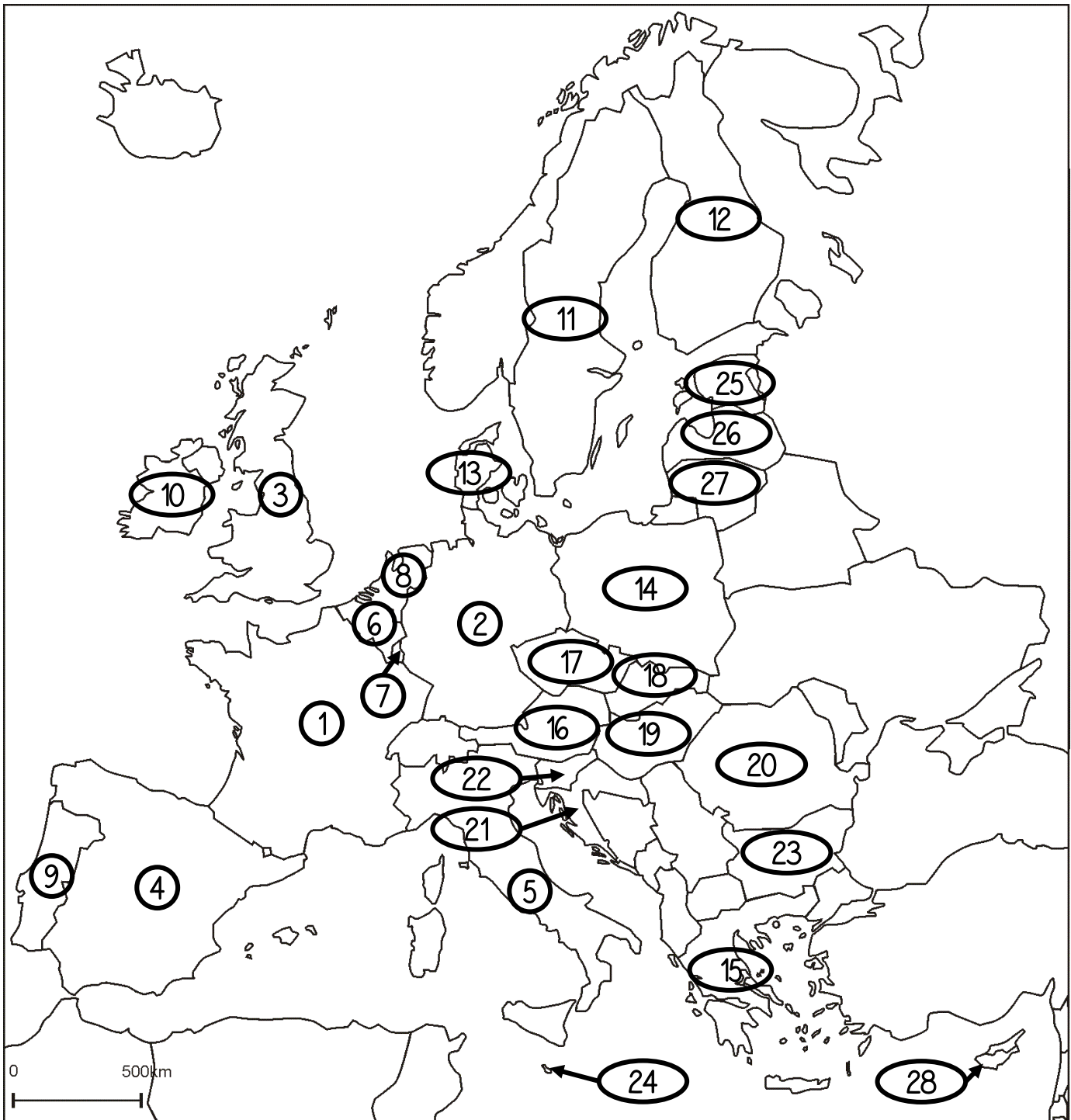
Niveau 5

21)
22)
23)
24)

Niveau 6

25)
26)
27)
28)

Les Etats de l'Union Européenne



Compétence

Score

Evaluation

Savoir placer sur une carte au moins 15 pays de l'UE.

/15

Exercice n° 4

Colorie chaque État et sa capitale de la même couleur !

Pays

France

Italie Royaume-Uni

Allemagne

Belgique Espagne

Capitales

Berlin

Londres Bruxelles

Paris

Madrid Rome

Compétence

Score

Évaluation

Connaitre le nom des principales capitales européennes.

/6


Bonus

Colorie ces drapeaux selon le code-couleur !

1	2	3	4	5	6
<i>vert</i>	<i>bleu ciel</i>	<i>rouge</i>	<i>bleu foncé</i>	<i>blanc</i>	<i>jaune</i>

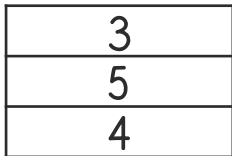
1	5	3
---	---	---


Italie



3
5
4

Pays-Bas

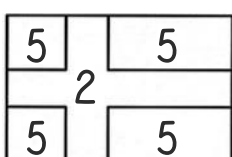




Royaume-Uni

5	5
2	
5	5

Finlande



Le drapeau de l'UE

