

Je fais le point

Nom Prénom Date

<http://laclasselleve.fr/>

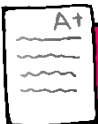
Les nombres de 0 à 9 999



Exercice n° 1

Ecris les nombres dictés par le maître.

Évaluation



Ecrire sous la dictée des nombres jusqu'à 9 999

/



Exercice n° 2

Ecris en chiffres.

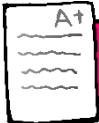
<input type="text"/>	mille-quatre-cent-cinquante
<input type="text"/>	six-mille-deux-cent-trente-sept

_____	huit-mille-neuf
_____	cinq-mille-trois-cents
_____	trois-mille-six-cent-quatre-vingt-quatorze

Ecris en lettres.

5 216	_____
4 700	_____
1 193	_____
7 975	_____
2 040	_____

Évaluation



Ecrire en chiffres et en lettres des nombres inférieurs à 10 000.




/ 15



Exercice n° 3

Décompose ces nombres. Observe l'exemple.

3 426	$(3 \times 1\,000) + (4 \times 100) + (2 \times 10) + 6$
6 953	_____
5 607	_____
9 082	_____
1 744	_____
7 360	_____



A+

Décomposer des nombres inférieurs à 10 000.



/ 10

Exercice n° 4

Mets le signe qui convient.

- | | |
|----------------------|----------------------|
| a) 2 511 _____ 2 840 | f) 4 17 _____ 4 168 |
| b) 5 304 _____ 3 859 | g) 3 826 _____ 3 813 |
| c) 7 466 _____ 7 471 | h) 8 771 _____ 8 499 |
| d) 9 800 _____ 9 363 | i) 2 424 _____ 2 425 |
| e) 6 457 _____ 6 450 | j) 7 934 _____ 9 807 |

A+

Comparer des nombres inférieurs à 10 000.



/ 10

Exercice n° 5

Range ces nombres dans l'ordre demandé.

Ordre croissant

4 528

4 510

7 952

4 367

7 958

366

Ordre décroissant

6 238

6 328

8 362

682

6 832

6 321

A+

Ranger une liste de nombres inférieurs à 10 000.



/ 12



Exercice n° 6

Encadre de la manière indiquée.

A la dizaine près

A la centaine près

- a) _____ < 4 285 < _____
b) _____ < 9 748 < _____
c) _____ < 5 361 < _____
d) _____ < 6 536 < _____
e) _____ < 7 014 < _____

- f) _____ < 4 285 < _____
g) _____ < 9 748 < _____
h) _____ < 5 361 < _____
i) _____ < 6 536 < _____
j) _____ < 7 014 < _____

Évaluation



Encadrer des nombres inférieurs à 10 000.



/20

