

# Je fais le point

Nom  Prénom  Date

<http://laclasselleve.fr/>

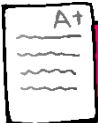
# Les nombres de 0 à 999 999



## Exercice n° 1

Ecris les nombres dictés par le maître.

Évaluation



Ecrire sous la dictée des nombres jusqu'à 999 999

/ 10



## Exercice n° 2

Ecris en lettres.

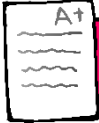
a) 488 576 ⇒ \_\_\_\_\_  
 b) 162 199 ⇒ \_\_\_\_\_

- c) 76 003 ⇒ \_\_\_\_\_
- d) 245 200 ⇒ \_\_\_\_\_
- e) 796 952 ⇒ \_\_\_\_\_

Ecris en chiffres.

- f) deux-cent-mille-dix-huit ⇒ \_\_\_\_\_
- g) six-cent-cinquante-six-mille-soixante-quinze ⇒ \_\_\_\_\_
- h) vingt-cinq-mille-quatre-cents ⇒ \_\_\_\_\_
- i) huit-cent-soixante-dix-huit-mille-trois ⇒ \_\_\_\_\_
- j) neuf-cent-vingt-neuf-mille-neuf-cent-cinquante-sept ⇒ \_\_\_\_\_

Évaluation



Ecrire en chiffres et en lettres des nombres inférieurs à 1 000 000.



/ 15

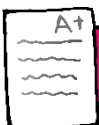


Exercice n° 3

Décompose ces nombres. Observe l'exemple.

41 568	$(4 \times 10\ 000) + (1 \times 1\ 000) + (5 \times 100) + (6 \times 10) + 8$
288 753	_____
605 029	_____
32 006	_____
594 647	_____
96 304	_____
720 090	_____

Évaluation



Décomposer des nombres inférieurs à 1 000 000.



/ 12

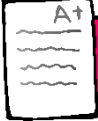


### Exercice n° 4

Mets le signe qui convient.

- |                        |                        |
|------------------------|------------------------|
| a) 3 620 ___ 36 020    | f) 952 343 ___ 952 321 |
| b) 439 874 ___ 422 138 | g) 531 552 ___ 538 209 |
| c) 69 999 ___ 70 000   | h) 137 090 ___ 136 900 |
| e) 568 121 ___ 568 457 | i) 336 573 ___ 245 637 |
| k) 760 253 ___ 739 100 |                        |

Évaluation



Comparer des nombres inférieurs à 1 000 000.



/9



### Exercice n° 5

Range ces nombres dans l'ordre demandé.

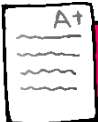
Ordre croissant

37 012	357 200	371 200	370 120	35 720	371 002
--------	---------	---------	---------	--------	---------

Ordre décroissant

56 832	635 280	608 253	835 620	358 062	635 208
--------	---------	---------	---------	---------	---------

Évaluation



Ranger une liste de nombres inférieurs à 1 000 000.



/12



### Exercice n° 6

Encadre de la manière indiquée.

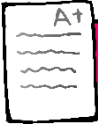
## Au millier près

- a) \_\_\_\_\_ < 26 453 < \_\_\_\_\_  
b) \_\_\_\_\_ < 513 109 < \_\_\_\_\_  
c) \_\_\_\_\_ < 862 005 < \_\_\_\_\_  
d) \_\_\_\_\_ < 478 627 < \_\_\_\_\_

## A la dizaine de millier près

- e) \_\_\_\_\_ < 26 453 < \_\_\_\_\_  
f) \_\_\_\_\_ < 513 109 < \_\_\_\_\_  
g) \_\_\_\_\_ < 862 005 < \_\_\_\_\_  
h) \_\_\_\_\_ < 478 627 < \_\_\_\_\_

Évaluation



Encadrer des nombres inférieurs à 1 000 000.



/ 16

