

Je fais le point

Nom Prénom Date

<http://laclasselleve.fr/>

La classe des milliers

Comparer, ranger, encadrer et placer sur une droite graduée

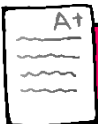


Exercice n° 1

Mets le signe qui convient.

- | | |
|------------------------|------------------------|
| a) 25 681 ___ 354 002 | f) 756 801 ___ 752 108 |
| b) 439 874 ___ 422 138 | g) 512 134 ___ 52 341 |
| c) 546 491 ___ 546 753 | h) 900 250 ___ 952 500 |
| d) 36 427 ___ 12 459 | i) 603 412 ___ 603 899 |
| e) 802 377 ___ 802 960 | j) 163 008 ___ 118 245 |

Évaluation



Comparer des nombres inférieurs à 1 000 000.



/ 10



Exercice n° 2

Range ces nombres dans l'ordre demandé.

ORDRE CROISSANT

56 400

456 200

245 600

64 500

456 002

264 500

ORDRE DÉCROISSANT

590 730

390 570

597 030

735 900

903 057

390 075

A+

Ranger une liste de nombres inférieurs à 1 000 000.



/12

Évaluation

Exercice n° 3

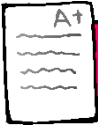
Encadre de la manière indiquée.

Au millier près

- a) _____ < 632 047 < _____
b) _____ < 404 681 < _____
c) _____ < 179 940 < _____
d) _____ < 748 302 < _____

A la dizaine de millier près

- e) _____ < 632 047 < _____
f) _____ < 404 681 < _____
g) _____ < 179 940 < _____
h) _____ < 748 302 < _____



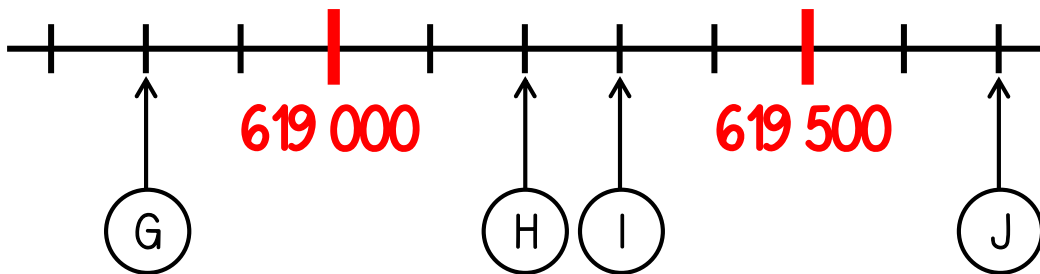
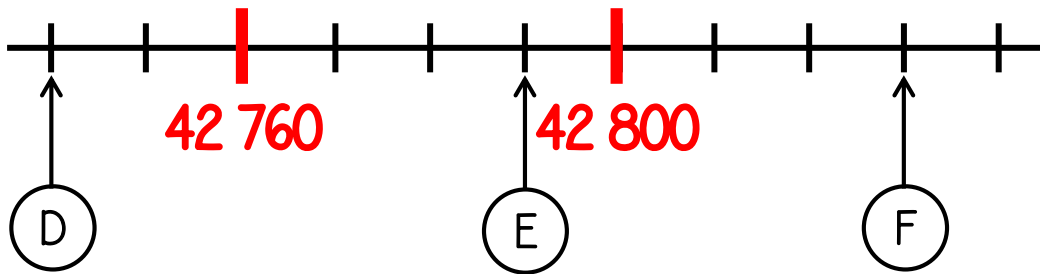
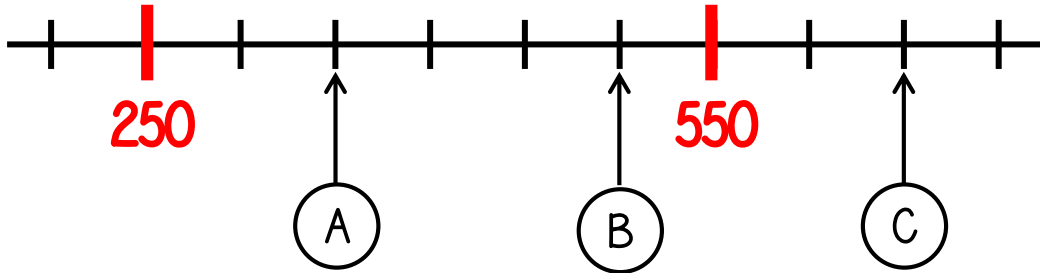
Encadrer des nombres inférieurs à 1 000 000.



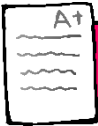
/ 16

Exercice n° 4

Indique le nombre correspondant à chaque lettre.



A	B	C	D	E
F	G	H	I	J



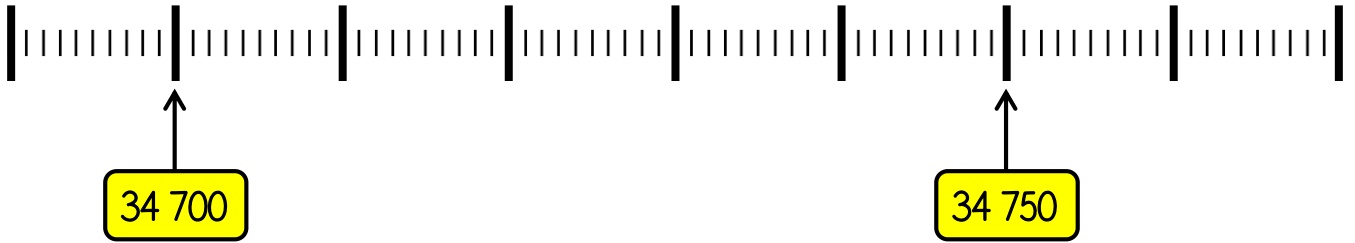
Lire des nombres placés sur une droite graduée.



/ 10

Exercice n° 5

Place les nombres sur la droite graduée.



34 720

34 742

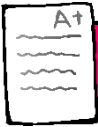
34 765

34 728

34 713

34 757

Évaluation



Placer des nombres sur une droite graduée.



/6