

Je fais le point

Nom Prénom Date

<http://laclasselleve.fr/>

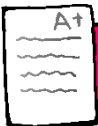
Les nombres de 0 à 999 999



Exercice n° 1

Ecris les nombres dictés par le maître.

Évaluation



Ecrire sous la dictée des nombres inférieurs à 1 000 000.



/ 10



Exercice n° 2

Ecris en lettres.

a) 4 560 ⇒ _____
 b) 12 015 ⇒ _____
 c) 300 007 ⇒ _____

d) 93 380 ⇒ _____

e) 775 453 ⇒ _____

Ecris en chiffres.

f) cinquante-deux-mille-vingt-trois ⇒ _____

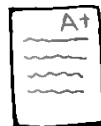
g) six-cent-cinquante-six-mille-soixante-quinze ⇒ _____

h) quarante-mille-quatre-cents ⇒ _____

i) deux-cent-mille ⇒ _____

j) huit-cent-seize-mille-trois-cent-quatre-vingt-douze ⇒ _____

Évaluation



Ecrire en chiffres et en lettres des nombres inférieurs à 1 000 000.



/ 15




Exercice n° 3

Décompose ces nombres. Observe l'exemple.

35 127	$(3 \times 10\ 000) + (5 \times 1\ 000) + (1 \times 100) + (2 \times 10) + 7$
421 635	_____
904 201	_____
56 003	_____
874 620	_____
20 080	_____

Évaluation



Décomposer des nombres inférieurs à 1 000 000.



/ 10



Exercice n° 4

Mets le signe qui convient.

- a) 25 681 ____ 354 002 f) 756 801 ____ 752 108
 b) 439 874 ____ 422 138 g) 512 134 ____ 52 341
 c) 546 491 ____ 546 753 h) 900 250 ____ 952 500
 d) 36 427 ____ 12 459 i) 603 412 ____ 603 899
 e) 802 377 ____ 802 960 j) 163 008 ____ 118 245

Évaluation



Comparer des nombres inférieurs à 1 000 000.



/ 10

Exercice n° 5

Range ces nombres dans l'ordre demandé.

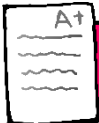
Ordre croissant

56 400	456 200	245 600	64 500	456 002	264 500
--------	---------	---------	--------	---------	---------

Ordre décroissant

590 730	390 570	597 030	735 900	903 057	390 075
---------	---------	---------	---------	---------	---------

Évaluation



Ranger une liste de nombres inférieurs à 1 000 000.



/ 12

Exercice n° 6

Encadre de la manière indiquée.

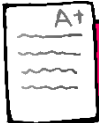
Au millier près

- a) _____ < 632 047 < _____
 b) _____ < 404 681 < _____
 c) _____ < 179 940 < _____
 d) _____ < 748 302 < _____

A la dizaine de millier près

- e) _____ < 632 047 < _____
 f) _____ < 404 681 < _____
 g) _____ < 179 940 < _____
 h) _____ < 748 302 < _____

Évaluation



Encadrer des nombres inférieurs à 1 000 000.



/ 16