


# Je fais le point

Nom  Prénom  Date

<http://laclasselleve.fr/>

# Les fractions

## Lire et écrire

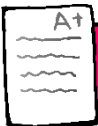


### Exercice n° 1

Ecris les fractions dictées par le maître.

a	b	c	d	e	f	g	h	i	j	k	l
---	---	---	---	---	---	---	---	---	---	---	---

Évaluation



Ecrire des fractions sous la dictée.

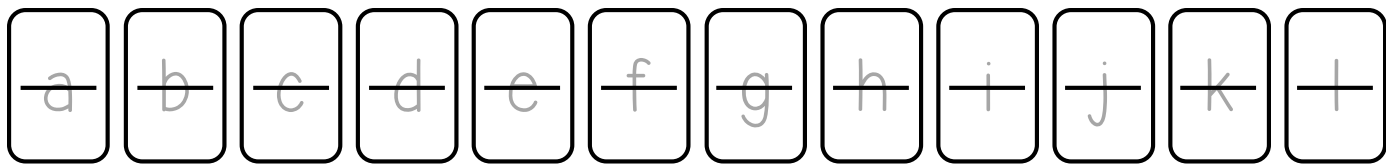
/ 12



### Exercice n° 2

Ecris en chiffres.

- |                  |                |                     |                  |
|------------------|----------------|---------------------|------------------|
| a) deux tiers    | d) trois demis | g) sept cinquièmes  | j) six centièmes |
| b) cinq sixièmes | e) neuf quarts | h) deux neuvièmes   | k) huit tiers    |
| c) huit dixièmes | f) un douzième | i) quatre septièmes | l) douze quarts  |



Ecris en lettres.

- a)  $\frac{1}{8}$    b)  $\frac{5}{2}$    c)  $\frac{3}{4}$    d)  $\frac{7}{9}$    e)  $\frac{4}{3}$    f)  $\frac{8}{6}$    g)  $\frac{10}{5}$    h)  $\frac{6}{7}$    i)  $\frac{25}{100}$

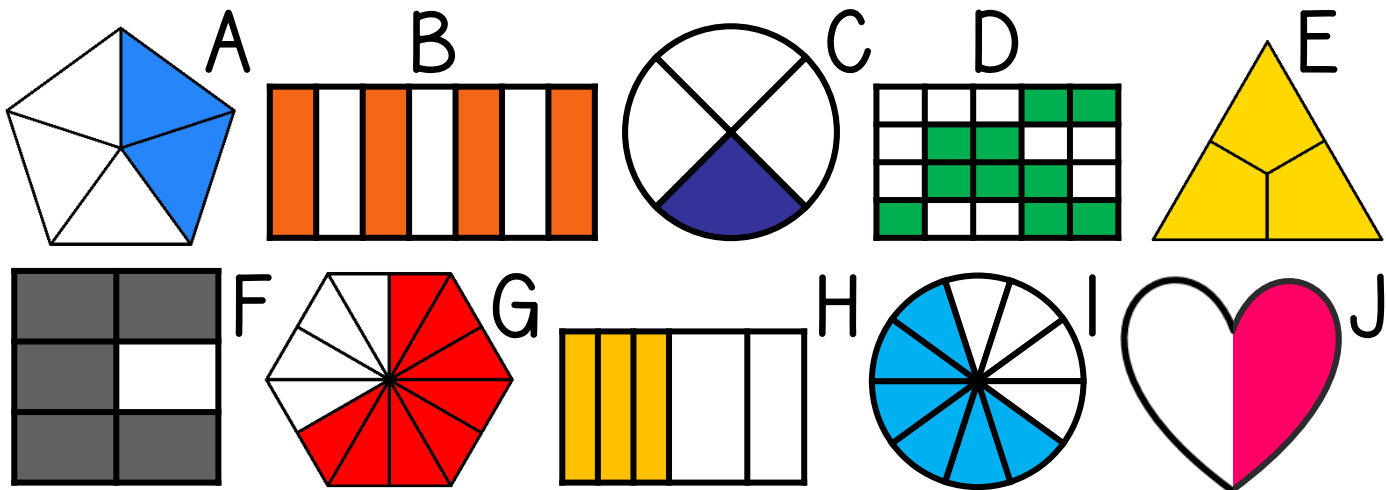
a	b	c
d	e	f
g	h	i

Évaluation

**A+** Ecrire des fractions en chiffres et en lettres.    /21

Exercice n° 3

Ecris les fractions représentées par les parties coloriées.  
Barre la figure impossible à traduire sous la forme d'une fraction !



A	B	C	D	E	F	G	H	I	J
---	---	---	---	---	---	---	---	---	---


Évaluation

**A+** Ecrire la fraction représentée par une partie coloriée.    /10

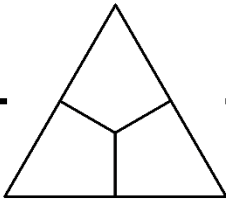


# Exercice n° 4


Colorie pour obtenir la fraction demandée.




$\frac{3}{4}$




$\frac{2}{3}$



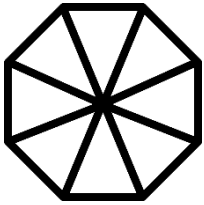
$\frac{1}{2}$



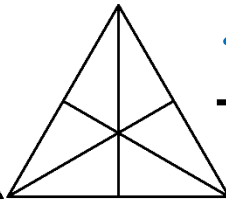
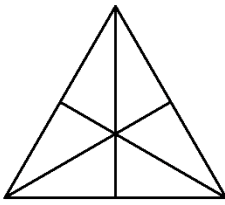
$\frac{5}{9}$



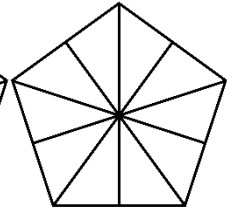
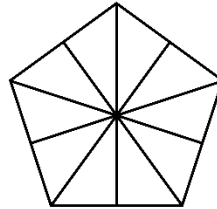
$\frac{4}{5}$



$\frac{7}{8}$




$\frac{10}{6}$



$\frac{20}{10}$

Évaluation



Colorier des parts pour obtenir la fraction demandée.

