

Je fais le point

Nom Prénom Date

<http://laclasselleve.fr/>

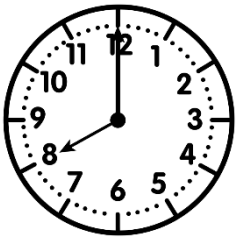
Lire l'heure



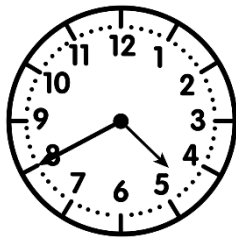
Exercice n° 1

Écris l'heure sous chaque horloge.


Nuit/Matin



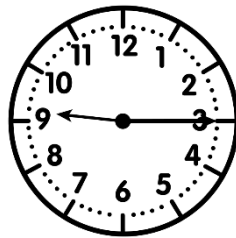
h



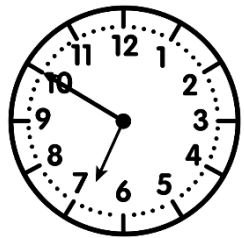
h



h

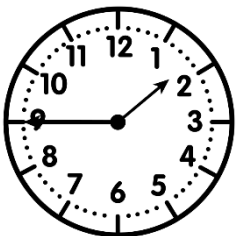


h

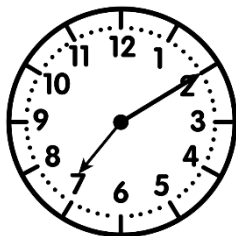


h

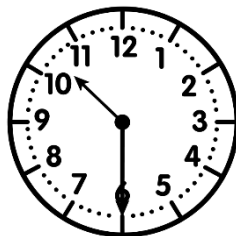
Après-midi/Soir/Nuit



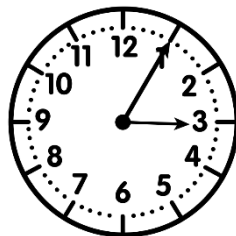
h




h




h



h



h



Lire l'heure sur une horloge à aiguilles.

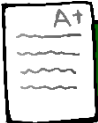


/ 10

Exercice n° 2

Complète ces égalités.

- a) 7h 55min + _____ = 8h
- b) 10h 50min + _____ = 11h
- c) 4h 40min + _____ = 5h
- d) 9h 05min + _____ = 10h
- e) 15h 30min + _____ = 16h
- f) 21h 42min + _____ = 22h
- g) 13h 34min + _____ = 14h
- h) 23h 20min + _____ = 0h



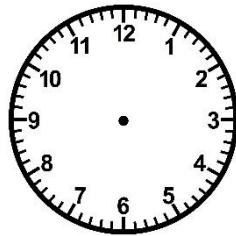
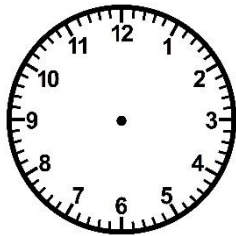
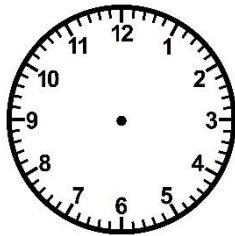
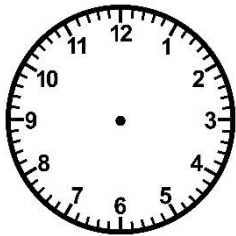
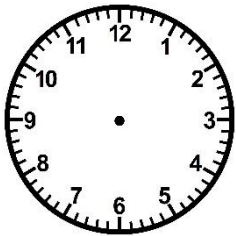
Calculer le complément pour arriver à l'heure qui suit.



/ 8

Exercice n° 3

Trace les aiguilles (rouge pour les heures, bleue pour les minutes).



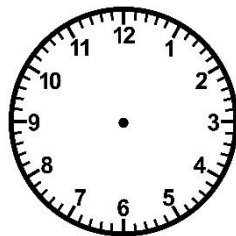
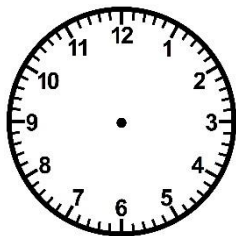
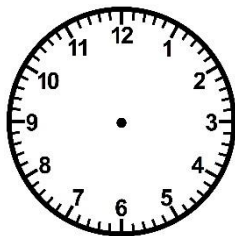
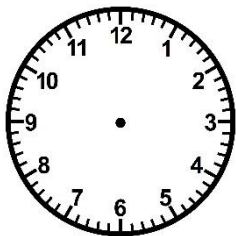
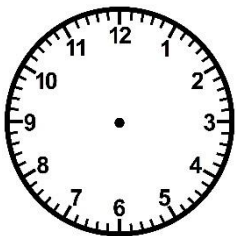
3 h 05

5 h 40

11 h 10

18 h 00

20 h 55



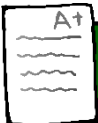
7 h 30

13 h 50

16 h 35

0 h 15

22 h 45



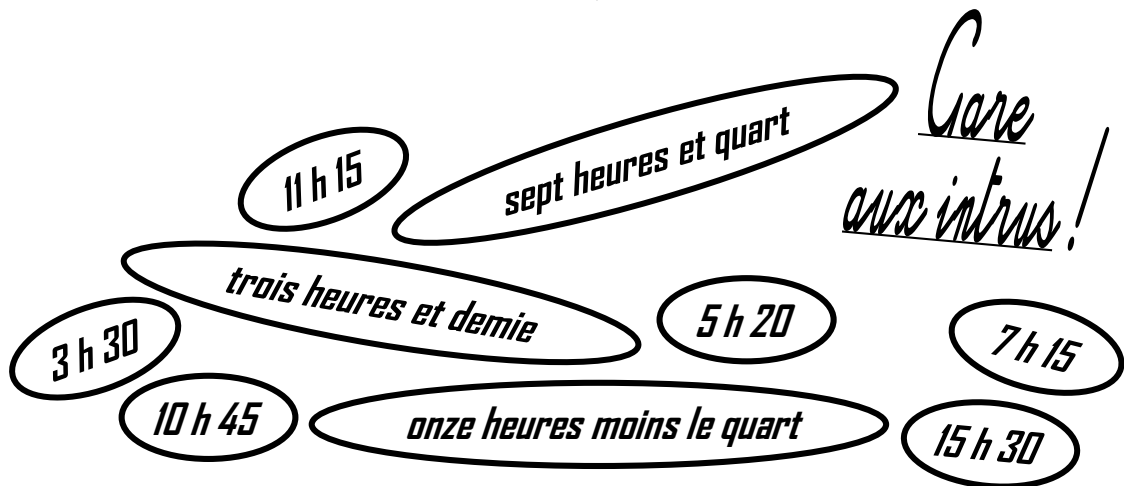
Tracer les aiguilles sur une horloge pour avoir l'heure souhaitée.



/ 10

Exercice n° 4

Colorie de la même couleur les heures équivalentes.



Évaluation

A+

Associer des heures équivalentes.



/8

Exercice n° 5

Résous ces problèmes.

① L'horloge de la classe indique 10h, mais elle a 5 min d'avance.

Quelle heure est-il en réalité ?

⇒ En réalité, il est ___ h ___ .

② Un match de rugby doit commencer à 15h, mais débute avec 10 min de retard.

À quelle heure le match a-t-il commencé ?

⇒ Le match a commencé à ___ h ___ .

③ C'est le soir. Hugo et sa famille se rendent au cinéma pour assister à la projection du dernier film « Star Wars ». Le film doit commencer à 21h.

Dans combien de temps le film débutera-t-il ?

⇒ Le film débutera dans ___ min.



Évaluation

A+

Résoudre des problèmes portant sur la connaissance de l'heure.



/6