

Nom _____ Prénom _____ Date ____/____/____

<http://laclasselleve.fr/>

Les angles




Exercice n° 1

Colorie selon la légende.

<u>angle aigu</u>	<u>angle droit</u>	<u>angle obtus</u>
BLEU	ROUGE	VERT

Diagram illustrating various angles labeled A through J for coloring. The angles are:

- A: Acute angle
- B: Obtuse angle
- C: Right angle
- D: Obtuse angle
- E: Acute angle
- F: Obtuse angle
- G: Acute angle
- H: Obtuse angle
- I: Right angle
- J: Obtuse angle



Dire à l'aide de l'équerre si un angle est aigu, droit ou obtus.




/ 10



Exercice n° 2

Colorie les angles plus petits que l'angle A.

Pour t'aider, réalise un gabarit de l'angle A avec du papier-calque !



Comparer des angles en utilisant un gabarit.



/ 8




Exercice n° 3

Range ces angles du plus aigu au plus obtus.

__ < __ < __ < __ < __ < __ < __

Évaluation



Ranger des angles du plus aigu au plus obtus.

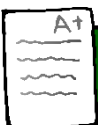
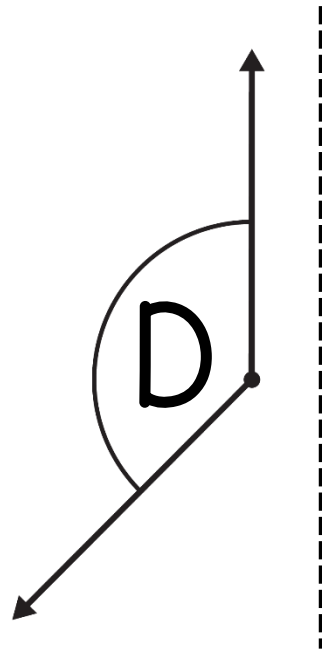
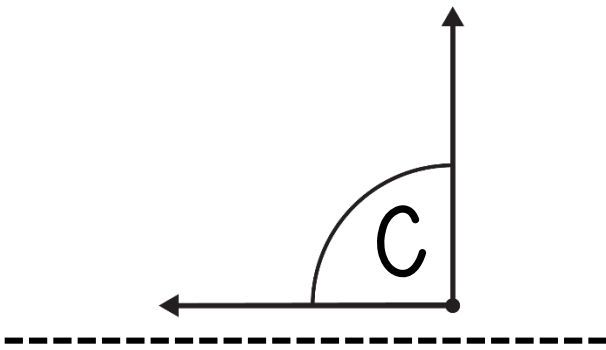
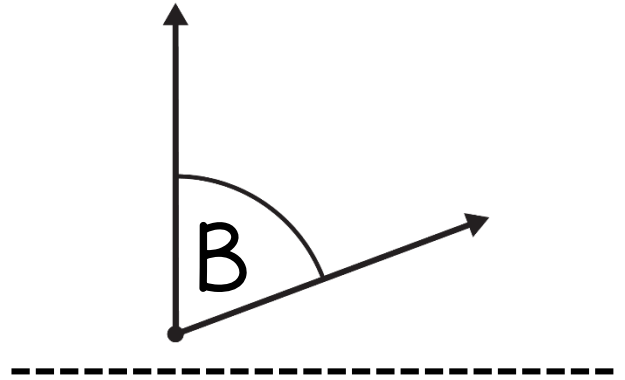
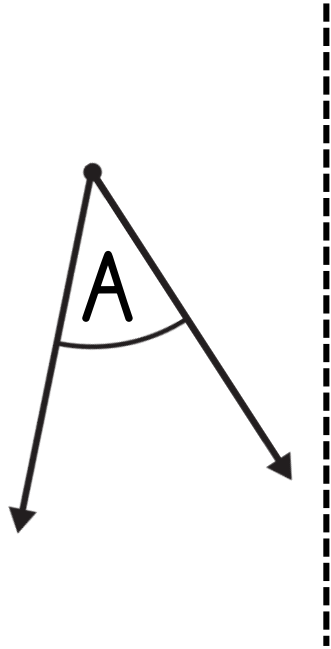


/7



Exercice n° 4

Reproduis ces angles à l'aide de papier-calque.



Reproduire des angles à l'aide de papier-calque.



/12

Évaluation



Exercice n° 5

Trace les figures suivantes.

un
triangle
ABC avec un angle droit
en B et deux angles aigus

un
quadrilatère DEFG
ayant un angle droit, deux
angles obtus et un angle aigu

Évaluation

A+

Tracer une figure en respectant des indications relatives à ses angles.



/8

