

Je fais le point

Nom Prénom Date

<http://laclasselleve.fr/>

Les fractions

Placer sur une droite graduée

Exercice n° 1

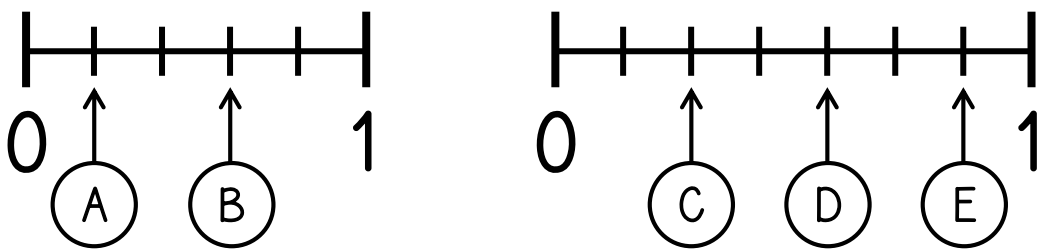
Ecris les fractions représentées par les parties coloriées.

a	b	c	d	e	f	g	h	i	j	k	l
---	---	---	---	---	---	---	---	---	---	---	---

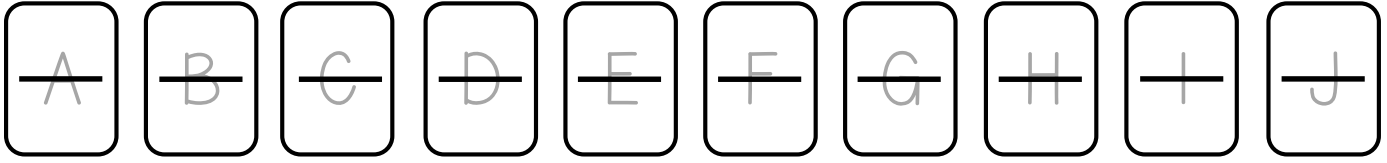
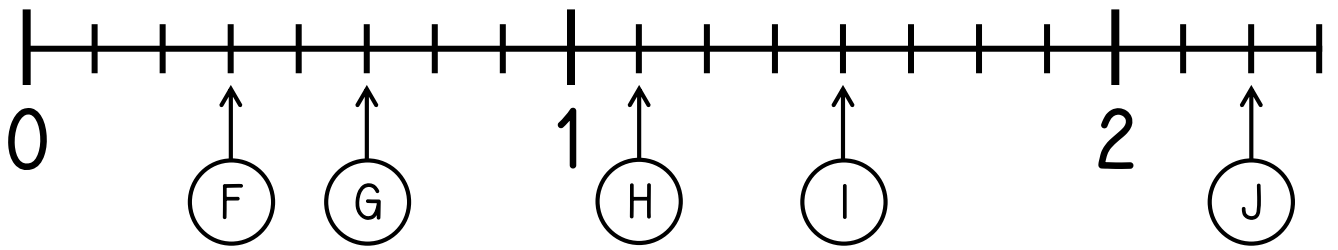
A+ / 12

Exercice n° 2

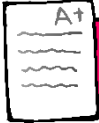
Ecris la fraction qui correspond à chaque lettre.



Évaluation



Évaluation



Lire des fractions sur une droite graduée.



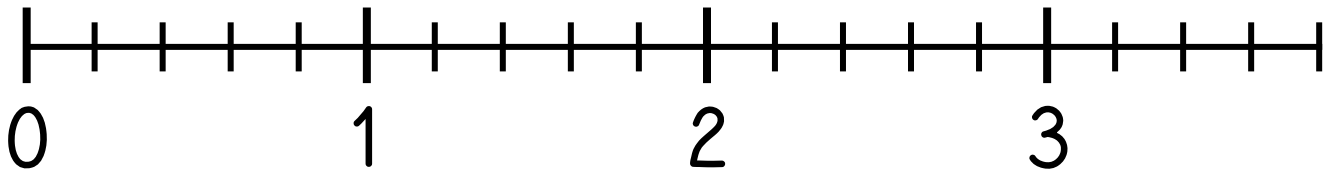
/ 10



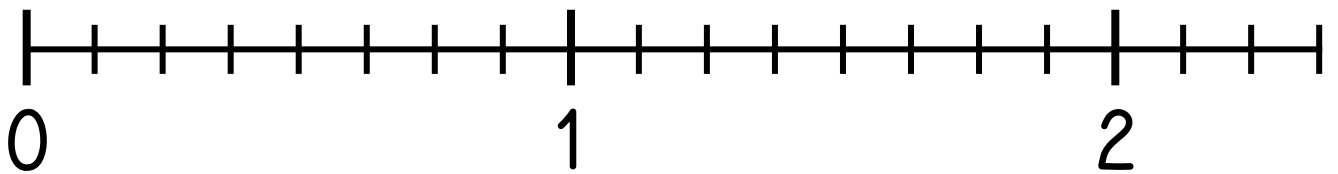
Exercice n° 3

Place les fractions sur la droite graduée.

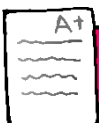
$$\frac{3}{5} \quad \frac{9}{5} \quad \frac{5}{5} \quad \frac{12}{5} \quad \frac{18}{5}$$



$$\frac{2}{8} \quad \frac{6}{8} \quad \frac{14}{8} \quad 1 + \frac{3}{8} \quad 2 + \frac{1}{8}$$



Évaluation



Placer des fractions sur une droite graduée.



/ 10