

Je fais le point

Nom Prénom Date

<http://laclasselleve.fr/>

Les fractions

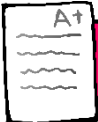
Placer sur une droite graduée



Exercice n° 1

Ecris les fractions représentées par les parties coloriées.

a	b	c	d	e	f	g	h	i	j	k	l
---	---	---	---	---	---	---	---	---	---	---	---



Ecrire la fraction représentée par une partie coloriée.

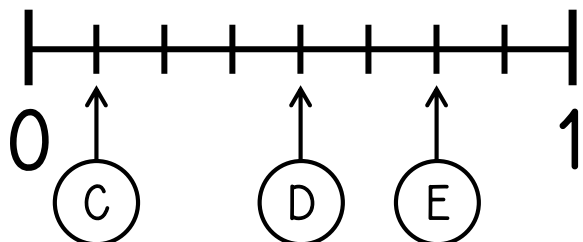
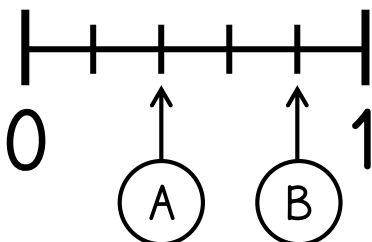


/ 12

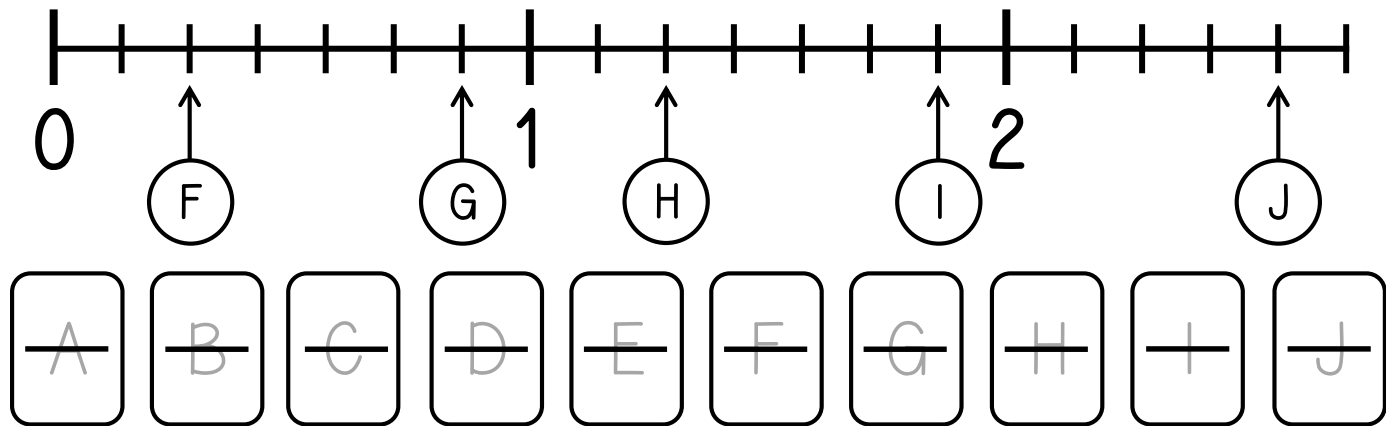


Exercice n° 2

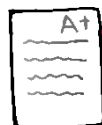
Ecris la fraction qui correspond à chaque lettre.



Évaluation



Évaluation



Lire des fractions sur une droite graduée.



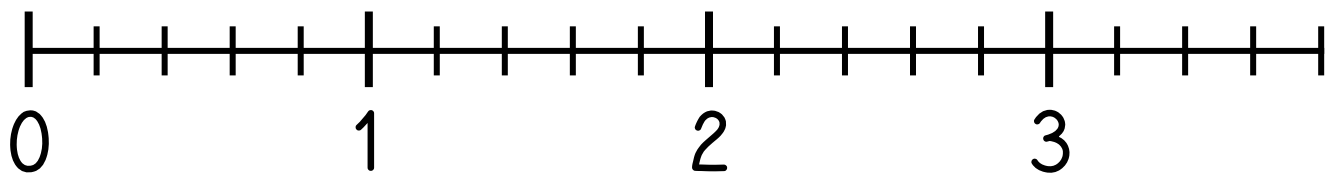
/ 10



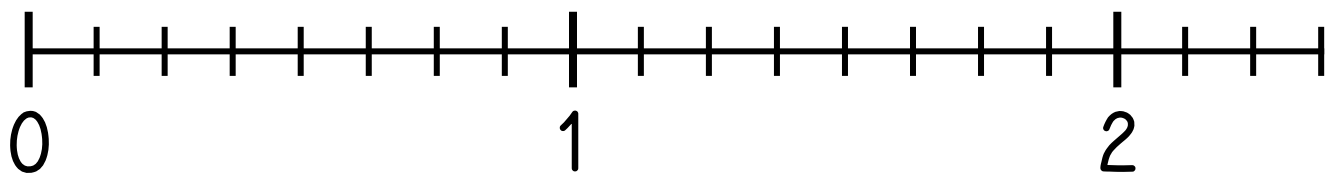
Exercice n° 3

Place les fractions sur la droite graduée.

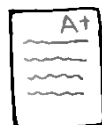
$$\frac{2}{5} \quad \frac{5}{5} \quad \frac{10}{5} \quad \frac{4}{5} \quad \frac{13}{5}$$



$$\frac{6}{8} \quad \frac{9}{8} \quad \frac{16}{8} \quad \frac{1}{2} \quad 1 + \frac{3}{8}$$



Évaluation



Placer des fractions sur une droite graduée.



/ 10