

Je fais le point

Nom Prénom Date

<http://laclasselleve.fr/>

Les nombres décimaux Lire et écrire

Exercice n° 1

Ecris les nombres décimaux qui te sont dictés.

<u> A </u>	<u> B </u>	<u> C </u>	<u> D </u>	<u> E </u>
<u> F </u>	<u> G </u>	<u> H </u>	<u> I </u>	<u> J </u>



Évaluation

A+

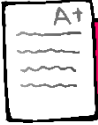
Ecris des nombres décimaux sous la dictée.

/ 10

Exercice n° 2

Entoure la partie entière et souligne la partie décimale.

4,5	9,362	71,08		
0,07	109,51	500	36,9	2,486



Distinguer les deux parties constitutives d'un nombre décimal



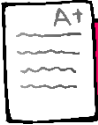
/ 8



Exercice n° 3

Récris ces nombres en supprimant les zéros inutiles (s'il y en a).

21,50	⇒	_____	405,030	⇒	_____
6,00	⇒	_____	700,200	⇒	_____
0,009	⇒	_____	840,01	⇒	_____



Repérer et supprimer les zéros inutiles dans un décimal



/ 12

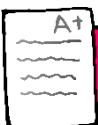


Exercice n° 4

Ecris en lettres. Observe l'exemple.

3,45 = trois unités et quarante-cinq centièmes

- a) 1,3 ⇒ _____
- b) 4,89 ⇒ _____
- c) 7,2 ⇒ _____
- d) 54,03 ⇒ _____
- e) 6,008 ⇒ _____
- f) 827,4 ⇒ _____
- g) 0,51 ⇒ _____
- h) 92,403 ⇒ _____
- i) 246,77 ⇒ _____
- j) 3,534 ⇒ _____



Ecrire des nombres décimaux en lettres.



/ 20

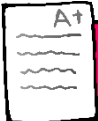


Exercice n° 5

Écris sous la forme d'un nombre décimal.

- a) 4 unités et 7 dixièmes \Rightarrow _____
- b) 5 unités et 9 centièmes \Rightarrow _____
- c) 6 unités et 3 millièmes \Rightarrow _____
- d) 8 dizaines, 2 unités et 5 dixièmes \Rightarrow _____
- e) 1 centième \Rightarrow _____
- f) 7 centaines et 6 dixièmes \Rightarrow _____
- g) 4 centaines, 7 unités et 3 centièmes \Rightarrow _____
- h) 5 unités, 1 dixième et 8 millièmes \Rightarrow _____
- i) 6 dizaines et 6 centièmes \Rightarrow _____
- j) 21 unités, 7 dixièmes et 9 centièmes \Rightarrow _____

Évaluation



Écrire des nombres décimaux en chiffres.



/ 10



Exercice n° 6

Que représente le chiffre 4 dans chacun de ces nombres ?

4,51 \Rightarrow _____

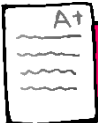
21,46 \Rightarrow _____

36,94 \Rightarrow _____

475,53 \Rightarrow _____

42,068 \Rightarrow _____

0,094 \Rightarrow _____



Connaitre la valeur des chiffres dans un nombre décimal.



/ 6

Évaluation