

Je fais le point

Nom Prénom Date

<https://laclasselleve.fr/>

Notre pays, la France



Exercice n° 1

Colorie la France et ses proches voisins et légende cette carte.



<input type="checkbox"/>	_____
<input type="checkbox"/>	_____
<input type="checkbox"/>	_____
<input type="checkbox"/>	_____
<input type="checkbox"/>	_____
<input type="checkbox"/>	_____
<input type="checkbox"/>	_____
<input type="checkbox"/>	_____
<input type="checkbox"/>	_____






Nommer + situer sur une carte la France et ses proches voisins.



/ 16



Exercice n° 2

Colorie la bonne réponse.

a) Quel est le plus vaste pays de l'Union Européenne ?

l'Italie	la Belgique	l'Allemagne	la France	l'Espagne
----------	-------------	-------------	-----------	-----------

b) Quelle forme géométrique a la France métropolitaine ?

celle d'un quadrilatère	celle d'un hexagone	celle d'un octogone	celle d'un décagone
-------------------------	---------------------	---------------------	---------------------

c) Quel autre nom donne-t-on au territoire français situé en Europe ?

la métropole	la mégalopole	le métronome	la tarte aux pommes
--------------	---------------	--------------	---------------------



Exercice n° 3

Coche la bonne réponse.


1) La France est un pays <u>rural</u> .	<input type="radio"/> Vrai <input type="radio"/> Faux
2) La majorité des français vivent <u>en ville</u> .	<input type="radio"/> Vrai <input type="radio"/> Faux
3) La France compte aujourd'hui environ <u>67 millions d'habitants</u> .	<input type="radio"/> Vrai <input type="radio"/> Faux
4) La France est <u>le pays le plus peuplé</u> de l'Union Européenne.	<input type="radio"/> Vrai <input type="radio"/> Faux
5) La France est <u>un des pays les plus riches</u> de la planète.	<input type="radio"/> Vrai <input type="radio"/> Faux



Connaitre les principales caractéristiques de la France.



/ 8



Exercice n° 4

Réponds à ces questions.

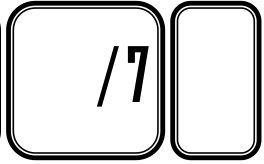

a) Qui'est-ce que la « France d'outre-mer » ?

b) Cite le nom d'au moins un territoire français situé dans l'océan Atlantique.

c) Cite le nom d'au moins un territoire français situé dans l'océan Indien.




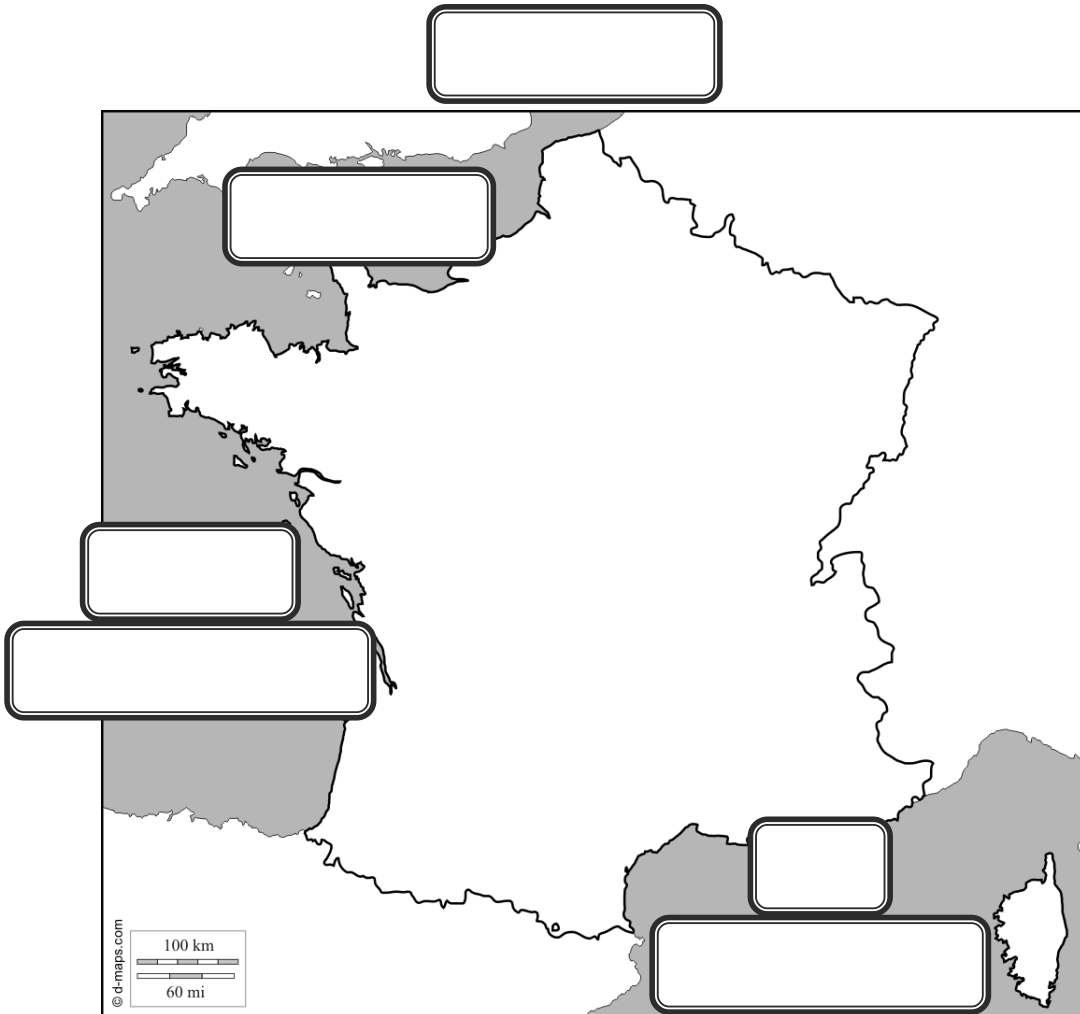
Savoir ce qu'est la France d'outre-mer + connaître des T.O.M. et leur localisation.




Évaluation

Exercice n° 5

Complète la carte des mers et de l'océan qui bordent la France.




Évaluation





Nommer + situer sur une carte les mers et l'océan qui bordent la métropole.





Exercice n° 6

Complète la carte du relief de la France.



Nommer + situer sur une carte les zones de montagnes françaises.

Person icon | Clock icon | Document icon | **/12** | Empty box

Évaluation