


# Je fais le point

Nom  Prénom  Date

<https://laclasselleve.fr/>

# La classe des milliers


Lire, écrire et décomposer



Exercice n° 1

Écris les nombres dictés par le maître.


A  B  C  D  E



Écrire sous la dictée des nombres inférieurs au million.

/   /

Évaluation



Exercice n° 2

Écris les nombres suivants en lettres.

a) 12 015

a)

b) 73 421

b)

c) 306 080

c)

d) 94 350


d)

e) 507 900

e)

f) 775 613

f)



Écrire en lettres des nombres inférieurs au million



/ 12

Évaluation

Exercice n° 3

Écris les nombres suivants en chiffres.

a) cinquante-deux-mille-vingt-trois ⇒ \_\_\_\_\_


b) six-cent-cinquante-six-mille-soixante-quinze ⇒ \_\_\_\_\_

c) quarante-mille-quatre-cents ⇒ \_\_\_\_\_

d) trois-cent-trente-et-un-mille-sept-cent-deux ⇒ \_\_\_\_\_

e) huit-cent-seize-mille-trois-cent-quatre-vingt-douze ⇒ \_\_\_\_\_

f) deux-cent-mille ⇒ \_\_\_\_\_



Écrire en chiffres des nombres inférieurs au million



/ 12

Évaluation



## Exercice n° 4

Décompose ces nombres. Observe l'exemple.

35 128

$$(3 \times 10\,000) + (5 \times 1\,000) + (1 \times 100) + (2 \times 10) + 8$$

a) 421 635

a)

b) 904 201

b)

c) 56 003


c)

d) 874 620

d)

e) 20 080

e)



Décomposer des nombres inférieurs au million.



/ 10

Évaluation

# Je fais le point

Nom  Prénom  Date

<https://laclasselleve.fr/>

## La classe des milliers


Lire, écrire et décomposer



### Exercice n° 1

Écris les nombres dictés par le maître.

A  B  C  D  E



Écris sous la dictée des nombres inférieurs au million.

   / 10



### Exercice n° 2

Écris les nombres suivants en lettres.

a) 12 015

a) 

a)																			
----	--	--	--	--	--	--	--	--	--	--	--	--	--	--	--	--	--	--	--

Évaluation

b) 73 421

Handwriting practice grid for number b) 73 421. The grid has four lines (top blue, middle green, bottom blue, bottom red) and 20 columns.

c) 306 080

Handwriting practice grid for number c) 306 080. The grid has four lines (top blue, middle green, bottom blue, bottom red) and 20 columns.

d) 94 350


Handwriting practice grid for number d) 94 350. The grid has four lines (top blue, middle green, bottom blue, bottom red) and 20 columns.

e) 507 900

Handwriting practice grid for number e) 507 900. The grid has four lines (top blue, middle green, bottom blue, bottom red) and 20 columns.

f) 775 613

Handwriting practice grid for number f) 775 613. The grid has four lines (top blue, middle green, bottom blue, bottom red) and 20 columns.



**Ecrire en lettres des nombres inférieurs au million.**



/12

Évaluation

**Exercice n° 3**

Écris les nombres suivants en chiffres.

a) cinquante-deux-mille-vingt-trois ⇒ \_\_\_\_\_


b) six-cent-cinquante-six-mille-soixante-quinze ⇒ \_\_\_\_\_

c) quarante-mille-quatre-cents ⇒ \_\_\_\_\_

d) trois-cent-trente-et-un-mille-sept-cent-deux ⇒ \_\_\_\_\_

e) huit-cent-seize-mille-trois-cent-quatre-vingt-douze ⇒ \_\_\_\_\_

f) deux-cent-mille ⇒ \_\_\_\_\_



**Ecrire en chiffres des nombres inférieurs au million.**



/12

Évaluation



## Exercice n° 4

Décompose ces nombres. Observe l'exemple.

35 128

$$(3 \times 10\,000) + (5 \times 1\,000) + (1 \times 100) + (2 \times 10) + 8$$

a) 421 635

a)

b) 904 201

b)

c) 56 003


c)

d) 874 620

d)

e) 20 080

e)



Décomposer des nombres inférieurs au million.



/ 10

Évaluation

# Je fais le point

Nom  Prénom  Date

<https://laclasselleve.fr/>


## La classe des milliers

Lire, écrire et décomposer

### Exercice n° 1

Écris les nombres dictés par le maître.

**A**  **B**  **C**  **D**  **E**



Écrire sous la dictée des nombres inférieurs au million

/ 10

### Exercice n° 2

Écris les nombres suivants en lettres.

a) 12 015

a)

--	--	--	--	--	--	--	--	--	--	--	--	--	--	--	--	--	--	--	--	--

Évaluation

b) 73 421

b)

c) 306 080

c)

d) 94 350


d)

e) 507 900

e)

f) 775 613

f)



Ecrire en lettres des nombres inférieurs au million.



/12

Évaluation

Exercice n° 3

Écris les nombres suivants en chiffres.

a) cinquante-deux-mille-vingt-trois ⇒ \_\_\_\_\_


b) six-cent-cinquante-six-mille-soixante-quinze ⇒ \_\_\_\_\_

c) quarante-mille-quatre-cents ⇒ \_\_\_\_\_

d) trois-cent-trente-et-un-mille-sept-cent-deux ⇒ \_\_\_\_\_

e) huit-cent-seize-mille-trois-cent-quatre-vingt-douze ⇒ \_\_\_\_\_

f) deux-cent-mille ⇒ \_\_\_\_\_



Ecrire en chiffres des nombres inférieurs au million.



/12

Évaluation





## Exercice n° 4

Décompose ces nombres. Observe l'exemple.

35 128

$$(3 \times 10\,000) + (5 \times 1\,000) + (1 \times 100) + (2 \times 10) + 8$$

a) 421 635

a)

b) 904 201

b)

c) 56 003


c)

d) 874 620

d)

e) 20 080

e)



Décomposer des nombres inférieurs au million.



/ 10

Évaluation