

Je fais le point

Nom Prénom Date

<https://laclasselleve.fr/>

Les nombres décimaux


Comparer, ranger et encadrer



Exercice n° 1

Écris les nombres décimaux qui te sont dictés.


A	B	C	D	E
F	G	H	I	J



Écrire des nombres décimaux sous la dictée.



/ 10



Exercice n° 2

Compare ces nombres décimaux.

Évaluation

a) $3,2 \underline{\hspace{1cm}} 7,9$

b) $46,5 \underline{\hspace{1cm}} 18,13$

c) $75,42 \underline{\hspace{1cm}} 75,84$

d) $8,7 \underline{\hspace{1cm}} 8,700$

e) $28,3 \underline{\hspace{1cm}} 28,16$

f) $31,52 \underline{\hspace{1cm}} 604,71$

g) $5,01 \underline{\hspace{1cm}} 5,1$


h) $63,77 \underline{\hspace{1cm}} 6,377$

i) $4,2 \underline{\hspace{1cm}} 4,33$

j) $92,60 \underline{\hspace{1cm}} 92,6$

k) $64,4 \underline{\hspace{1cm}} 64,10$

l) $71,53 \underline{\hspace{1cm}} 71,8$



Comparer des nombres décimaux.



/ 12

Évaluation

Exercice n° 3

Range ces nombres dans l'ordre demandé.


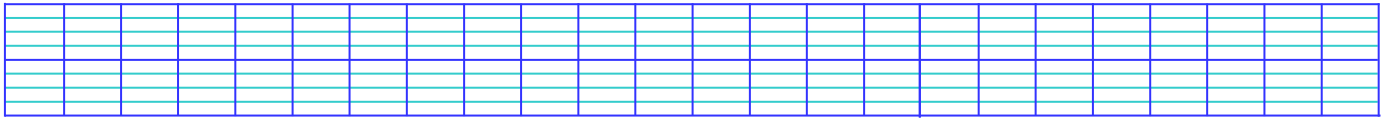
ORDRE CROISSANT

4,3	49,3	4,309	4,93	9,36	9	3,69	49,6
-----	------	-------	------	------	---	------	------



ORDRE DÉCROISSANT

0,257	2,7	7	7,25	2,57	5,02	0,5	52,7
-------	-----	---	------	------	------	-----	------



Ranger des nombres décimaux.



/ 16

Évaluation

Exercice n° 4


Encadre ces nombres entre deux entiers qui se suivent.

$\underline{\hspace{1cm}} < 7,9 < \underline{\hspace{1cm}}$	$\underline{\hspace{1cm}} < 8,1 < \underline{\hspace{1cm}}$	$\underline{\hspace{1cm}} < 0,4 < \underline{\hspace{1cm}}$
$\underline{\hspace{1cm}} < 5,36 < \underline{\hspace{1cm}}$	$\underline{\hspace{1cm}} < 140,9 < \underline{\hspace{1cm}}$	$\underline{\hspace{1cm}} < 75,01 < \underline{\hspace{1cm}}$
$\underline{\hspace{1cm}} < 21,82 < \underline{\hspace{1cm}}$	$\underline{\hspace{1cm}} < 62,3 < \underline{\hspace{1cm}}$	$\underline{\hspace{1cm}} < 2,565 < \underline{\hspace{1cm}}$

$___ < 39,4 < ___$

$___ < 7,247 < ___$

$___ < 97,67 < ___$



Encadrer des nombres décimaux entre deux entiers.



/24

Évaluation

Exercice n° 5

Complète avec un nombre décimal qui convient.

$4,1 < ___ < 4,3$

$2,5 < ___ < 2,54$

$0,5 < ___ < 0,6$

$16,7 < ___ < 16,8$


$7,13 < ___ < 7,19$

$88,4 < ___ < 93,9$

$23,5 < ___ < 23,6$

$6,4 < ___ < 6,45$

$9,51 < ___ < 9,57$



Intercaler un nombre décimal entre deux autres décimaux.



/9

Évaluation

Exercice n° 6

Arrondis au nombre entier le plus proche.

4,2



12,8



94,1



8,76



5,53



2,367



35,04




70,19



67,35





Arrondir un nombre décimal à l'entier le plus proche.



/9

Évaluation

Je fais le point

Nom Prénom Date

<https://laclasselleve.fr/>

Les nombres décimaux


Comparer, ranger et encadrer



Exercice n° 1

Écris les nombres décimaux qui te sont dictés.


A	B	C	D	E
F	G	H	I	J



Écrire des nombres décimaux sous la dictée.



/ 10



Exercice n° 2

Compare ces nombres décimaux.

Évaluation

a) $3,2 \underline{\hspace{1cm}} 7,9$

b) $46,5 \underline{\hspace{1cm}} 18,13$

c) $75,42 \underline{\hspace{1cm}} 75,84$

d) $8,7 \underline{\hspace{1cm}} 8,700$

e) $28,3 \underline{\hspace{1cm}} 28,16$

f) $31,52 \underline{\hspace{1cm}} 604,71$

g) $5,01 \underline{\hspace{1cm}} 5,1$


h) $63,77 \underline{\hspace{1cm}} 6,377$

i) $4,2 \underline{\hspace{1cm}} 4,33$

j) $92,60 \underline{\hspace{1cm}} 92,6$

k) $64,4 \underline{\hspace{1cm}} 64,10$

l) $71,53 \underline{\hspace{1cm}} 71,8$



Comparer des nombres décimaux.

Icons: person, clock, book, /12, empty box

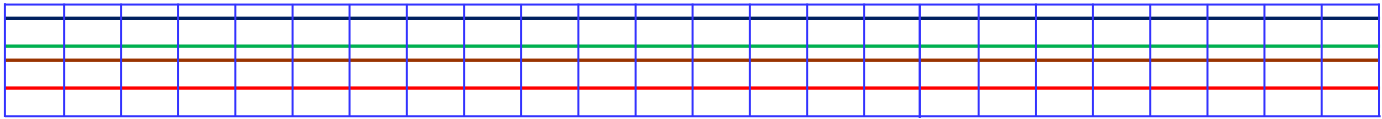
Évaluation

Exercice n° 3

Range ces nombres dans l'ordre demandé.


ORDRE CROISSANT

4,3 49,3 4,309 4,93 9,36 9 3,69 49,6



ORDRE DÉCROISSANT

0,257 2,7 7 7,25 2,57 5,02 0,5 52,7



Ranger des nombres décimaux.

Icons: person, clock, book, /16, empty box

Évaluation

Exercice n° 4


Encadre ces nombres entre deux entiers qui se suivent.

$\underline{\hspace{1cm}} < 7,9 < \underline{\hspace{1cm}}$	$\underline{\hspace{1cm}} < 8,1 < \underline{\hspace{1cm}}$	$\underline{\hspace{1cm}} < 0,4 < \underline{\hspace{1cm}}$
$\underline{\hspace{1cm}} < 5,36 < \underline{\hspace{1cm}}$	$\underline{\hspace{1cm}} < 140,9 < \underline{\hspace{1cm}}$	$\underline{\hspace{1cm}} < 75,01 < \underline{\hspace{1cm}}$
$\underline{\hspace{1cm}} < 21,82 < \underline{\hspace{1cm}}$	$\underline{\hspace{1cm}} < 62,3 < \underline{\hspace{1cm}}$	$\underline{\hspace{1cm}} < 2,565 < \underline{\hspace{1cm}}$

$___ < 39,4 < ___$

$___ < 7,247 < ___$

$___ < 97,67 < ___$



Encadrer des nombres décimaux entre deux entiers.




/24

Évaluation

Exercice n° 5

Complète avec un nombre décimal qui convient.

$4,1 < ___ < 4,3$	$2,5 < ___ < 2,54$	$0,5 < ___ < 0,6$
$16,7 < ___ < 16,8$	$7,13 < ___ < 7,19$	$88,4 < ___ < 93,9$
$23,5 < ___ < 23,6$	$6,4 < ___ < 6,45$	$9,51 < ___ < 9,57$



Intercaler un nombre décimal entre deux autres décimaux.




/9

Évaluation

Exercice n° 6

Arrondis au nombre entier le plus proche.

4,2	⇒	___		12,8	⇒	___		94,1	⇒	___
8,76	⇒	___		5,53	⇒	___		2,367	⇒	___
35,04	⇒	___		70,19	⇒	___		67,35	⇒	___



Arrondir un nombre décimal à l'entier le plus proche.



/9

Évaluation

Je fais le point

Nom Prénom Date

<https://laclasselleve.fr/>

Les nombres décimaux


Comparer, ranger et encadrer



Exercice n° 1

Écris les nombres décimaux qui te sont dictés.


A	B	C	D	E
F	G	H	I	J



Écrire des nombres décimaux sous la dictée.



/ 10



Exercice n° 2

Compare ces nombres décimaux.

Évaluation

a) $3,2 \underline{\hspace{1cm}} 7,9$

b) $46,5 \underline{\hspace{1cm}} 18,13$

c) $75,42 \underline{\hspace{1cm}} 75,84$

d) $8,7 \underline{\hspace{1cm}} 8,700$

e) $28,3 \underline{\hspace{1cm}} 28,16$

f) $31,52 \underline{\hspace{1cm}} 604,71$

g) $5,01 \underline{\hspace{1cm}} 5,1$


h) $63,77 \underline{\hspace{1cm}} 6,377$

i) $4,2 \underline{\hspace{1cm}} 4,33$

j) $92,60 \underline{\hspace{1cm}} 92,6$

k) $64,4 \underline{\hspace{1cm}} 64,10$

l) $71,53 \underline{\hspace{1cm}} 71,8$



Comparer des nombres décimaux.



/ 12

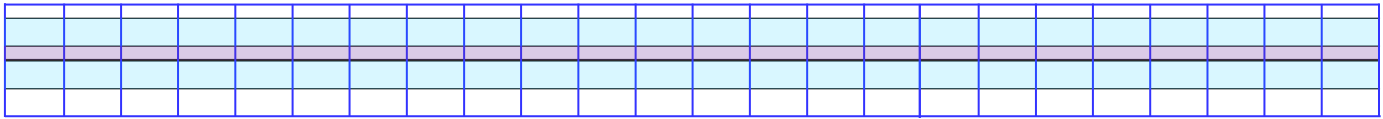
Évaluation

Exercice n° 3

Range ces nombres dans l'ordre demandé.


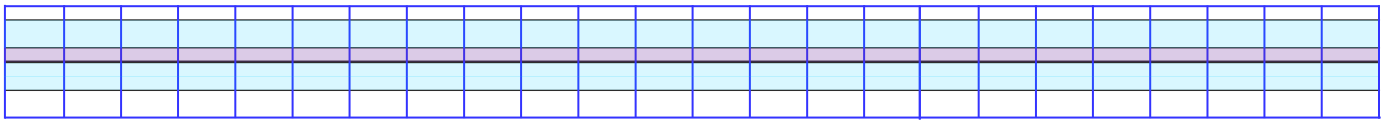
ORDRE CROISSANT

4,3	49,3	4,309	4,93	9,36	9	3,69	49,6
-----	------	-------	------	------	---	------	------



ORDRE DÉCROISSANT

0,257	2,7	7	7,25	2,57	5,02	0,5	52,7
-------	-----	---	------	------	------	-----	------



Ranger des nombres décimaux.



/ 16

Évaluation

Exercice n° 4


Encadre ces nombres entre deux entiers qui se suivent.

$\underline{\hspace{1cm}} < 7,9 < \underline{\hspace{1cm}}$	$\underline{\hspace{1cm}} < 8,1 < \underline{\hspace{1cm}}$	$\underline{\hspace{1cm}} < 0,4 < \underline{\hspace{1cm}}$
$\underline{\hspace{1cm}} < 5,36 < \underline{\hspace{1cm}}$	$\underline{\hspace{1cm}} < 140,9 < \underline{\hspace{1cm}}$	$\underline{\hspace{1cm}} < 75,01 < \underline{\hspace{1cm}}$
$\underline{\hspace{1cm}} < 21,82 < \underline{\hspace{1cm}}$	$\underline{\hspace{1cm}} < 62,3 < \underline{\hspace{1cm}}$	$\underline{\hspace{1cm}} < 2,565 < \underline{\hspace{1cm}}$

$___ < 39,4 < ___$

$___ < 7,247 < ___$

$___ < 97,67 < ___$



Encadrer des nombres décimaux entre deux entiers.




/24

Évaluation

Exercice n° 5

Complète avec un nombre décimal qui convient.

$4,1 < ___ < 4,3$	$2,5 < ___ < 2,54$	$0,5 < ___ < 0,6$
$16,7 < ___ < 16,8$	$7,13 < ___ < 7,19$	$88,4 < ___ < 93,9$
$23,5 < ___ < 23,6$	$6,4 < ___ < 6,45$	$9,51 < ___ < 9,57$



Intercaler un nombre décimal entre deux autres décimaux.




/9

Évaluation

Exercice n° 6

Arrondis au nombre entier le plus proche.

4,2	⇒	___	12,8	⇒	___	94,1	⇒	___
8,76	⇒	___	5,53	⇒	___	2,367	⇒	___
35,04	⇒	___	70,19	⇒	___	67,35	⇒	___



Arrondir un nombre décimal à l'entier le plus proche.



/9

Évaluation