

Je fais le point

Nom Prénom Date

<https://laclasselleve.fr/>

Les nombres décimaux



Comparer, ranger et encadrer



Exercice n° 1

Écris les nombres décimaux qui te sont dictés.


A	B	C	D	E
F	G	H	I	J



Écrire des nombres décimaux sous la dictée.



/ 10



Exercice n° 2

Compare ces nombres décimaux.

Évaluation

a) $6,7$ ___ $6,9$

b) $35,3$ ___ $14,24$

c) $2,6$ ___ $2,600$

d) $4,21$ ___ $4,6$

e) $82,2$ ___ 82

f) $56,07$ ___ $5,607$

g) $3,135$ ___ $3,4$


h) $60,01$ ___ $60,1$

e) 7 ___ $7,000$

i) $0,5$ ___ $0,244$

j) $21,7$ ___ $67,95$

k) $8,610$ ___ $8,9$



Comparer des nombres décimaux.



/ 12


Évaluation

Exercice n° 3

Range ces nombres dans l'ordre demandé.



ORDRE CROISSANT

2,7	7	4,27	2,4	4,027	74,2	72,4	2,47
-----	---	------	-----	-------	------	------	------



ORDRE DÉCROISSANT

3,58	5,3	503,8	8,53	3,8	8,3	38,5	3,508
------	-----	-------	------	-----	-----	------	-------



Ranger des nombres décimaux.



/ 16

Évaluation

Exercice n° 4


Encadre ces nombres entre deux entiers qui se suivent.

___ < 7,4 < ___	___ < 0,5 < ___	___ < 6,78 < ___
___ < 35,9 < ___	___ < 8,63 < ___	___ < 150,1 < ___
___ < 1,267 < ___	___ < 399,5 < ___	___ < 94,96 < ___

___ < 28,35 < ___

___ < 4,038 < ___

___ < 207,2 < ___



Encadrer des nombres décimaux entre deux entiers.



/24

Évaluation

Exercice n° 5

Encadre ces nombres au dixième près.

___ < 2,63 < ___


___ < 1,15 < ___

___ < 4,02 < ___

___ < 8,452 < ___

___ < 34,98 < ___

___ < 53,77 < ___



Encadrer des nombres décimaux au dixième près.



/12

Évaluation

Exercice n° 6

Complète avec un nombre décimal qui convient.

3,5 < ___ < 3,7

1,1 < ___ < 1,12

21,3 < ___ < 25

8,2 < ___ < 8,6


7 < ___ < 7,45

5,24 < ___ < 5,8

50,1 < ___ < 50,9

9,31 < ___ < 9,9

4,651 < ___ < 4,67



Intercaler un nombre décimal entre deux autres décimaux.



/9

Évaluation

Exercice n° 7

Arrondis au nombre entier le plus proche.

8,3

⇒ ___

23,1

⇒ ___

0,51

⇒ ___

5,698

⇒ ___

754,9

⇒ ___

104,479

⇒ ___

39,07


⇒ ___

1 462,8

⇒ ___

42,183

⇒ ___



Arrondir un nombre décimal à l'entier le plus proche.



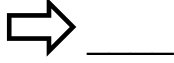
/9

Évaluation

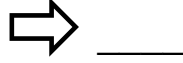
Exercice n° 8

Arrondis au dixième le plus proche.

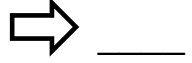
1,32



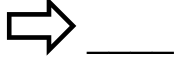
77,11



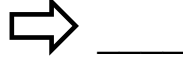
24,194




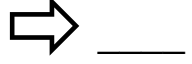
420,57



61,973



812,69



Arrondir un nombre décimal au dixième le plus proche.



/6

Évaluation

Je fais le point

Nom Prénom Date

<https://laclasselleve.fr/>

Les nombres décimaux



Comparer, ranger et encadrer



Exercice n° 1

Écris les nombres décimaux qui te sont dictés.


A	B	C	D	E
F	G	H	I	J



Écrire des nombres décimaux sous la dictée.



/ 10



Exercice n° 2

Compare ces nombres décimaux.

Évaluation

a) $6,7$ ___ $6,9$

b) $35,3$ ___ $14,24$

c) $2,6$ ___ $2,600$

d) $4,21$ ___ $4,6$

e) $82,2$ ___ 82

f) $56,07$ ___ $5,607$

g) $3,135$ ___ $3,4$


h) $60,01$ ___ $60,1$

e) 7 ___ $7,000$

i) $0,5$ ___ $0,244$

j) $21,7$ ___ $67,95$

k) $8,610$ ___ $8,9$



Comparer des nombres décimaux.



/ 12


Évaluation

Exercice n° 3

Range ces nombres dans l'ordre demandé.


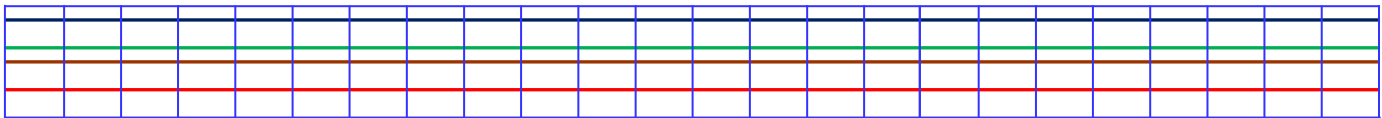
ORDRE CROISSANT

2,7	7	4,27	2,4	4,027	74,2	72,4	2,47
-----	---	------	-----	-------	------	------	------



ORDRE DÉCROISSANT

3,58	5,3	503,8	8,53	3,8	8,3	38,5	3,508
------	-----	-------	------	-----	-----	------	-------



Ranger des nombres décimaux.



/ 16

Évaluation

Exercice n° 4


Encadre ces nombres entre deux entiers qui se suivent.

___ < 7,4 < ___	___ < 0,5 < ___	___ < 6,78 < ___
___ < 35,9 < ___	___ < 8,63 < ___	___ < 150,1 < ___
___ < 1,267 < ___	___ < 399,5 < ___	___ < 94,96 < ___

___ < 28,35 < ___

___ < 4,038 < ___

___ < 207,2 < ___



Encadrer des nombres décimaux entre deux entiers.



/24

Évaluation

Exercice n° 5

Encadre ces nombres au dixième près.

___ < 2,63 < ___


___ < 1,15 < ___

___ < 4,02 < ___

___ < 8,452 < ___

___ < 34,98 < ___

___ < 53,77 < ___



Encadrer des nombres décimaux au dixième près.



/12

Évaluation

Exercice n° 6

Complète avec un nombre décimal qui convient.

3,5 < ___ < 3,7

1,1 < ___ < 1,12

21,3 < ___ < 25

8,2 < ___ < 8,6


7 < ___ < 7,45

5,24 < ___ < 5,8

50,1 < ___ < 50,9

9,31 < ___ < 9,9

4,651 < ___ < 4,67



Intercaler un nombre décimal entre deux autres décimaux.



/9

Évaluation

Exercice n° 7

Arrondis au nombre entier le plus proche.

8,3

⇒ ___

23,1

⇒ ___

0,51

⇒ ___

5,698

⇒ ___

754,9

⇒ ___

104,479

⇒ ___

39,07


⇒ ___

1 462,8

⇒ ___

42,183

⇒ ___



Arrondir un nombre décimal à l'entier le plus proche.



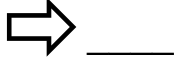
/9

Évaluation

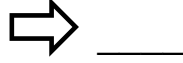
Exercice n° 8

Arrondis au dixième le plus proche.

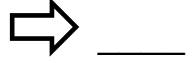
1,32



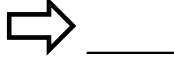
77,11



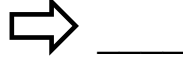
24,194




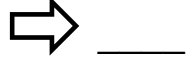
420,57



61,973



812,69



Arrondir un nombre décimal au dixième le plus proche.



/6

Évaluation

Je fais le point

Nom Prénom Date

<https://laclasselleve.fr/>

Les nombres décimaux


Comparer, ranger et encadrer



Exercice n° 1

Écris les nombres décimaux qui te sont dictés.


A	B	C	D	E
F	G	H	I	J



Écrire des nombres décimaux sous la dictée.



/ 10



Exercice n° 2

Compare ces nombres décimaux.

Évaluation

a) $6,7$ ___ $6,9$

b) $35,3$ ___ $14,24$

c) $2,6$ ___ $2,600$

d) $4,21$ ___ $4,6$

e) $82,2$ ___ 82

f) $56,07$ ___ $5,607$

g) $3,135$ ___ $3,4$


h) $60,01$ ___ $60,1$

e) 7 ___ $7,000$

i) $0,5$ ___ $0,244$

j) $21,7$ ___ $67,95$

k) $8,610$ ___ $8,9$



Comparer des nombres décimaux.

Icons: person, clock, book, /12, empty box

Évaluation

Exercice n° 3

Range ces nombres dans l'ordre demandé.


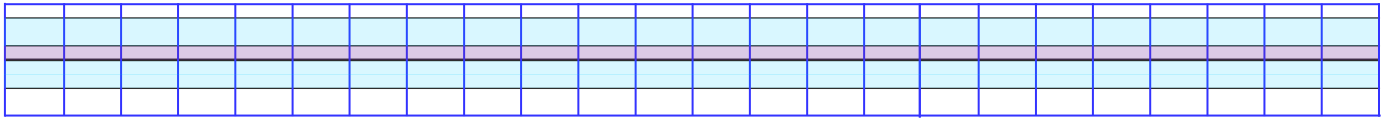
ORDRE CROISSANT

Row of 8 boxes containing numbers: 2,7, 7, 4,27, 2,4, 4,027, 74,2, 72,4, 2,47



ORDRE DÉCROISSANT

Row of 8 boxes containing numbers: 3,58, 5,3, 503,8, 8,53, 3,8, 8,3, 38,5, 3,508



Ranger des nombres décimaux.

Icons: person, clock, book, /16, empty box

Évaluation

Exercice n° 4


Encadre ces nombres entre deux entiers qui se suivent.

___ < 7,4 < ___	___ < 0,5 < ___	___ < 6,78 < ___
___ < 35,9 < ___	___ < 8,63 < ___	___ < 150,1 < ___
___ < 1,267 < ___	___ < 399,5 < ___	___ < 94,96 < ___

___ < 28,35 < ___

___ < 4,038 < ___

___ < 207,2 < ___



Encadrer des nombres décimaux entre deux entiers.



/24

Évaluation

Exercice n° 5

Encadre ces nombres au dixième près.

___ < 2,63 < ___


___ < 1,15 < ___

___ < 4,02 < ___

___ < 8,452 < ___

___ < 34,98 < ___

___ < 53,77 < ___



Encadrer des nombres décimaux au dixième près.



/12

Évaluation

Exercice n° 6

Complète avec un nombre décimal qui convient.

3,5 < ___ < 3,7

1,1 < ___ < 1,12

21,3 < ___ < 25

8,2 < ___ < 8,6


7 < ___ < 7,45

5,24 < ___ < 5,8

50,1 < ___ < 50,9

9,31 < ___ < 9,9

4,651 < ___ < 4,67



Intercaler un nombre décimal entre deux autres décimaux.



/9

Évaluation

Exercice n° 7

Arrondis au nombre entier le plus proche.

8,3

⇒ ___

23,1

⇒ ___

0,51

⇒ ___

5,698

⇒ ___

754,9

⇒ ___

104,479

⇒ ___

39,07


⇒ ___

1 462,8

⇒ ___

42,183

⇒ ___



Arrondir un nombre décimal à l'entier le plus proche.



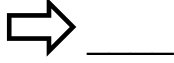
/9

Évaluation

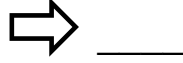
Exercice n° 8

Arrondis au dixième le plus proche.

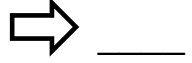
1,32



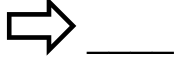
77,11



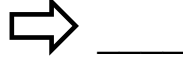
24,194




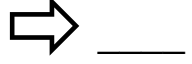
420,57



61,973



812,69



Arrondir un nombre décimal au dixième le plus proche.



/6

Évaluation