

Je fais le point

Nom Prénom Date

<https://laclasselleve.fr/>


Les fractions

Lire et écrire

Exercice n° 1

Écris les fractions dictées par le maître.

A B C D E F G H I J K L



Écrire des fractions sous la dictée.

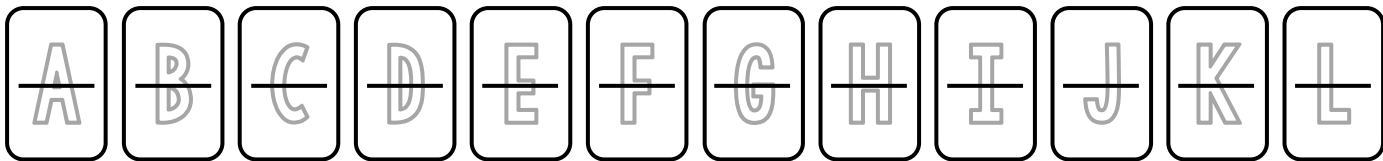
   / 12

Exercice n° 2

Écris en chiffres.

Évaluation


- | | | | |
|------------------|----------------|---------------------|------------------|
| a) deux tiers | d) trois demis | g) sept cinquièmes | j) six centièmes |
| b) cinq sixièmes | e) neuf quarts | h) deux neuvièmes | k) huit tiers |
| c) huit dixièmes | f) un douzième | i) quatre septièmes | l) douze quarts |



Écris en lettres.

- a) $\frac{1}{8}$ b) $\frac{5}{2}$ c) $\frac{3}{4}$ d) $\frac{7}{9}$ e) $\frac{4}{3}$ f) $\frac{8}{6}$ g) $\frac{10}{5}$ h) $\frac{6}{7}$ i) $\frac{25}{100}$

A	D	G
B	E	H
C	F	I



Écrire des fractions en chiffres et en lettres



/21


Évaluation

Exercice n° 3

Écris les fractions représentées par les parties colorées.

Barre la figure impossible à traduire sous la forme d'une fraction !

A	B	C	D	E					
F	G	H	I	J					
A	B	C	D	E	F	G	H	I	J



Écrire la fraction représentée par une partie coloriée.




/10

Évaluation

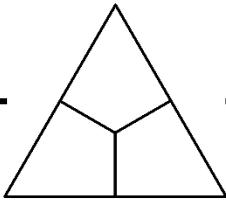


Exercice n° 4


Colorie pour obtenir la fraction demandée.



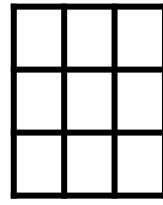
$\frac{3}{4}$




$\frac{2}{3}$



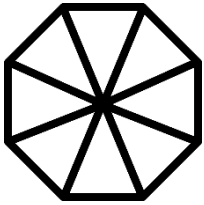
$\frac{1}{2}$



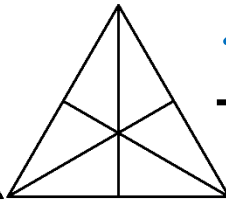
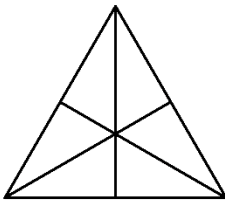
$\frac{5}{9}$



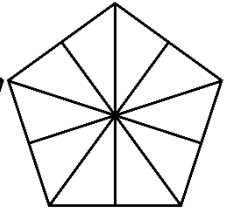
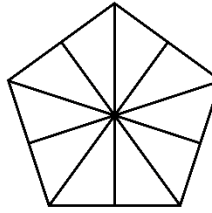
$\frac{4}{5}$




$\frac{7}{8}$



$\frac{10}{6}$



$\frac{20}{10}$



Colorier des parts pour obtenir la fraction demandée.



/ 8

Évaluation