

Je fais le point

Nom Prénom Date

<https://laclasselleve.fr/>

Les fractions Comparer

Exercice n° 1

Écris en lettres les fractions que te montre le maître.

A


C

E

B

D

F



Écrire la fraction représentée par une partie coloriée.




 /

Exercice n° 2

Classe ces fractions dans le tableau.

$\frac{4}{6}$ $\frac{9}{5}$ $\frac{2}{7}$ $\frac{3}{3}$ $\frac{6}{4}$ $\frac{1}{2}$ $\frac{15}{15}$ $\frac{8}{7}$ $\frac{12}{10}$ $\frac{75}{100}$

Évaluation


Fractions
inférieures à 1

Fractions
égales à 1

Fractions
supérieures à 1

—	—	—	—	—	—	—	—	—	—	—	—
---	---	---	---	---	---	---	---	---	---	---	---

Évaluation



Comparer des fractions par rapport à l'unité.




/ 10

Exercice n° 3

Compare ces fractions entre elles.

$\frac{3}{2}$	<input type="text"/>	$\frac{1}{2}$	$\frac{5}{9}$	<input type="text"/>	$\frac{8}{9}$	$\frac{2}{5}$	<input type="text"/>	$\frac{5}{5}$	$\frac{7}{7}$	<input type="text"/>	$\frac{3}{3}$
$\frac{4}{20}$	<input type="text"/>	$\frac{7}{20}$	$\frac{6}{6}$	<input type="text"/>	$\frac{10}{10}$	$\frac{1}{4}$	<input type="text"/>	$\frac{3}{8}$	$\frac{7}{9}$	<input type="text"/>	$\frac{15}{27}$

Évaluation



Comparer des fractions entre elles.



/ 8

Exercice n° 4

Range ces fractions dans l'ordre voulu.

Ordre croissant

Ordre décroissant


$\frac{4}{7}$	$\frac{9}{7}$	$\frac{5}{7}$	$\frac{12}{7}$	$\frac{7}{7}$	$\frac{15}{7}$
---------------	---------------	---------------	----------------	---------------	----------------

$\frac{2}{5}$	$\frac{8}{5}$	$\frac{5}{5}$	$\frac{16}{5}$	$\frac{1}{5}$	$\frac{10}{5}$
---------------	---------------	---------------	----------------	---------------	----------------

— — — — —

— — — — —

Évaluation



Ranger des fractions.



/ 12