


Je fais le point

Nom Prénom Date

<https://laclasselleve.fr/>

Les fractions


Placer sur une droite graduée



Exercice n° 1

Écris les fractions représentées par les parties colorisées.

A B C D E F G H I J K L



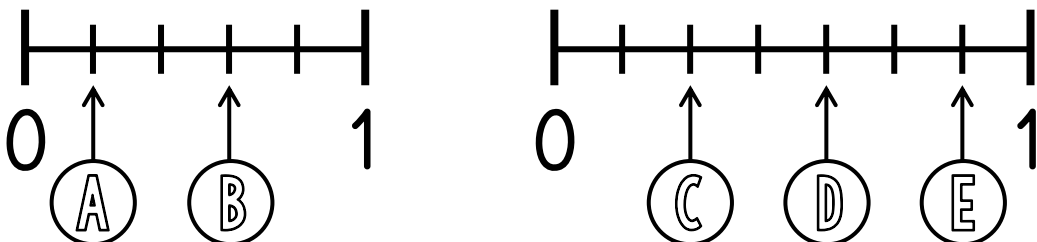
Écrire la fraction représentée par une partie colorisée.

/ 12

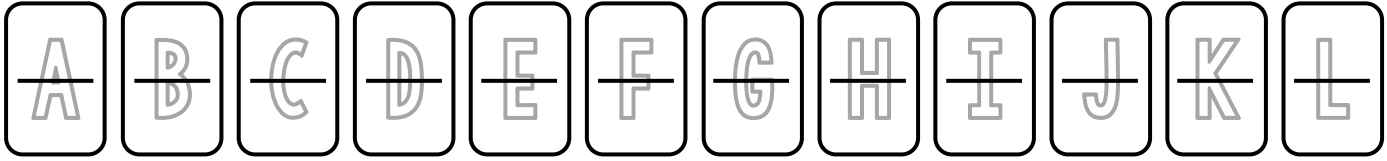
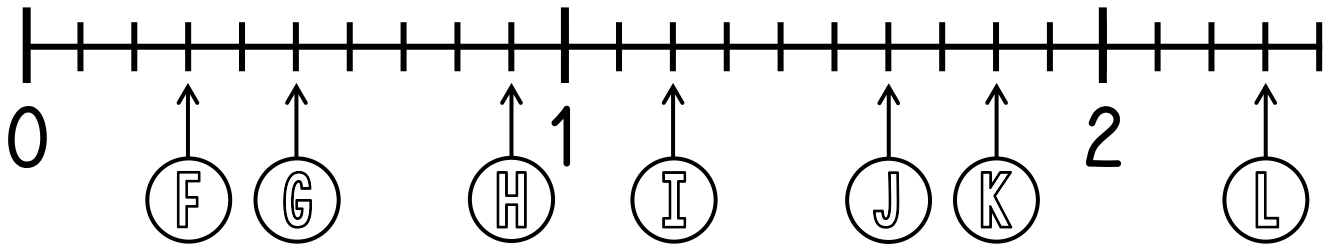


Exercice n° 2


Écris la fraction qui correspond à chaque lettre.



Évaluation



Évaluation



Lire des fractions sur une droite graduée.

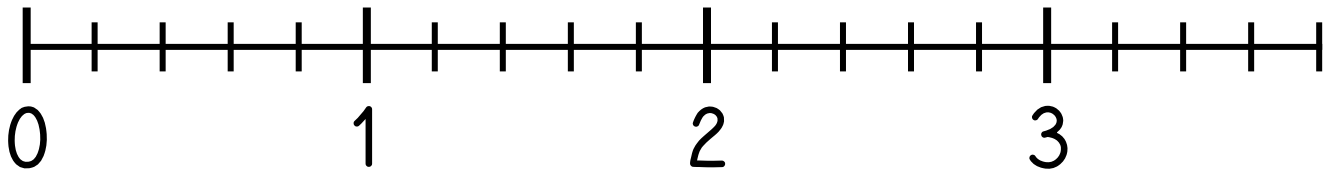


/12

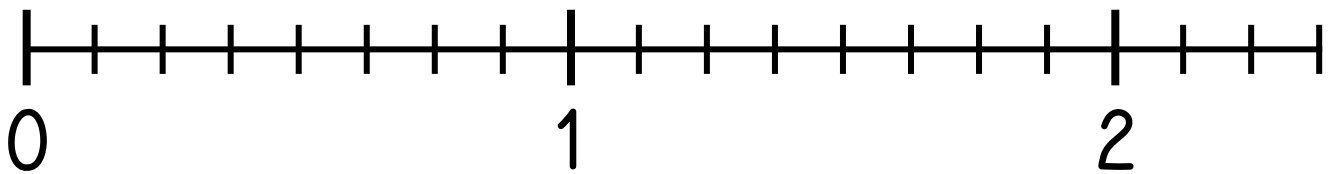
Exercice n° 3

Place les fractions sur la droite graduée.


$$\frac{3}{5} \quad \frac{9}{5} \quad \frac{5}{5} \quad \frac{12}{5} \quad \frac{18}{5}$$



$$\frac{2}{8} \quad \frac{6}{8} \quad \frac{14}{8} \quad 1 + \frac{3}{8} \quad 2 + \frac{1}{8}$$



Évaluation



Placer des fractions sur une droite graduée.



/10