

Je fais le point

Nom Prénom Date


<https://laclasselleve.fr/>

Les nombres décimaux Lire et écrire

Exercice n° 1

Écris les nombres décimaux qui te sont dictés.

A	B	C	D	E
F	G	H	I	J



Écris des nombres décimaux sous la dictée.




/ 10

Exercice n° 2

Entoure la partie entière et souligne la partie décimale.

4,5	9,362	71,08		
0,07	109,51	500	36,9	2,486

Évaluation



Distinguer les deux parties constitutives d'un nombre décimal




/ 8

Exercice n° 3

Récris ces nombres en supprimant les zéros inutiles (s'il y en a).

21,50	⇒	_____	4,610	⇒	_____	305,090	⇒	_____
6,00	⇒	_____	10,08	⇒	_____	700,200	⇒	_____
0,009	⇒	_____	9,400	⇒	_____	840,01	⇒	_____



Repérer et supprimer les zéros inutiles dans un décimal




/ 9

Exercice n° 4

Écris en lettres. Observe l'exemple.

3,45 = trois unités et quarante-cinq centièmes

- a) 1,3 ⇒ _____
- b) 4,89 ⇒ _____
- c) 7,2 ⇒ _____
- d) 54,03 ⇒ _____
- e) 6,008 ⇒ _____
- f) 827,4 ⇒ _____
- g) 0,51 ⇒ _____
- h) 92,403 ⇒ _____
- i) 246,77 ⇒ _____
- j) 3,534 ⇒ _____



Écrire des nombres décimaux en lettres.




/ 20

Exercice n° 5

Écris sous la forme d'un nombre décimal.

- a) 4 unités et 7 dixièmes \Rightarrow _____
- b) 5 unités et 9 centièmes \Rightarrow _____
- c) 6 unités et 3 millièmes \Rightarrow _____
- d) 8 dizaines, 2 unités et 5 dixièmes \Rightarrow _____
- e) 1 centième \Rightarrow _____
- f) 7 centaines et 6 dixièmes \Rightarrow _____
- g) 4 centaines, 7 unités et 3 centièmes \Rightarrow _____
- h) 5 unités, 1 dixième et 8 millièmes \Rightarrow _____
- i) 6 dizaines et 6 centièmes \Rightarrow _____
- j) 21 unités, 7 dixièmes et 9 centièmes \Rightarrow _____



Écrire des nombres décimaux en chiffres.



/ 10

Évaluation

Exercice n° 6

Que représente le chiffre 4 dans chacun de ces nombres ?

4,51 \Rightarrow _____


36,94 \Rightarrow _____

42,068 \Rightarrow _____

21,46 \Rightarrow _____

475,53 \Rightarrow _____

0,094 \Rightarrow _____



Connaître la valeur des chiffres dans un nombre décimal.



/ 6

Évaluation