

Je fais le point

Nom Prénom Date


<https://laclasselleve.fr/>

Les fractions Comparer



Exercice n° 1

Écris en lettres les fractions que te montre le maître.



Écrire la fraction représentée par une partie coloriée.

/ 6



Exercice n° 2

Classe ces fractions dans le tableau.

$\frac{2}{7}$	$\frac{4}{3}$	$\frac{8}{8}$	$\frac{7}{6}$	$\frac{1}{3}$	$\frac{5}{5}$	$\frac{12}{10}$	$\frac{4}{9}$	$\frac{20}{8}$	$\frac{45}{100}$
---------------	---------------	---------------	---------------	---------------	---------------	-----------------	---------------	----------------	------------------


Évaluation

Fractions
inférieures à 1

Fractions
égales à 1

Fractions
supérieures à 1

—	—	—	—	—	—	—	—	—	—	—	—
---	---	---	---	---	---	---	---	---	---	---	---



Comparer des fractions par rapport à l'unité.




/ 10

Évaluation

Exercice n° 3

Compare ces fractions entre elles.

$\frac{1}{4}$	<input type="text"/>	$\frac{3}{4}$	$\frac{5}{7}$	<input type="text"/>	$\frac{4}{7}$	$\frac{3}{3}$	<input type="text"/>	$\frac{5}{5}$	$\frac{9}{2}$	<input type="text"/>	$\frac{3}{2}$
$\frac{4}{10}$	<input type="text"/>	$\frac{7}{10}$	$\frac{8}{8}$	<input type="text"/>	$\frac{6}{6}$	$\frac{12}{4}$	<input type="text"/>	$\frac{7}{4}$	$\frac{2}{5}$	<input type="text"/>	$\frac{4}{5}$



Comparer des fractions entre elles.



/ 8

Évaluation

Exercice n° 4

Range ces fractions dans l'ordre voulu.

Ordre croissant


$\frac{3}{5}$ $\frac{7}{5}$ $\frac{4}{5}$ $\frac{9}{5}$ $\frac{5}{5}$ $\frac{1}{5}$

Ordre décroissant

$\frac{6}{9}$ $\frac{9}{9}$ $\frac{4}{9}$ $\frac{20}{9}$ $\frac{3}{9}$ $\frac{15}{9}$

— — — — —

— — — — —



Ranger des fractions.



/ 12

Évaluation