


Je fais le point

Nom Prénom Date

<https://laclasselleve.fr/>

Les fractions


Placer sur une droite graduée



Exercice n° 1


Écris les fractions représentées par les parties colorées.

A B C D E F G H I J K L



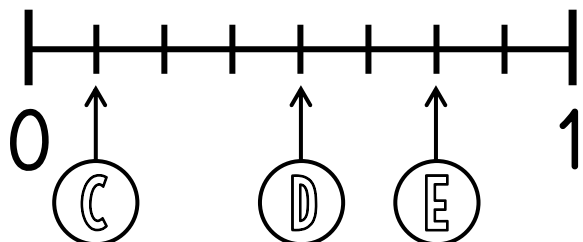
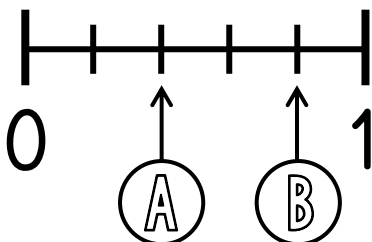
Écrire la fraction représentée par une partie colorée.

/ 12

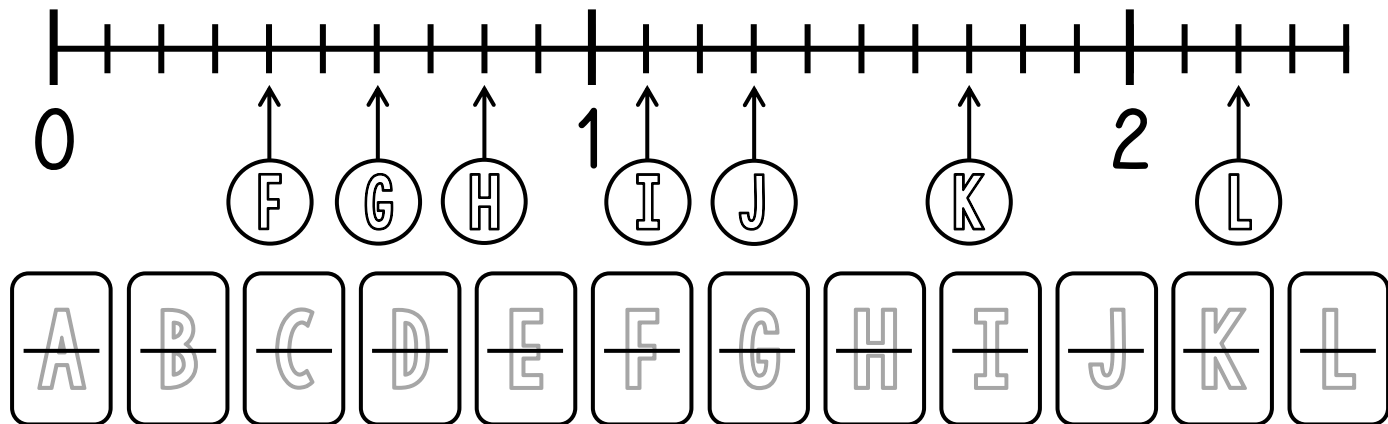


Exercice n° 2

Écris la fraction qui correspond à chaque lettre.



Évaluation



Évaluation

Are Good Job
when can?
was the man?

Lire des fractions sur une droite graduée.

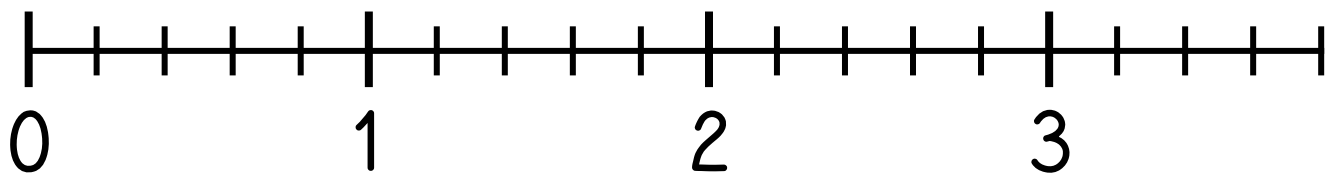


/12

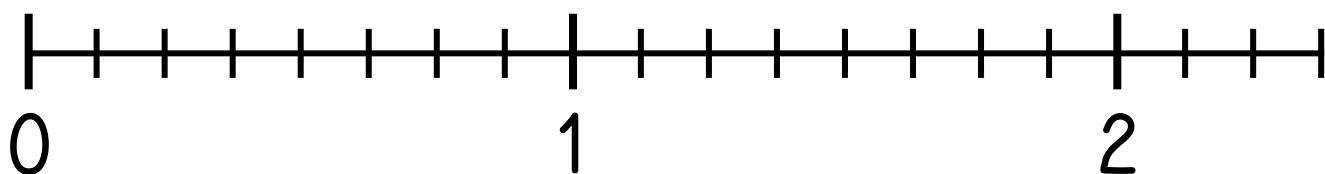
Exercice n° 3

Place les fractions sur la droite graduée.

$$\frac{2}{5} \quad \frac{5}{5} \quad \frac{10}{5} \quad \frac{4}{5} \quad \frac{13}{5}$$



$$\frac{6}{8} \quad \frac{9}{8} \quad \frac{16}{8} \quad \frac{1}{2} \quad 1 + \frac{3}{8}$$



Évaluation

Are Good Job
when can?
was the man?

Placer des fractions sur une droite graduée.



/10