

# Nombre

Nom \_\_\_\_\_

Prénom \_\_\_\_\_

Date \_\_\_\_/\_\_\_\_/\_\_\_\_

<https://laclassedleuve.fr/>

1 Écris ces fractions en lettres.

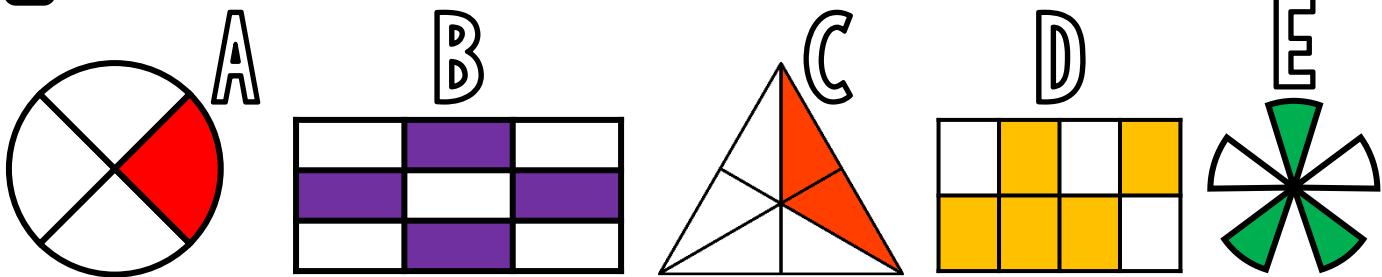
- a)  $\frac{1}{5}$    b)  $\frac{7}{2}$    c)  $\frac{4}{6}$    d)  $\frac{3}{4}$    e)  $\frac{6}{8}$    f)  $\frac{9}{3}$    g)  $\frac{5}{12}$    h)  $\frac{8}{7}$    i)  $\frac{20}{100}$

A \_\_\_\_\_  
B \_\_\_\_\_  
C \_\_\_\_\_

D \_\_\_\_\_  
E \_\_\_\_\_  
F \_\_\_\_\_

G \_\_\_\_\_  
H \_\_\_\_\_  
I \_\_\_\_\_

2 Écris les fractions représentées par les parties colorées.



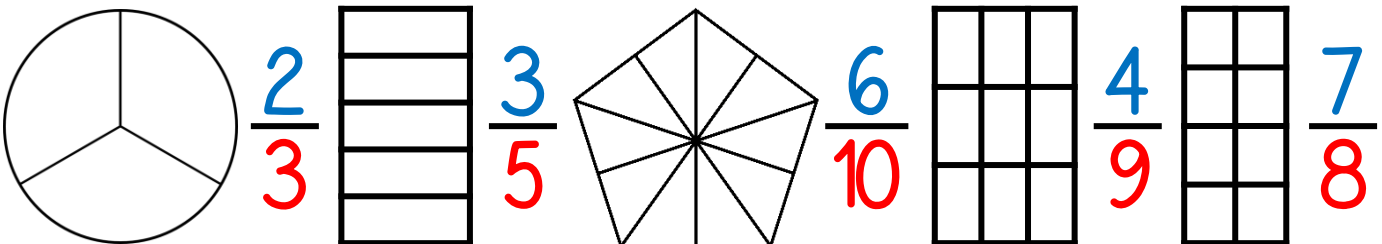
A \_\_\_\_\_ B \_\_\_\_\_ C \_\_\_\_\_ D \_\_\_\_\_ E \_\_\_\_\_



Écris la fraction B en lettres!

3 Colorie pour obtenir la fraction demandée.

B \_\_\_\_\_



# Nombres

Nom

Prénom

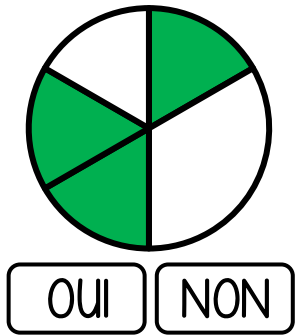
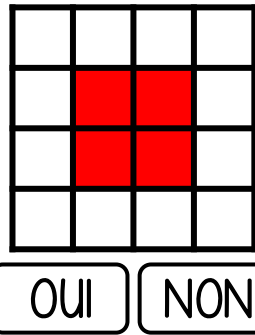
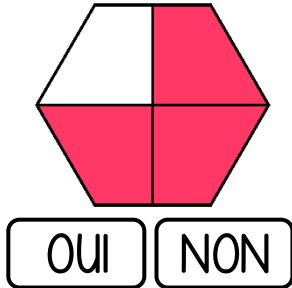
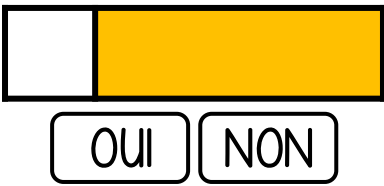
Date  /  /

<https://laclassebleue.fr/>

1 Écris les fractions dictées par le maître.

A B C D E F G H I J

2 Est-il possible d'écrire la partie coloriée sous forme d'une fraction ?

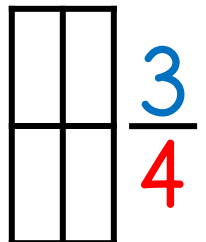
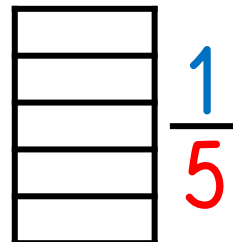
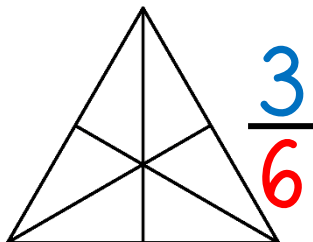
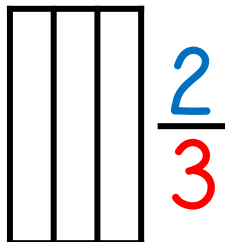
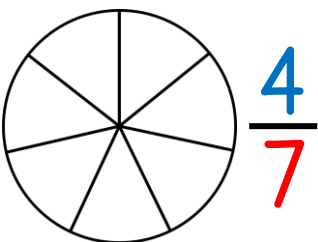


3 Écris en chiffres.

- a) un demi
- b) six quarts
- c) cinq tiers
- d) dix cinquièmes
- e) sept neuvièmes
- f) trois septièmes
- g) un dixième
- h) huit douzièmes
- i) deux huitièmes
- j) neuf centièmes
- k) quatre sixièmes
- l) vingt trentièmes

A B C D E F G H I J K L

4 Colorie pour obtenir la fraction demandée.



# Nombre

Nom

Prénom

Date

<https://laclassebleue.fr/>

1 Écris ces fractions en lettres.

- a)  $\frac{3}{4}$    b)  $\frac{5}{9}$    c)  $\frac{6}{7}$    d)  $\frac{9}{2}$    e)  $\frac{4}{5}$    f)  $\frac{7}{8}$    g)  $\frac{2}{10}$    h)  $\frac{1}{3}$    i)  $\frac{15}{100}$

A

B

C

D

E

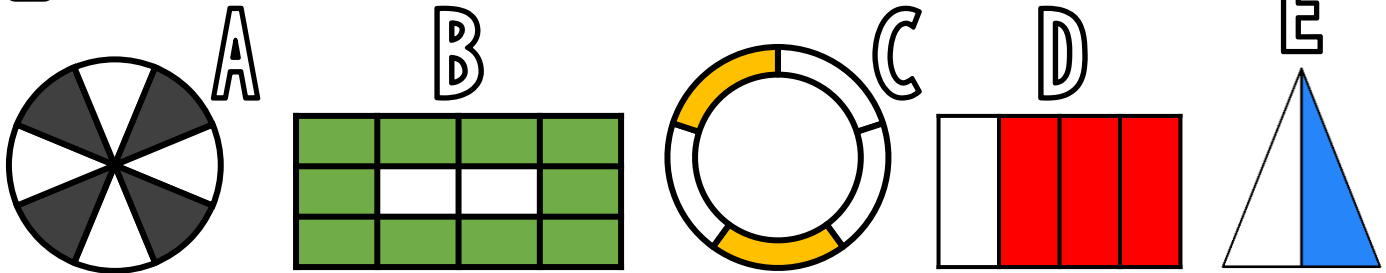
F

G

H

I

2 Écris les fractions représentées par les parties coloriées.



A

B

C


D

E



Écris la fraction C en lettres!

3 Colorie pour obtenir la fraction demandée.



# Nombre

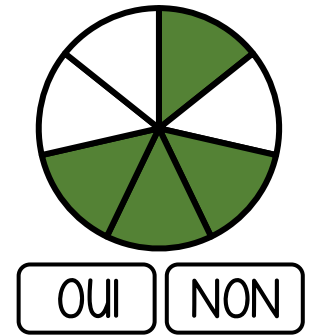
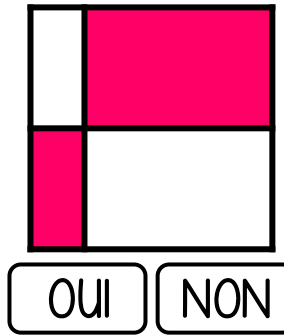
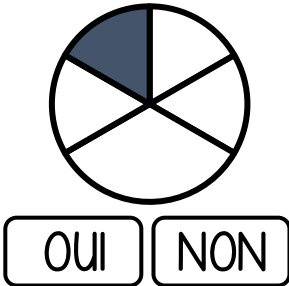
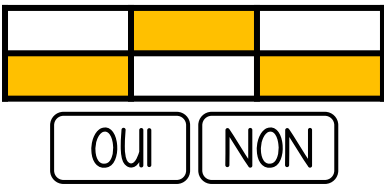
Nom  Prénom  Date

<https://laclassebleue.fr/>

1 Écris les fractions dictées par le maître.

A B C D E F G H I J

2 Est-il possible d'écrire la partie coloriée sous forme d'une fraction ?

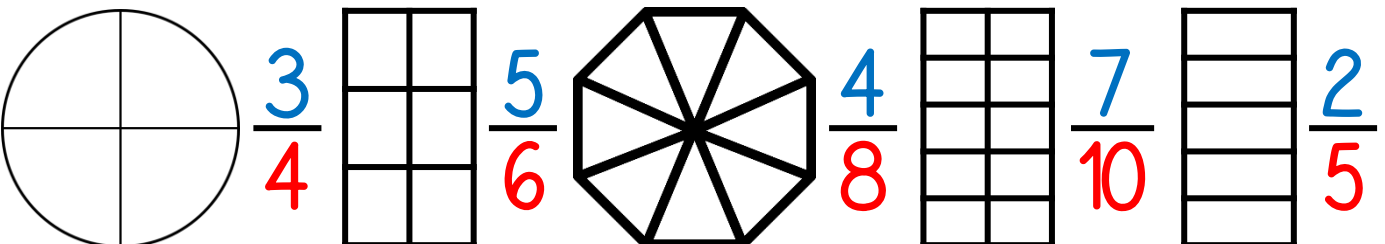


3 Écris en chiffres.

- a) un tiers
- b) deux quarts
- c) trois demis
- d) cinq huitièmes
- e) neuf sixièmes
- f) dix douzièmes
- g) quatre cinquièmes
- h) dix-sept tiers
- i) quinze vingtièmes
- j) deux demis
- k) huit quarts
- l) un centième

A B C D E F G H I J K L

4 Colorie pour obtenir la fraction demandée.



# Nombre

Nom

Prénom

Date

<https://laclassobleue.fr/>

1 Écris ces fractions en lettres.

- a)  $\frac{4}{5}$    b)  $\frac{7}{3}$    c)  $\frac{2}{6}$    d)  $\frac{9}{9}$    e)  $\frac{1}{4}$    f)  $\frac{3}{7}$    g)  $\frac{12}{15}$    h)  $\frac{8}{2}$    i)  $\frac{50}{100}$

A

B

C

D

E

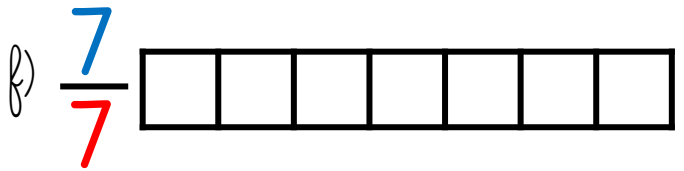
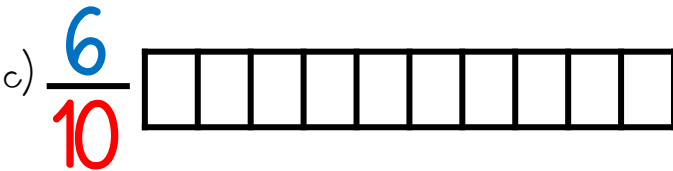
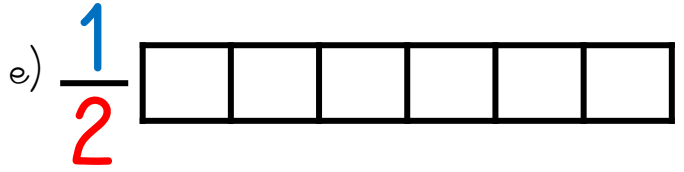
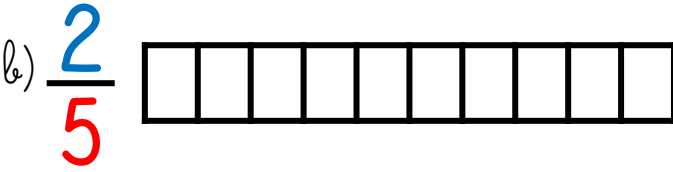
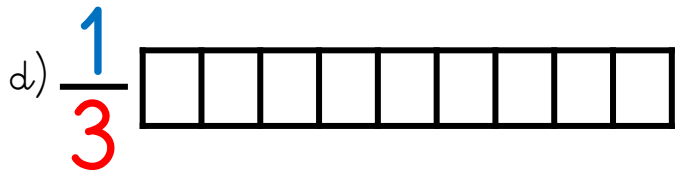
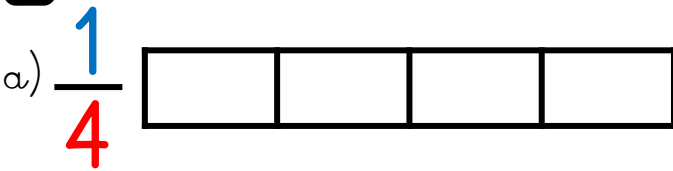
F

G

H

I

2 Colorie la partie correspondant à chaque fraction.



3 Écris les fractions dictées par le maître.

A    B    C    D    E    F    G    H    I    J