

Je fais le point

Nom Prénom Date

<https://laclasselleve.fr/>

La multiplication des nombres entiers

Multiplicateur à 1 chiffre



Exercice n° 1

Complète ces multiplications.

$\underline{\quad} \times 7 = 28$	$45 \times \underline{\quad} = 90$	$\underline{\quad} \times 8 = 72$
$6 \times \underline{\quad} = 54$	$\underline{\quad} \times 70 = 210$	$\underline{\quad} \times 150 = 750$
$\underline{\quad} \times 4 = 32$	$60 \times \underline{\quad} = 240$	$24 \times \underline{\quad} = 96$



Calculer en ligne des multiplications à trous.



Évaluation

/



Exercice n° 2

Calcule en décomposant. Observe l'exemple.

519×8

362×4

$2\,487 \times 6$

As Good job
when can?
can we can?

Poser et effectuer une multiplication avec des entiers.




/ 18

Évaluation

Exercice n° 4

Résous ces problèmes.

N° 1



Pour son activité, une entreprise de transport achète 4 véhicules qui coûtent 23 785 € chacun.
Combien l'entreprise dépense-t-elle en tout pour ses achats ?



- J'ai rédigé une phrase d'annonce.
- J'ai écrit mon calcul en ligne avant de le poser et de l'effectuer.
- J'ai rédigé une phrase-réponse correctement construite.

N°2



Ce soir, au cinéma Olympia, 276 adultes et 83 enfants assistent à la projection du nouveau film des studios Disney.

Le tarif adulte est de 9 € tandis que le tarif enfant est de 5 €.

Combien cette séance va-t-elle rapporter au cinéma Olympia ?




J'ai rédigé une phrase d'annonce.

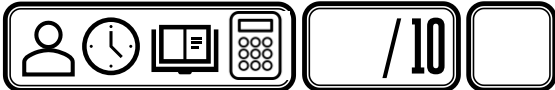
J'ai écrit

mon calcul en ligne avant de le poser et de l'effectuer.

J'ai rédigé une phrase-réponse correctement construite.



Résoudre des problèmes relevant de la multiplication



Évaluation