

Je fais le point

Nom Prénom Date

<https://laclasselleve.fr/>

Les mesures de masses

Exercice n° 1

Colorie les unités selon la légende.

Gare aux intrus !

La principale unité de mesure de masses	ses multiples	ses sous-multiples
ROUGE	BLEU	JAUNE

- quintal
- kilogramme
- gramme
- milligramme
- tonne
- litre
- centigramme
- hectomètre
- décigramme
- mètre
- décagramme
- hectogramme



Évaluation

Connaitre les unités de mesures de masses.



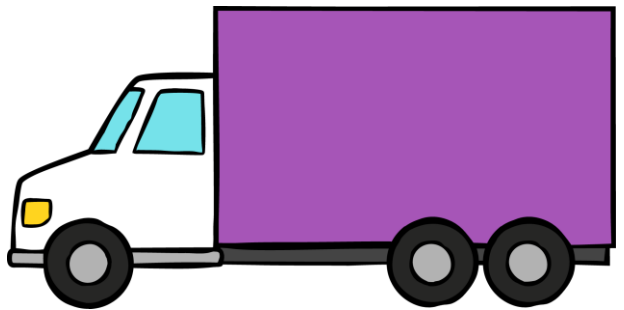






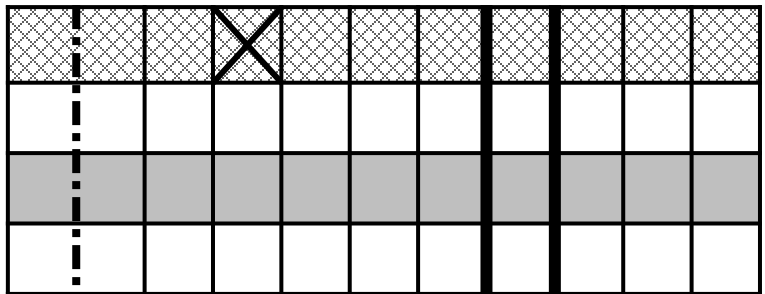
- J'ai rédigé une phrase d'annonce.
- J'ai écrit mon calcul en ligne avant de le poser et de l'effectuer.
- J'ai rédigé une phrase-réponse correctement construite.

N°2




Un camion vide pèse 2,3 t.
On le charge avec 25 caisses pesant chacune 300 kg.

Le chauffeur pourra-t-il emprunter une route autorisée aux poids lourds de moins de 9 t ?





- J'ai rédigé une phrase d'annonce.
- J'ai écrit mon calcul en ligne avant de le poser et de l'effectuer.
- J'ai rédigé une phrase-réponse correctement construite.



Résoudre des problèmes impliquant des mesures de masses.



Évaluation