

Nom _____

Prénom _____

Date ____/____/____

<https://laclasselleve.fr/>

Les angles




Exercice n° 1

Colorie selon la légende.

<u>angle aigu</u>	<u>angle droit</u>	<u>angle obtus</u>
BLEU	ROUGE	VERT

Diagram illustrating various angles labeled A through J, intended for coloring according to the legend.

- A: Acute angle
- B: Acute angle
- C: Obtuse angle
- D: Acute angle
- E: Right angle
- F: Obtuse angle
- G: Obtuse angle
- H: Acute angle
- I: Acute angle
- J: Obtuse angle



Dire à l'aide de l'équerre si un angle est aigu, droit ou obtus.

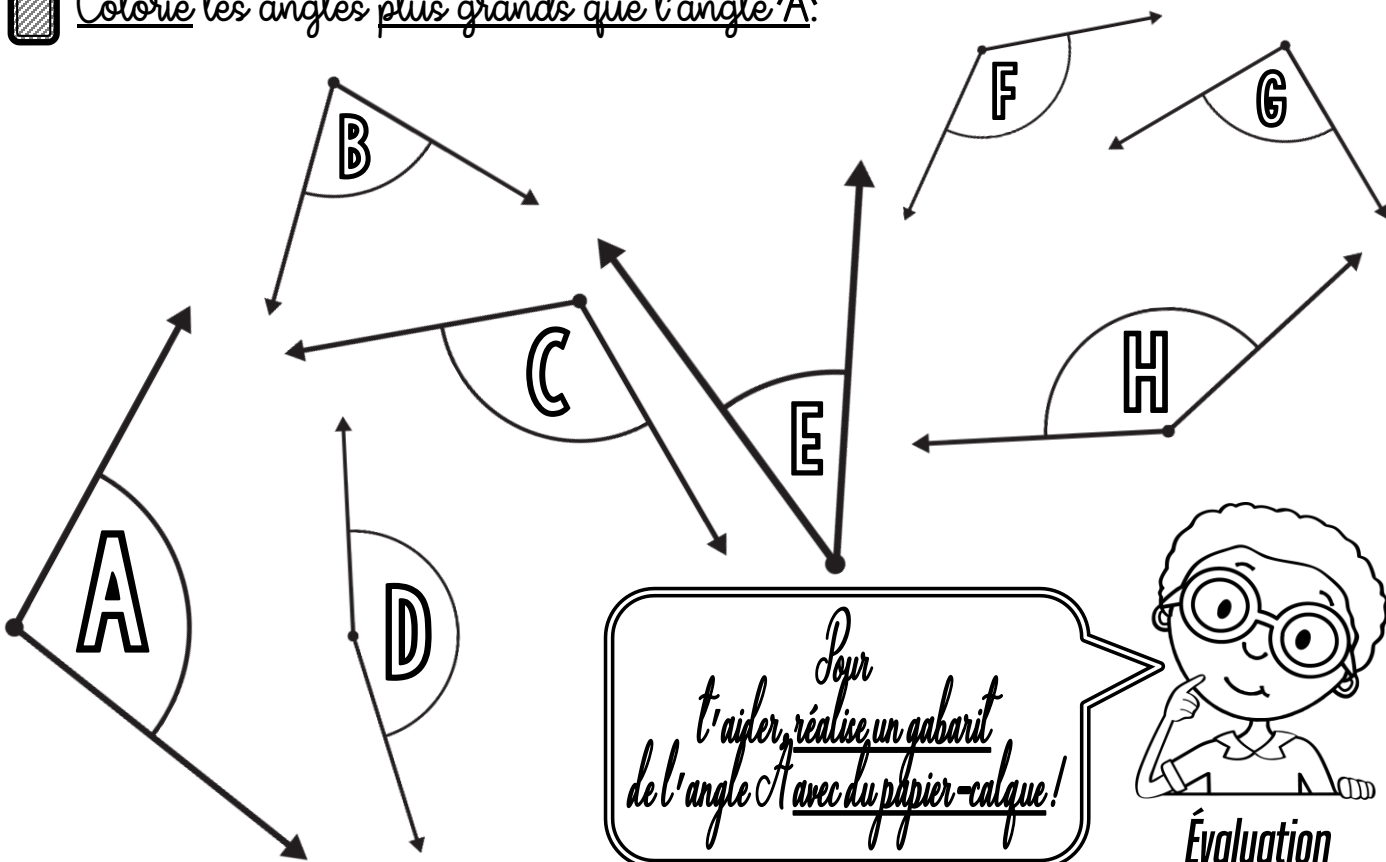


/ 10



Exercice n° 2


Colorie les angles plus grands que l'angle A.



Pour t'aider, réalise un gabarit de l'angle A avec du papier-calque!



Évaluation



Comparer des angles en utilisant un gabarit

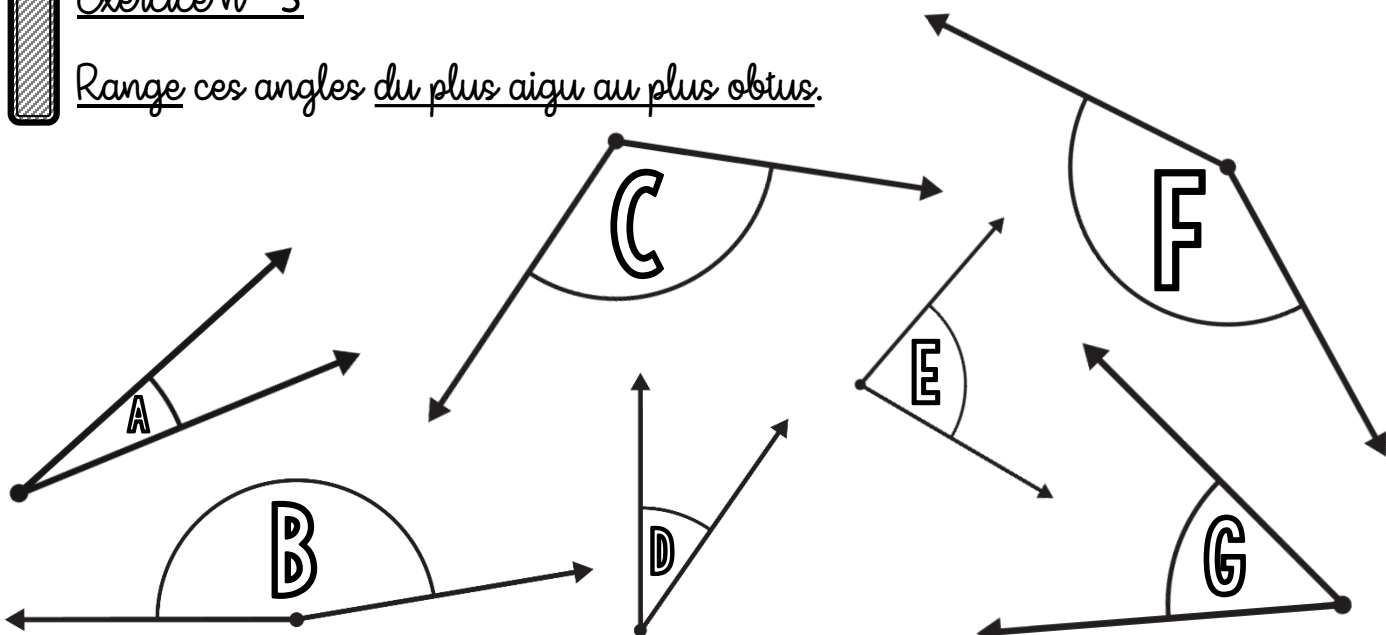


/ 8



Exercice n° 3

Range ces angles du plus aigu au plus obtus.






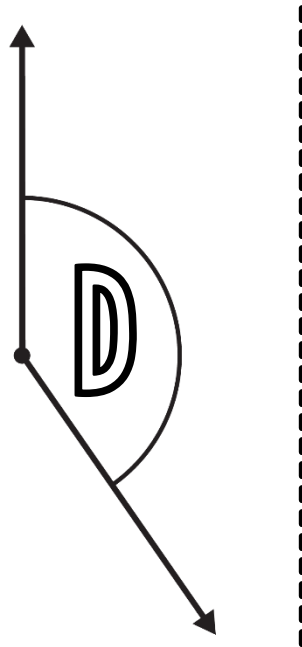
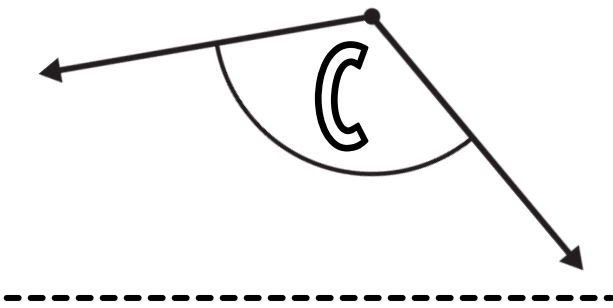
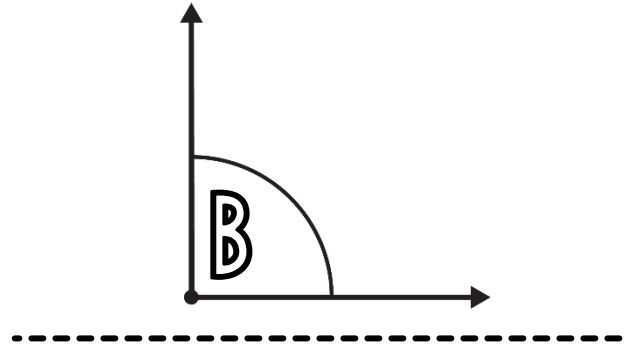
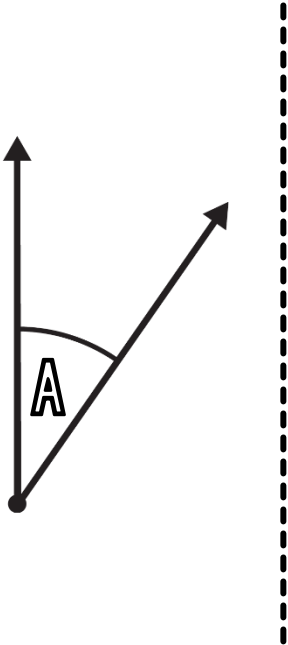
Ranger des angles du plus aigu au plus obtus.



/ 7

Exercice n° 4


Reproduis ces angles à l'aide de papier-calque.



Reproduire des angles à l'aide de papier-calque.



/ 12




Exercice n° 5

Trace les figures suivantes.

un
quadrilatère
ABCD avec trois angles
obtus et un angle aigu

un
hexagone **EFGHIJ**
avec un angle droit, trois angles obtus
et deux angles aigus



Tracer une figure en respectant des indications relatives à ses angles.



/8



Évaluation