

# Je fais le point

Nom  Prénom  Date

<https://laclasselleve.fr/>


## La multiplication d'un entier par un décimal



### Exercice n° 1

Complète ces multiplications.

$1,2 \times 4 = \underline{\quad}$	$4,1 \times 3 = \underline{\quad}$	$7,1 \times 4 = \underline{\quad}$
$3,2 \times 3 = \underline{\quad}$	$6,4 \times 2 = \underline{\quad}$	$2,5 \times 2 = \underline{\quad}$
$0,5 \times 2 = \underline{\quad}$	$8,5 \times 2 = \underline{\quad}$	$9,2 \times 3 = \underline{\quad}$




**Multiplier un entier par un décimal sans poser l'opération**



Évaluation

/



### Exercice n° 2


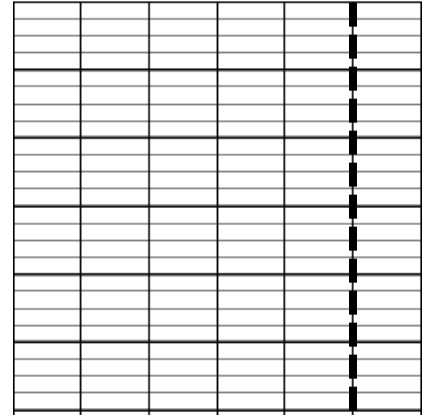
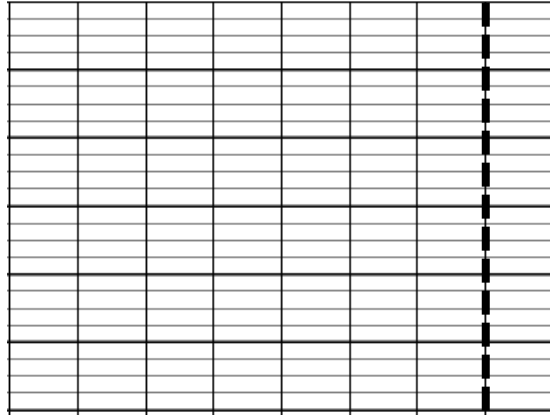
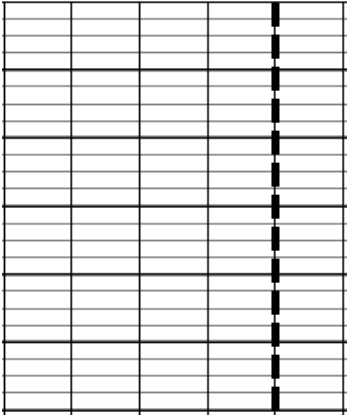
Colorie le résultat qui convient parmi les propositions.



$17 \times 2,34$

$84,543 \times 15$

$29 \times 7,62$



Poser et effectuer une multiplication d'un entier par un décimal



/18



Évaluation

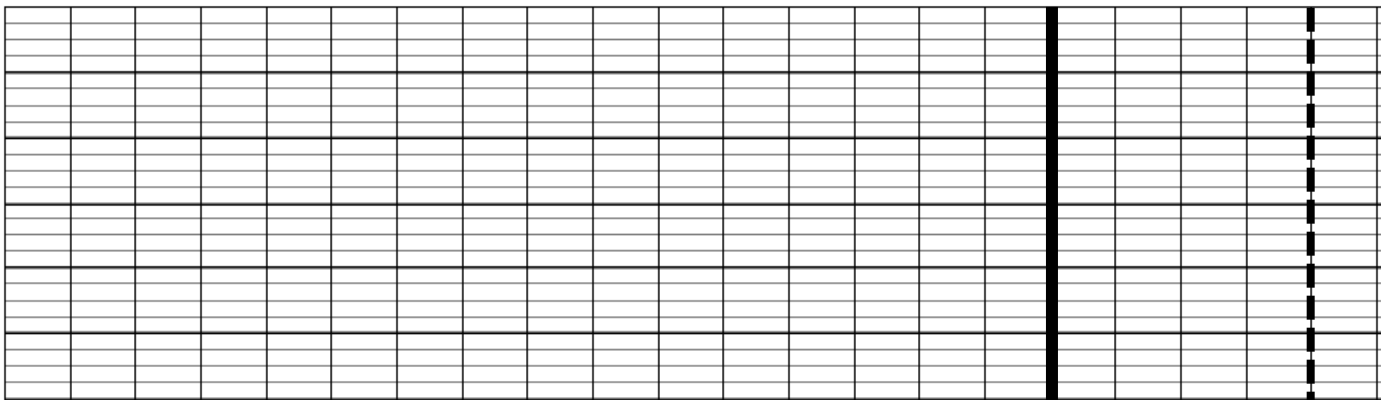
Exercice n° 5

Résous ces problèmes.

**N°1**



Les organisateurs d'un spectacle de magie ont vendu 87 places au prix unitaire de 4,5 €. Quel est le montant total de la recette ?



- J'ai rédigé une phrase d'annonce.
- J'ai écrit mon calcul en ligne avant de le poser et de l'effectuer.
- J'ai rédigé une phrase-réponse correctement construite.

