

Je fais le point

Nom Prénom Date

<https://laclasselleve.fr/>

Droites perpendiculaires



Exercice n° 1

Repasse les droites perpendiculaires aux droites à (D_1) , (D_2) , (D_3) et (D_4) .

Figure n°1

Figure n°2

Figure n°3


Figure n°4

(D_1)

(D_2)

(D_3)

(D_4)

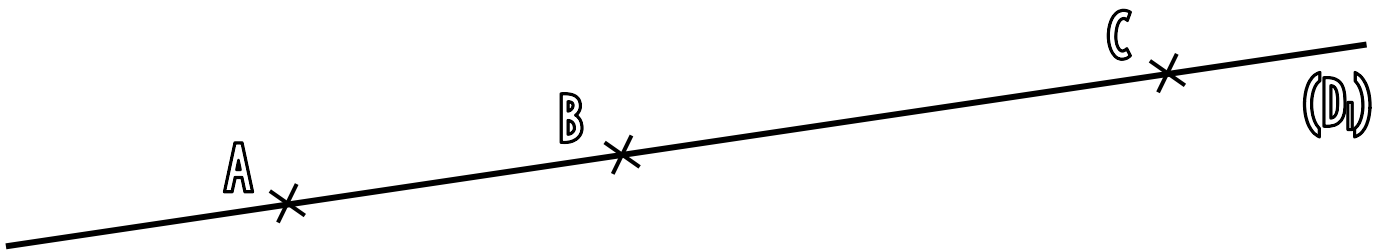


Identifier des droites perpendiculaires.



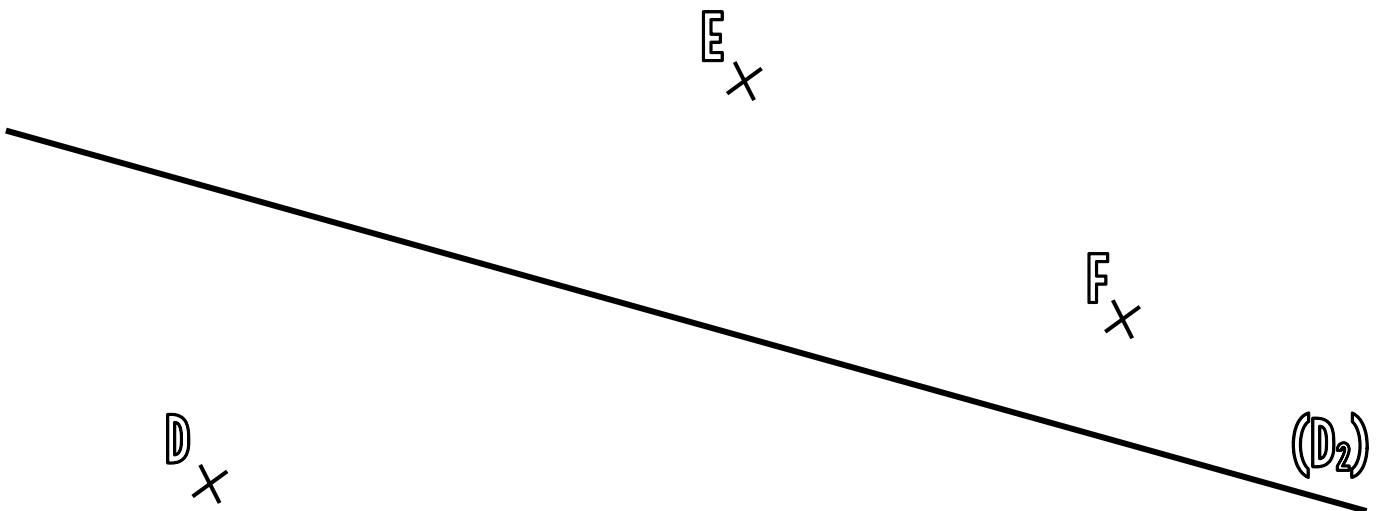
Exercice n° 2

Trace les droites perpendiculaires à (D_1) passant par les points A, B et C.



Exercice n° 3

Trace les droites perpendiculaires à (D_2) passant par les points D, E et F.



Tracer des droites perpendiculaires.

