

Je fais le point


Nom _____

Prénom _____

Date ____/____/____


<https://laclasselleve.fr/>


Les polygones



Exercice n° 1

Colorie seulement les polygones.






Identifier des polygones.



/ 15



Exercice n° 2


Trace les polygones demandés.

un triangle
avec deux côtés égaux

un quadrilatère
avec deux angles droits

un pentagone
avec un angle droit
et deux côtés de même longueur

un heptagone
avec deux angles droits
et deux côtés de même longueur



Tracer des polygones répondant à des critères précis.




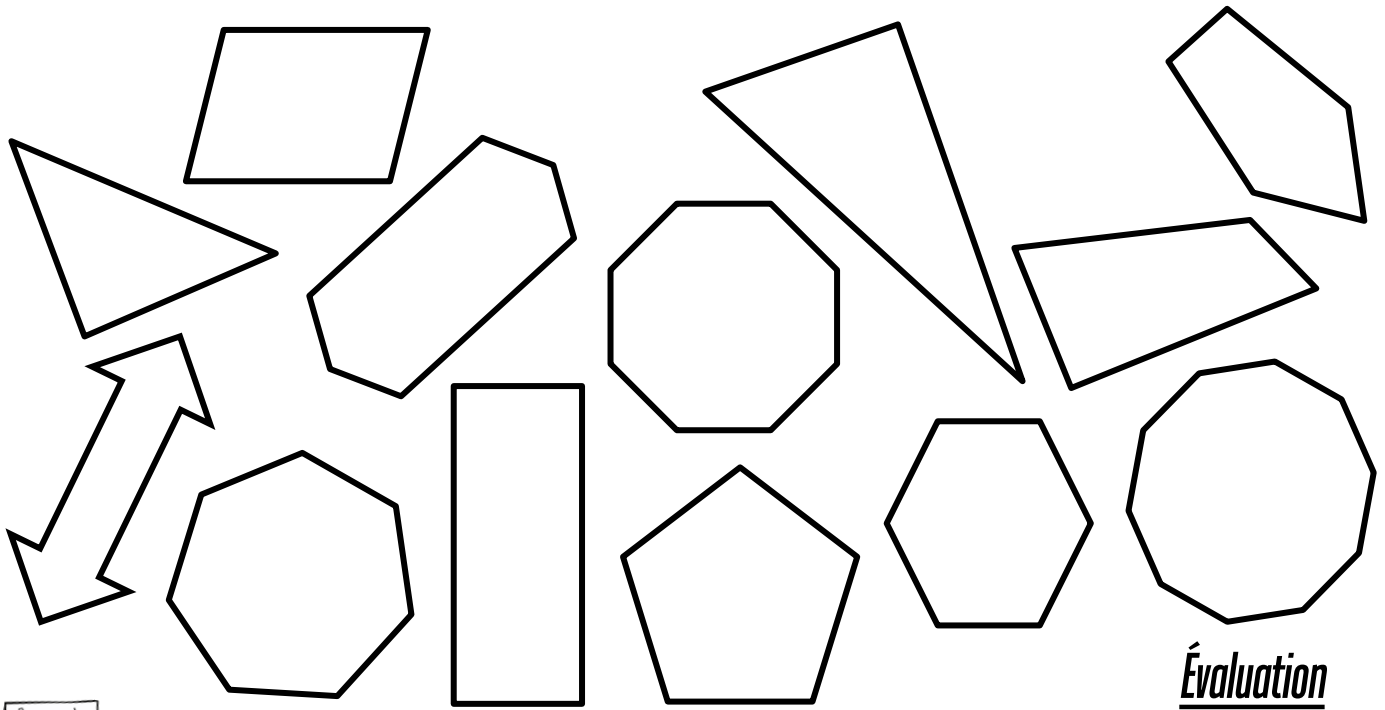
/ 12



Exercice n° 3

Colorie de la bonne couleur.

<u>triangle</u>	<u>quadrilatère</u>	<u>pentagone</u>	<u>hexagone</u>	<u>heptagone</u>	<u>octogone</u>	<u>décagone</u>
BLEU	JAUNE	ROUGE	VERT	ROSE	VIOLET	ORANGE



Distinguer les différentes familles de polygones.



Évaluation

/13	
-----	--