


Je fais le point

Nom _____ Prénom _____ Date ____/____/____

<https://laclasselleve.fr/>

Les parallélogrammes




Exercice n° 1

Colorie selon la légende.

Gare à l'intrus!

<u>carré</u>	<u>rectangle</u>	<u>losange</u>	<u>parallélogramme quelconque</u>
BLEU	VERT	JAUNE	ROUGE



Reconnaitre les différents parallélogrammes.




Évaluation

Exercice n° 2

Coche la bonne réponse.

1) Les parallélogrammes sont <u>des quadrilatères particuliers.</u>	<input type="radio"/> Vrai <input type="radio"/> Faux
2) Le carré est <u>le seul parallélogramme à avoir 4 angles droits.</u>	<input type="radio"/> Vrai <input type="radio"/> Faux
3) Les <u>diagonales</u> du rectangle ont <u>même longueur.</u>	<input type="radio"/> Vrai <input type="radio"/> Faux
4) Le losange a <u>4 côtés égaux,</u> comme le carré.	<input type="radio"/> Vrai <input type="radio"/> Faux
5) Les diagonales d'un parallélogramme <u>ne se coupent pas en leur milieu.</u>	<input type="radio"/> Vrai <input type="radio"/> Faux
6) Dans un carré ou un losange, les <u>diagonales</u> sont <u>perpendiculaires.</u>	<input type="radio"/> Vrai <input type="radio"/> Faux
7) Dans un parallélogramme quelconque, les <u>4 côtés</u> sont <u>égaux.</u>	<input type="radio"/> Vrai <input type="radio"/> Faux



Connaitre les propriétés des parallélogrammes.



Évaluation

Exercice n° 3

Construis les parallélogrammes suivants.

un carré
ABCD de 6 cm de côté

J'ai vérifié les mesures.

J'ai nommé les sommets.

J'ai codé les propriétés.

un
rectangle
EFGH de 4 cm de
large et 8 cm de long

J'ai vérifié les mesures.

J'ai nommé les sommets.

J'ai codé les propriétés.

un
losange
IJKL dont les
diagonales mesurent
6 cm et 10 cm

J'ai vérifié les mesures.

J'ai nommé les sommets.

J'ai codé les propriétés.


un
parallélogramme
MNOP de 5 cm
de large et 8 cm de long

J'ai vérifié les mesures.

J'ai nommé les sommets.

J'ai codé les propriétés.

Évaluation



Construire des parallélogrammes.



/12

