


Meurea



CEI

..... / /


PRÉNOM :



① Calcule ces trois sommes.

Il y a euros (€).

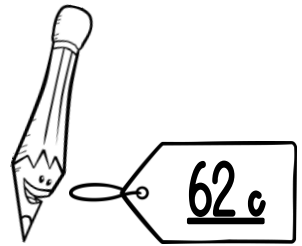


Il y a euros (€).





Il y a centimes d'euro (c).



② Dessine la somme d'argent nécessaire pour payer ces achats.




62c


3€20c

5€35c



③ Colorie les pièces qu'il faut pour faire 1 €.



Meurea



CEI

..... / /

PRÉNOM :



① Calcule ces trois sommes.



Il y a euros (€).




Il y a euros (€).




Il y a centimes d'euro (c).


② Dessine la somme d'argent nécessaire pour payer ces achats.



Empty box for drawing the sum of money needed to pay the pencil.




Empty box for drawing the sum of money needed to pay the pencil case.



Empty box for drawing the sum of money needed to pay the notebook.

③ Colorie les pièces qu'il faut pour faire 1 €.




Meurea

CEI

...../...../.....
 PRÉNOM :



① Calcule ces trois sommes.



Il y a 18 euros (€).

Il y a 25 euros (€).

Il y a 88 centimes d'euro (c).

② Dessine la somme d'argent nécessaire pour payer ces achats.

62c

3€20c

5€35c

③ Colorie les pièces qu'il faut pour faire 1 €.

Meurea


CE1

..... / /


PRÉNOM :



① Combien ces objets coutent-ils ?



Cet objet coute € c.





Cet objet coute € c.





Cet objet coute € c.

② Dessine la somme d'argent nécessaire pour payer ces achats.





③ Qui a le plus d'argent : Léa ou Tom ?



C'est qui a le plus d'argent.

Meurea

CEI

..... / /

PRÉNOM :



① Combien ces objets coutent-ils ?

Cet objet coûte € c.

Cet objet coûte € c.

Cet objet coûte € c.

② Dessine la somme d'argent nécessaire pour payer ces achats.

③ Qui a le plus d'argent : Léa ou Tom ?

C'est qui a le plus d'argent.

Meurea

CEI

...../...../.....

PRÉNOM :



① Combien ces objets coutent-ils ?

Cet objet coute 1 € 25 c.

Cet objet coute 3 € 12 c.

Cet objet coute 3 € 96 c.

② Dessine la somme d'argent nécessaire pour payer ces achats.

③ Qui a le plus d'argent : Léa ou Tom ?





C'est Tom qui a le plus d'argent.

Meurea


CE1

...../...../.....


PRÉNOM :



① Calcule ces trois sommes.

Il y a euros (€).

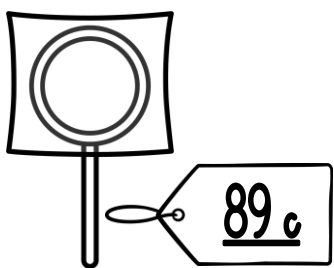


Il y a € et c.





Il y a € et c.



② Dessine la somme d'argent nécessaire pour payer ces achats.




89c



5€45c

17€60c



③ Dessine les pièces qu'il manque pour faire 1 €.





Meuree


CEI

...../...../.....

PRÉNOM :



① Calcule ces trois sommes.

Il y a euros (€).








Il y a € et c.




Il y a € et c.

② Dessine la somme d'argent nécessaire pour payer ces achats.

③ Dessine les pièces qu'il manque pour faire 1 €.




Meurea


CEI

...../...../.....


PRÉNOM :



① Calcule ces trois sommes.



Il y a 57 euros (€).








Il y a 33 € et 12 c.




Il y a 47 € et 75 c.

② Dessine la somme d'argent nécessaire pour payer ces achats.



③ Dessine les pièces qu'il manque pour faire 1 €.




Meurea


CEI

..... / /


PRÉNOM :



① Combien ces objets coutent-ils ?



Cet objet coute € c.





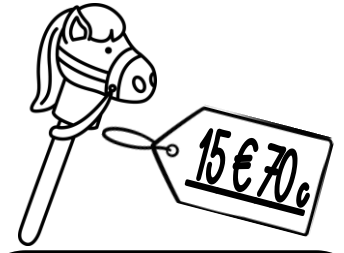



Cet objet coute € c.




Cet objet coute € c.

② Dessine la somme d'argent nécessaire pour payer ces jouets.

③ Qui a le plus d'argent : Zoé ou Léo ?




C'est qui a le plus d'argent.

Meuree

CE1

..... / /

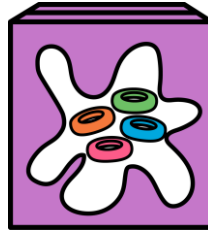
PRÉNOM :



① Combien ces objets coûtent-ils ?



Cet objet coûte € c.




Cet objet coûte € c.



Cet objet coûte € c.

② Dessine la somme d'argent nécessaire pour payer ces jouets.




Empty box for drawing money for the car.

Empty box for drawing money for the girl doll.

Empty box for drawing money for the horse toy.

③ Qui a le plus d'argent : Zoé ou Léo ?



C'est qui a le plus d'argent.

Meurea

CE1

..... / /

PRÉNOM :

① Combien ces objets coûtent-ils ?



Cet objet coûte 1 € 23 c.




Cet objet coûte 2 € 75 c.



Cet objet coûte 7 € 50 c.

② Dessine la somme d'argent nécessaire pour payer ces jouets.



③ Qui a le plus d'argent : Zoé ou Léo ?



C'est Léo qui a le plus d'argent.

Meurea


CE1

.../.../.....

PRÉNOM :




① Calcule ces trois sommes.



Il y a euros (€).




Il y a € et c.




Il y a € et c.

② Dessine la somme d'argent nécessaire pour payer ces achats.



Empty box for drawing money to pay the ice cream.





Empty box for drawing money to pay the ball.



Empty box for drawing money to pay the glasses.

③ Dessine ce qu'il manque pour faire 10 €.



Mesuree


CE1

.../.../.....

PRÉNOM :




① Calcule ces trois sommes.



Il y a euros (€).







Il y a € et c.




Il y a € et c.

② Dessine la somme d'argent nécessaire pour payer ces achats.



③ Dessine ce qu'il manque pour faire 10 €.



Meurea


CEI

...../...../.....

PRÉNOM :




① Calcule ces trois sommes.



Il y a 37 euros (€).




Il y a 72 € et 35 c.



Il y a 46 € et 80 c.

② Dessine la somme d'argent nécessaire pour payer ces achats.



③ Dessine ce qu'il manque pour faire 10 €.

