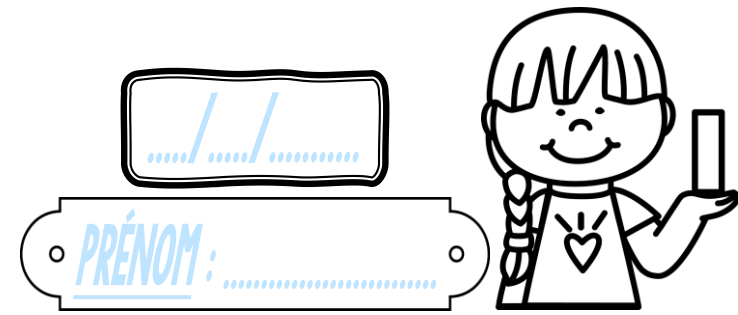


Calcul

CM2

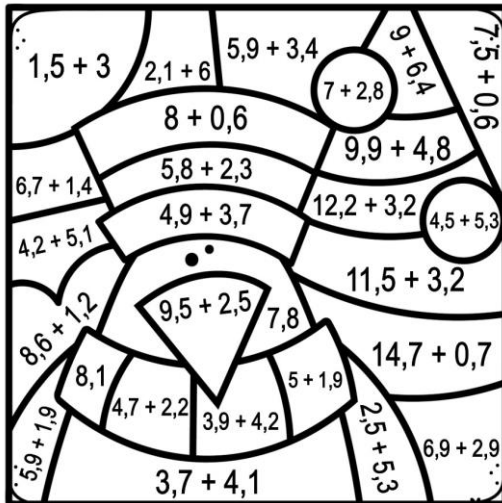


① Pose et effectue ces additions.

$14,53 + 7,64$	$432,59 + 69,7$	$57,32 + 6,085$	$361,49 + 75,67$	$188,5 + 45,93 + 6$

② Colorie selon le code-couleur !


4,5	Orange
6,9	Rose
7,8	Rouge
8,1	Bleu foncé
8,6	Gris foncé
9,3	Bleu clair
9,8	Blanc
12	Jaune
14,7	Vert foncé
15,4	Vert clair



③ Résous ce problème.

Au restaurant, Nathan a commandé un plat de spaghettis à 12,85 € et une coupe de glace à 3,7 €.

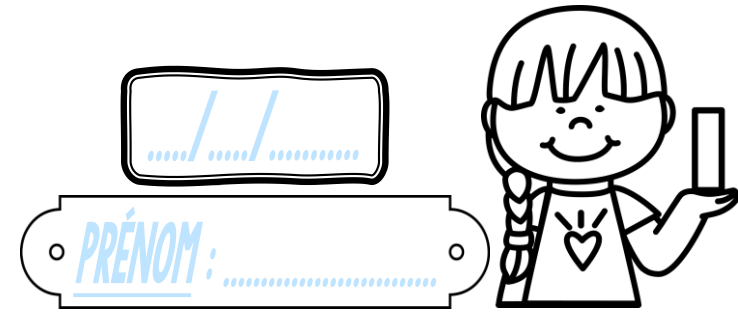
Combien son déjeuner lui a-t-il coûté ?



--

Calcul

CM2

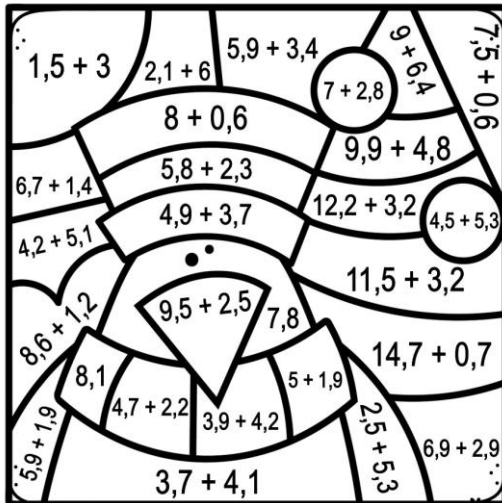


① Pose et effectue ces additions.

$14,53 + 7,64$	$432,59 + 69,7$	$57,32 + 6,085$	$361,49 + 75,67$	$188,5 + 45,93 + 6$

② Colorie selon le code-couleur !

4,5	Orange
6,9	Rose
7,8	Rouge
8,1	Bleu foncé
8,6	Gris foncé
9,3	Bleu clair
9,8	Blanc
12	Jaune
14,7	Vert foncé
15,4	Vert clair




③ Résous ce problème.

Au restaurant, Nathan a commandé un plat de spaghettis à 12,85 € et une coupe de glace à 3,7 €.

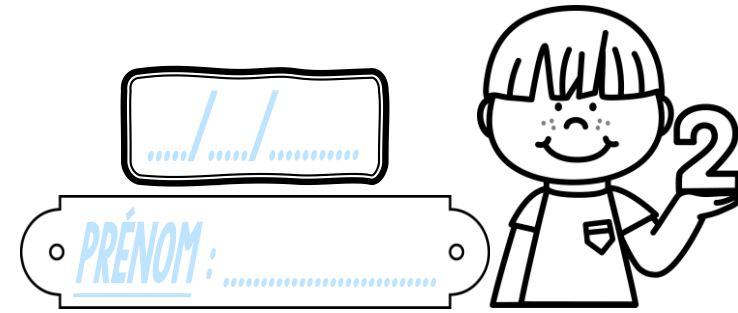
Combien son déjeuner lui a-t-il coûté ?

--



Calcul

CM2



① Pose et effectue ces additions.

$$72,62 + 45,851$$

$$384 + 28,52$$

$$65,045 + 7,96$$

$$43,7 + 39,68 + 5$$

$$275,2 + 63 + 7,49$$

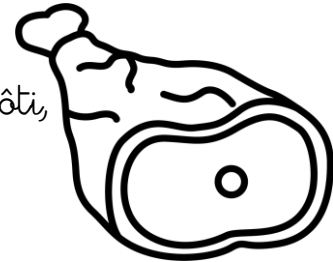
② Colorie chaque nombre de la même couleur que le calcul qui lui correspond.

5,4 9,2 8,6 1,8 + 1,9 7,5 + 1,7 3,7 2,3 + 3,5 3,6 + 1,8 5,8

③ Résous ce problème.

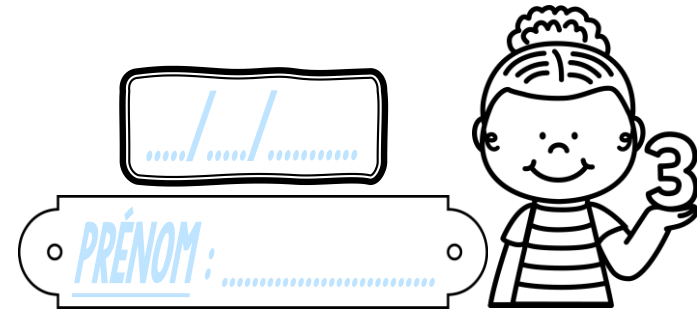
Le charcutier sert à Lucas pour 11 € de rôti, 3,8 € de pâté et 4,67 € de jambon.

Combien Lucas doit-il payer ?



Calcul

CM2



① Pose et effectue ces additions.

$93,7 + 85,844$	$127,3 + 34 + 6,5$	$47,51 + 8,9$	$38,6 + 5,487$	$8\,439 + 64,7$

② Colorie selon le code-couleur !

4,3	Jaune
5,1	Orange
6,5	Bleu clair
6,9	Bleu foncé
8,7	Rose
10,6	Rouge
14,8	Vert
15,4	Violet

③ Résous ce problème.

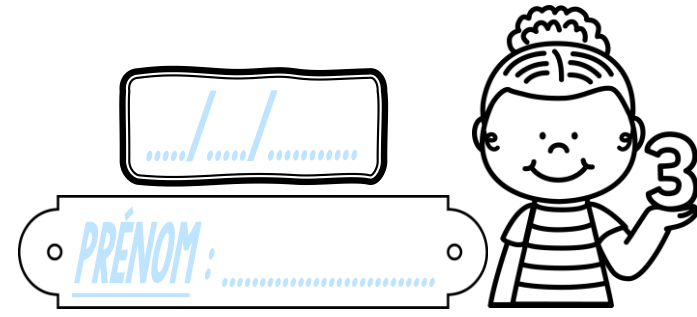
Pour son entrée au collège, les parents de Léo lui ont acheté un ordinateur à 574 € et une imprimante à 86,95 €.

Combien ont-ils dépensé en tout ?



Calcul

CM2



① Effectue ces additions.

$93,7 + 85,844$

9	3	7		
+	8	5	8	4

$127,3 + 34 + 65$

	1	2	7	3
+		3	4	
+			6	5

$47,51 + 8,9$

	4	7	5	1
+		8	9	

$38,6 + 5,487$

	3	8	6	
+		5	4	8

$8439 + 64,7$

	8	4	3	9
+			6	4
				7

② Colorie selon le code-couleur !

4,3	Jaune
5,1	Orange
6,5	Bleu clair
6,9	Bleu foncé
8,7	Rose
10,6	Rouge
14,8	Vert
15,4	Violet

③ Résous ce problème.

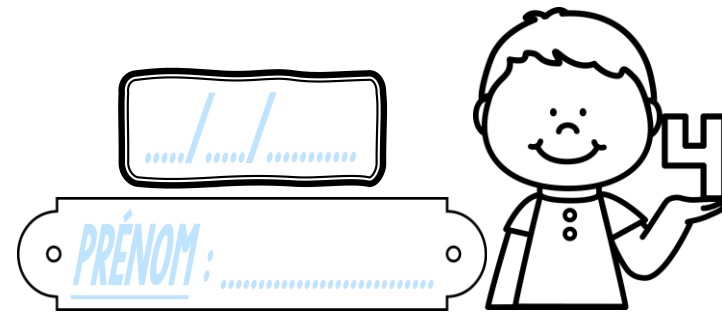
Pour son entrée au collège, les parents de Léo lui ont acheté un ordinateur à 574 € et une imprimante à 86,95 €.

Combien ont-ils dépensé en tout ?



Calcul

CM2



① Pose et effectue ces additions.

$$344 + 68,67$$

$$41,8 + 7,539$$

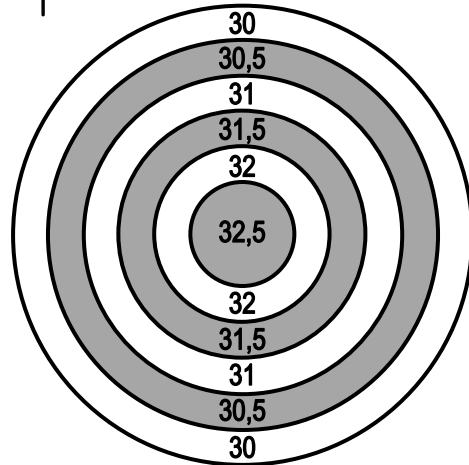
$$270,6 + 86,92$$

$$127,3 + 43 + 5,95$$

$$6\,734,6 + 96,8$$

② Prolonge les flèches pour les planter dans la bonne réponse.


- $24,5 + 5,5$
- $22,9 + 8,6$
- ✿ $21,2 + 9,3$
- $28,7 + 3,8$
- ✿ $26,8 + 5,2$
- $29,3 + 1,7$



③ Résous ce problème.

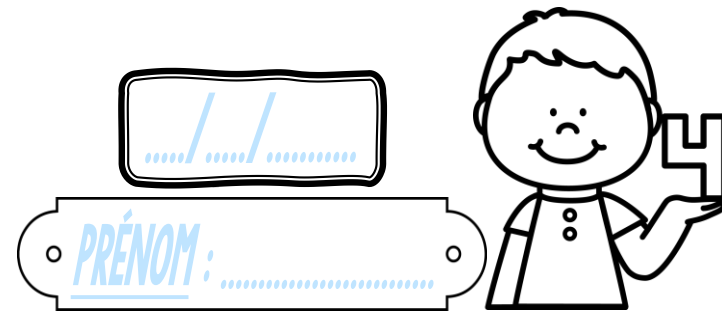
L'éléphant Bart pesait 6 142,5 kg. Il a pris 386,17 kg au cours de l'été.

Combien cet éléphant pèse-t-il aujourd'hui ?



Calcul

CM2



① Pose et effectue ces additions.

$$344 + 68,67$$

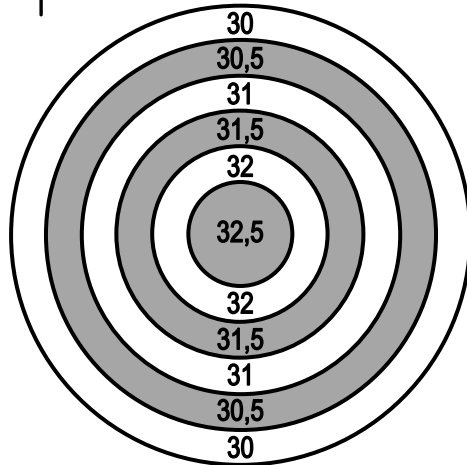
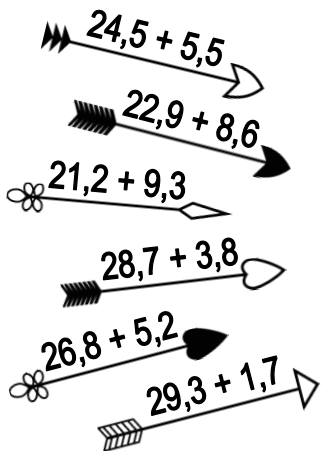
$$41,8 + 7,539$$

$$270,6 + 86,92$$

$$127,3 + 43 + 5,95$$

$$6\,734,6 + 96,8$$


② Prolonge les flèches pour les planter dans la bonne réponse.



③ Résous ce problème.


L'éléphant Bart pesait 6 142,5 kg. Il a pris 386,17 kg au cours de l'été.

Combien cet éléphant pèse-t-il aujourd'hui ?



Calcul

CM2




① Pose et effectue ces additions.

$774,5 + 69,08$	$34,83 + 26,6 + 8$	$591,27 + 64,3$	$42,68 + 9,517$	$803,4 + 56 + 8,91$

② Colorie selon le code-couleur !

15,7	Jaune
16,5	Gris foncé
18,2	Violet
23,4	Orange
25,9	Rose
27,3	Bleu foncé
30	Vert clair



③ Résous ce problème.


Pendant l'été, une voiture neuve vendue au prix de 14 639 € a vu son prix augmenter de 785,7 €.

Quel est le nouveau prix de cette automobile ?



Calcul

CM2




① Pose et effectue ces additions.

$774,5 + 69,08$	$34,83 + 26,6 + 8$	$591,27 + 64,3$	$42,68 + 9,517$	$803,4 + 56 + 8,91$

② Colorie selon le code-couleur !

15,7	Jaune
16,5	Gris foncé
18,2	Violet
23,4	Orange
25,9	Rose
27,3	Bleu foncé
30	Vert clair



③ Résous ce problème.

Pendant l'été, une voiture neuve vendue au prix de 14 639 € a vu son prix augmenter de 785,7 €.

Quel est le nouveau prix de cette automobile ?



