

# Je fais le point

Nom  Prénom  Date

<https://laclasselleve.fr/>

## L'addition des nombres entiers



### Exercice n° 1

Calcule en ligne.

$55 + 9 = \underline{\quad}$	$21 + 68 + 45 = \underline{\quad}$
$436 + 213 = \underline{\quad}$	$6\ 271 + 3\ 484 = \underline{\quad}$
$708 + 44 = \underline{\quad}$	$1\ 840 + 7 + 36 = \underline{\quad}$
$925 + 75 = \underline{\quad}$	$34 + 19 = \underline{\quad}$

Évaluation



Calculer en ligne des additions simples.



/

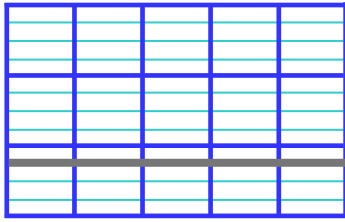


### Exercice n° 2

Pose et effectue ces additions.

Puis évalue un ordre de grandeur des résultats avant d'indiquer si ta réponse est vraisemblable.

$5\ 263 + 426$

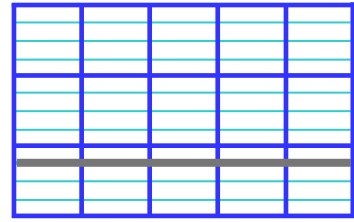


Ordre de grandeur

$_____ + _____ = _____$

Ma réponse me paraît vraisemblable :  Oui  Non

$7\ 681 + 4\ 027$

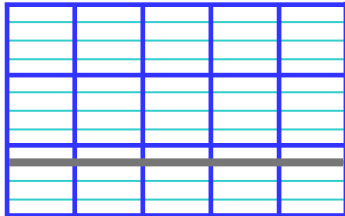


Ordre de grandeur

$_____ + _____ = _____$

Ma réponse me paraît vraisemblable :  Oui  Non

$1\ 679 + 3\ 284$

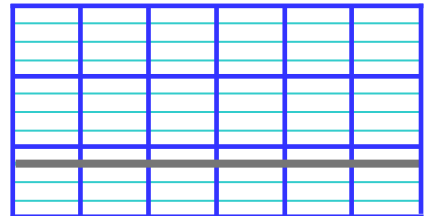


Ordre de grandeur

$_____ + _____ = _____$

Ma réponse me paraît vraisemblable :  Oui  Non

$15\ 037 + 8\ 295$




Ordre de grandeur

$_____ + _____ = _____$

Ma réponse me paraît vraisemblable :  Oui  Non

$41 + 9 + 6\ 740$




Ordre de grandeur

$_____ + _____ + _____ = _____$

Ma réponse me paraît vraisemblable :  Oui  Non

$27\ 548 + 664 + 3\ 813$



Ordre de grandeur

$_____ + _____ + _____ = _____$

Ma réponse me paraît vraisemblable :  Oui  Non



Évaluer l'ordre de grandeur d'une addition.



/18



Poser et effectuer une addition avec des entiers.



/18



### Exercice n° 3

Résous ces problèmes.

# N°1



Juliette achète un ordinateur portable au prix de 589 €. Elle achète également une imprimante multifonctions à 149 €, un bureau valant 215 € et un tapis de souris à 7 €. À combien revient cet équipement informatique ?



- J'ai rédigé une phrase d'annonce.
- J'ai écrit mon calcul en ligne avant de le poser et de l'effectuer.
- J'ai rédigé une phrase-réponse correctement construite.


# N°2



184 kilos



262 kilos




5 127 kilos

Ces 3 animaux du zoo grimpent ensemble sur une balance.  
Quelle masse totale celle-ci va-t-elle indiquer ?



- J'ai rédigé une phrase d'annonce.
- J'ai écrit mon calcul en ligne avant de le poser et de l'effectuer.
- J'ai rédigé une phrase-réponse correctement construite.



Résoudre des problèmes relevant de l'addition



/ 10


Évaluation

# Je fais le point

Nom  Prénom  Date

<https://laclasselleve.fr/>

## L'addition des nombres entiers



### Exercice n° 1

Calcule en ligne.

$55 + 9 = \underline{\quad}$	$21 + 68 + 45 = \underline{\quad}$
$436 + 213 = \underline{\quad}$	$6\ 271 + 3\ 484 = \underline{\quad}$
$708 + 44 = \underline{\quad}$	$1\ 840 + 7 + 36 = \underline{\quad}$
$925 + 75 = \underline{\quad}$	$34 + 19 = \underline{\quad}$

Évaluation



Calculer en ligne des additions simples.

/



### Exercice n° 2

Effectue ces additions.

Puis évalue un ordre de grandeur des résultats avant d'indiquer si ta réponse est vraisemblable.

$5\ 263 + 426$

	5	2	6	3
+		4	2	6
<hr/>				

Ordre de grandeur

\_\_\_\_\_ + \_\_\_\_\_ = \_\_\_\_\_

Ma réponse me paraît vraisemblable :  Oui  Non

$7\ 681 + 4\ 027$

	7	6	8	1
+	4	0	2	7
<hr/>				

Ordre de grandeur

\_\_\_\_\_ + \_\_\_\_\_ = \_\_\_\_\_

Ma réponse me paraît vraisemblable :  Oui  Non

$1\ 679 + 3\ 284$

	1	6	7	9
+	3	2	8	4
<hr/>				

Ordre de grandeur

\_\_\_\_\_ + \_\_\_\_\_ = \_\_\_\_\_

Ma réponse me paraît vraisemblable :  Oui  Non

$15\ 037 + 8\ 295$

	1	5	0	3	7
+		8	2	9	5
<hr/>					

Ordre de grandeur

\_\_\_\_\_ + \_\_\_\_\_ = \_\_\_\_\_

Ma réponse me paraît vraisemblable :  Oui  Non

$41 + 9 + 6\ 740$

	6	7	4	0
+			4	1
+				9
<hr/>				

Ordre de grandeur

\_\_\_\_\_ + \_\_\_\_\_ + \_\_\_\_\_ = \_\_\_\_\_

Ma réponse me paraît vraisemblable :  Oui  Non

$27\ 548 + 664 + 3\ 813$

	2	7	5	4	8
+		3	8	1	3
+			6	6	4
<hr/>					

Ordre de grandeur

\_\_\_\_\_ + \_\_\_\_\_ + \_\_\_\_\_ = \_\_\_\_\_

Ma réponse me paraît vraisemblable :  Oui  Non



Évaluer l'ordre de grandeur d'une addition.



/18

Effectuer une addition avec des entiers.



/18

Exercice n° 3

Résous ces problèmes.

# N°1



Juliette achète un ordinateur portable au prix de 589 €. Elle achète également une imprimante multifonctions à 149 €, un bureau valant 215 € et un tapis de souris à 7 €. À combien revient cet équipement informatique ?



J'ai rédigé  
une phrase d'annonce.

J'ai écrit

mon calcul en ligne avant de le poser et de l'effectuer.

J'ai rédigé une phrase-réponse correctement construite.


# N°2



184 kilos



262 kilos




5 127 kilos

Ces 3 animaux du zoo grimpent ensemble sur une balance.  
Quelle masse totale celle-ci va-t-elle indiquer ?



- J'ai rédigé une phrase d'annonce.
- J'ai écrit mon calcul en ligne avant de le poser et de l'effectuer.
- J'ai rédigé une phrase-réponse correctement construite.



Résoudre des problèmes relevant de l'addition



/ 10

Évaluation